



الثقافة العامة

لِغَدِ الأُمِّيَّةِ وَتَعْلِيمِ الكِبَارِ

طبعة 1444 - 2022

الحلقة الثانية | الفصل الدراسي الأول

التأليف والمراجعة العلمية والتربوية
خبراء تربويين وأكاديميين من
إدارة المناهج الدراسية ومصادر التعلم



حضرة صاحب السمو الشيخ تميم بن حمد آل ثاني
أمير دولة قطر

النشيد الوطني

قَسَمًا بِمَنْ رَفَعَ السَّمَاءَ قَسَمًا بِمَنْ نَشَرَ الضِّيَاءَ
قَطَرٌ سَتَبْقَى حُرَّةً تَسْمُو بِرُوحِ الْأَوْفِيَاءِ
سِيرُوا عَلَى نَهْجِ الْأَلَى وَعَلَى ضِيَاءِ الْأَنْبِيَاءِ
قَطَرٌ بِقَلْبِي سِيرَةٌ عِزٌّ وَأَمْجَادُ الْإِبَاءِ
قَطَرُ الرَّجَالِ الْأَوَّلِينَ حُمَاتُنَا يَوْمَ النِّدَاءِ
وَحَمَائِمُ يَوْمِ السَّلَامِ جَوَارِحُ يَوْمِ الْفِدَاءِ

بِسْمِ اللَّهِ الرَّحْمَنِ الرَّحِيمِ

عبدالله بن محمد

١٢٧

بِسْمِ اللَّهِ الرَّحْمَنِ الرَّحِيمِ

الْحَمْدُ لِلَّهِ رَبِّ الْعَالَمِينَ، وَالصَّلَاةُ وَالسَّلَامُ عَلَى خَيْرِ خَلْقِ اللَّهِ
أَجْمَعِينَ وَبَعْدُ:

انطلاقاً من إيمان دولة قطر بأنَّ التَّعليمَ دَعَامَةُ أُسَاسِيَّةٌ مِنْ
دَعَائِمِ تَقْدُّمِ الْمُجْتَمَعِ، وَأَنَّ الدَّوْلَةَ تَكْفُلُهُ وَتَرْعَاهُ، وَأَنَّهَا تَسْعَى
لِنُشْرِهِ وَتَعْمِيمِهِ، وَتَأْكِيداً عَلَى مَبْدَأِ أَنَّ التَّعليمَ حَقٌّ لِلْجَمِيعِ
عَمَلَتِ وَزَارَةُ التَّربيةِ وَالتَّعليمِ وَالتَّعليمِ الْعَالِي، مُمَثِّلَةً بِإِدارَةِ
الْمناهجِ الدِّرَاسِيَّةِ وَمَصَادِرِ التَّعْلُمِ عَلَى إِعْدَادِ «الإطارِ العامِ
لِبرنامِجِ مَحَوِّ الأُمِّيَّةِ وَتعليمِ الكِبَارِ»، وَتَطْوِيرِ مَنَاهِجِهِ الدِّرَاسِيَّةِ
لِتَكُونَ مُعِينًا لِلْمُتَعَلِّمِينَ عَلَى تَطْوِيرِ مَعَارِفِهِمْ وَمَهَارَاتِهِمْ وَتَنْمِيَةِ
ثَقَافَتِهِمْ فِي مُخْتَلَفِ الْمَجَالَاتِ.

وقد جَاءَ إِعْدَادُ كِتَابِ الثَّقَافَةِ الْعَامَةِ لِلْحَلَقَةِ الثَّانِيَةِ كَأَحَدِ
نَتَاجَاتِ هَذَا الْبَرنامِجِ، حَيْثُ تَكَامَلَتْ فِيهِ مَادَّةُ الدِّرَاسَاتِ
الاجْتِمَاعِيَّةِ مَعَ الْعُلُومِ الْعَامَةِ فِي إِطارِ مُوَحَّدٍ تَحْتَ مِظَلَّةِ مَادَّةِ
الثَّقَافَةِ الْعَامَةِ لِتَحْقِيقِ الْمَعَايِيرِ الْوِطْنِيَّةِ وَالْدَوْلِيَّةِ لِلْمَنهَاجِ
بِمَا يَتَنَاسَبُ مَعَ الْمُسْتَوَى الْمُسْتَهْدَفِ، وَالْحَثُّ عَلَى التَّسَاوُلِ
والتَّفْكِيرِ والنِّقَاشِ لِلتَّوَصُّلِ إِلَى الْمَعْرِفَةِ وَالْإِبْتِعَادِ عَنِ التَّلَقُّينِ
وَسَرْدِ الْمَعْلُومَاتِ وَالتَّكْرَارِ كَمَا رُوِيَ مَسْتَوَى الطَّلَبَةِ الْمَعْرِفِيِّ

والمهاريّ من خلال عَرْضِ المُحتوى بأسلوبٍ جاذِبٍ بِاستِخدامِ
الصُّورِ كَوَسِيلَةٍ أَسَاسِيَةٍ لِتَوْصِيلِ المَعْلُومَةِ بِما يَدْعَمُ تَطوُّرَ
المَهَارَةِ اللُّغَوِيَّةِ وَالكِتَابِيَّةِ، وَرُوعِي كَذَلِكَ حَجْمُ النصوصِ
المُوظَفةِ وَمُتَطَلِبَاتُ الكِتَابَةِ واستِخدامِ التَّقْيِيمِ الذَاتِي لمُساعدَةِ
الطَلِبَةِ على تَقْيِيمِ تَعَلُّمِهِمِ ذَاتِيًّا، وَتَحْدِيدِ احتِياجاتِهِمِ المَعْرِفِيَّةِ
والمَهَارِيَّةِ، وَتَضْمِينِ المُحتوى أَسْئَلَةً تَقْوِيمِيَّةً مُتَنَوِّعَةً مَعَ نِهَايَةِ
كُلِّ دَرَسٍ لِتَقْيِيمِ عَمَلِيَةِ التَّعَلُّمِ.

وَخِتَامًا؛ نَسْأَلُ اللهَ العَلِيِّ القَدِيرَ أَنْ يَرْزُقَنَا الإِخْلَاصَ والقَبُولَ،
وَأَنْ يُوفِّقَ مُعَلِّمِينَا وَيُعِينَهُمُ على تَحْمُلِ المَسْئُولِيَّةِ وَأَدَاءِ الأَمَانَةِ،
وَتَقْدِيمِ هَذِهِ المَادَّةِ بِطَرِيقَةٍ شَائِقَةٍ وَمُمْتِعَةٍ.

المُؤَلِّفون

10 الوحدة الأولى: الهوية والوطن

12 الدرس الأول: أسرة آل ثاني

22 الدرس الثاني: الهوية الوطنية

32 الدرس الثالث: موقع دولة قطر

40 الوحدة الثانية: القيادة والوطن

42 الدرس الأول: صاحب السمو الشيخ تميم بن حمد آل ثاني

52 أمير دولة قطر

62 الدرس الثاني: التراث

62 الدرس الثالث: الأنشطة الاقتصادية في دولة قطر

76 الوحدة الثالثة: العظام والعضلات

78 الدرس الأول: الجهاز الهيكلي

88 الدرس الثاني: الجهاز العضلي

96 الوحدة الرابعة: خصائص وحالات المادة

98 الدرس الأول: خصائص المادة

108 الدرس الثاني: حالات المادة الثلاث

122 الوحدة الخامسة: الحرارة ودرجة الحرارة

124 الدرس الأول: قياس درجة الحرارة

138 الدرس الثاني: التغير في درجة الحرارة

اشتمَل الكتابُ على مجموعةٍ من الأيقوناتِ المُختلفةِ
استُخدمتْ للتعبير عن التعليمات التي يحتاج الطلاب
إلى اتباعها.

الأيقونة	التعليمات	المعنى
	تأمل أو لاحظ	سُتعرض عليك صورة لمشاهدتها
	ضع دائرة	سيُطلب منك وضع دائرة على أحد الاختيارات
	اكتب	سيُطلب منك الإجابة على سؤال
	ناقش	سنناقش موضوعاً مع المعلم أو الزملاء
	أجب	سيتم طرح سؤال
	استنتج	تحتوي خلاصة الدرس
	استمع	سيُطلب إليك الاستماع إلى المعلم أو جهة أخرى
	أضف إلى معلوماتك	تحتوي معلومات إضافية عن الموضوع
	اقرأ وأجب	سيتم عرض فقرة للقراءة وطرح الأسئلة
	إبحث	سيُطلب منك البحث عن معلومة محددة.

الوَحْدَةُ الْأُولَى الهُويَّةُ وَالْوَطَنُ





في نهاية هذه الوحدة سوف:

- أرتب فترات حكام أسرة آل ثاني باستخدام الخط الزمني.
- استخدم الخط الزمني في حساب فترات حكم حكام أسرة آل ثاني.
- اتبع خط سير أسرة آل ثاني من منطقة نجد حتى الدوحة.
- أبين دور أسرة آل ثاني في توحيد قبائل قطر وتأسيس الإمارة.
- أحدد مكونات الهوية الوطنية.
- أربط بين مفهوم الوطن والمواطن والانتماء.
- أحدد موقع دولة قطر بالنسبة للعالم.

قِيَمَةُ الدَّرْسِ

أَعْتَزُّ بِرُمُوزِ وَتَارِيخِ وَطَنِي قَطَرِ.



أَصِفْ مَا أَشَاهَدُ فِي الصُّورَةِ.



كَلِمَاتٌ مِفْتَاحِيَّةٌ

الهجرة
اتفاقية

1. أُسْرَةُ آلِ ثَانِي

أَقْرَأْ وَأُجِيبْ:



كَانَتْ حَيَاةُ الْقَبَائِلِ الْعَرَبِيَّةِ فِي شِبْهِ الْجَزِيرَةِ الْعَرَبِيَّةِ تَعْتَمِدُ عَلَى التَّرْحَالِ بَحْثًا عَنْ أَمَاكِنِ الرِّعْيِ وَمَوَارِدِ الْمِيَاهِ، وَلِهَذَا هَاجَرَتْ الْكَثِيرُ مِنَ الْقَبَائِلِ مِنْ دَاخِلِ الْجَزِيرَةِ الْعَرَبِيَّةِ إِلَى سَوَاحِلِهَا، وَمِنْ تِلْكَ الْقَبَائِلِ قَبِيلَةُ بَنِي تَمِيمٍ وَالتِّي كَانَتْ تَسْكُنُ فِي مَنَاطِقَةِ نَجْدٍ، حَيْثُ انْتَشَرَتْ فُرُوعُهَا فِي أَرْجَاءِ الْجَزِيرَةِ الْعَرَبِيَّةِ وَمِنْهَا قَطْرَ.

لَا حَظَّ خَرِيطَةً شِبْهِ الْجَزِيرَةِ الْعَرَبِيَّةِ شَكْلَ (1) ثُمَّ تَعَاوَنَ مَعَ زَمِيلِكَ وَأَجِبْ عَمَّا يَلِي:



شَكْل (1) خَرِيطَةُ شِبْهِ الْجَزِيرَةِ الْعَرَبِيَّةِ

1 مَا أَسْبَابُ هِجْرَةِ الْقَبَائِلِ فِي شِبْهِ الْجَزِيرَةِ الْعَرَبِيَّةِ؟

1

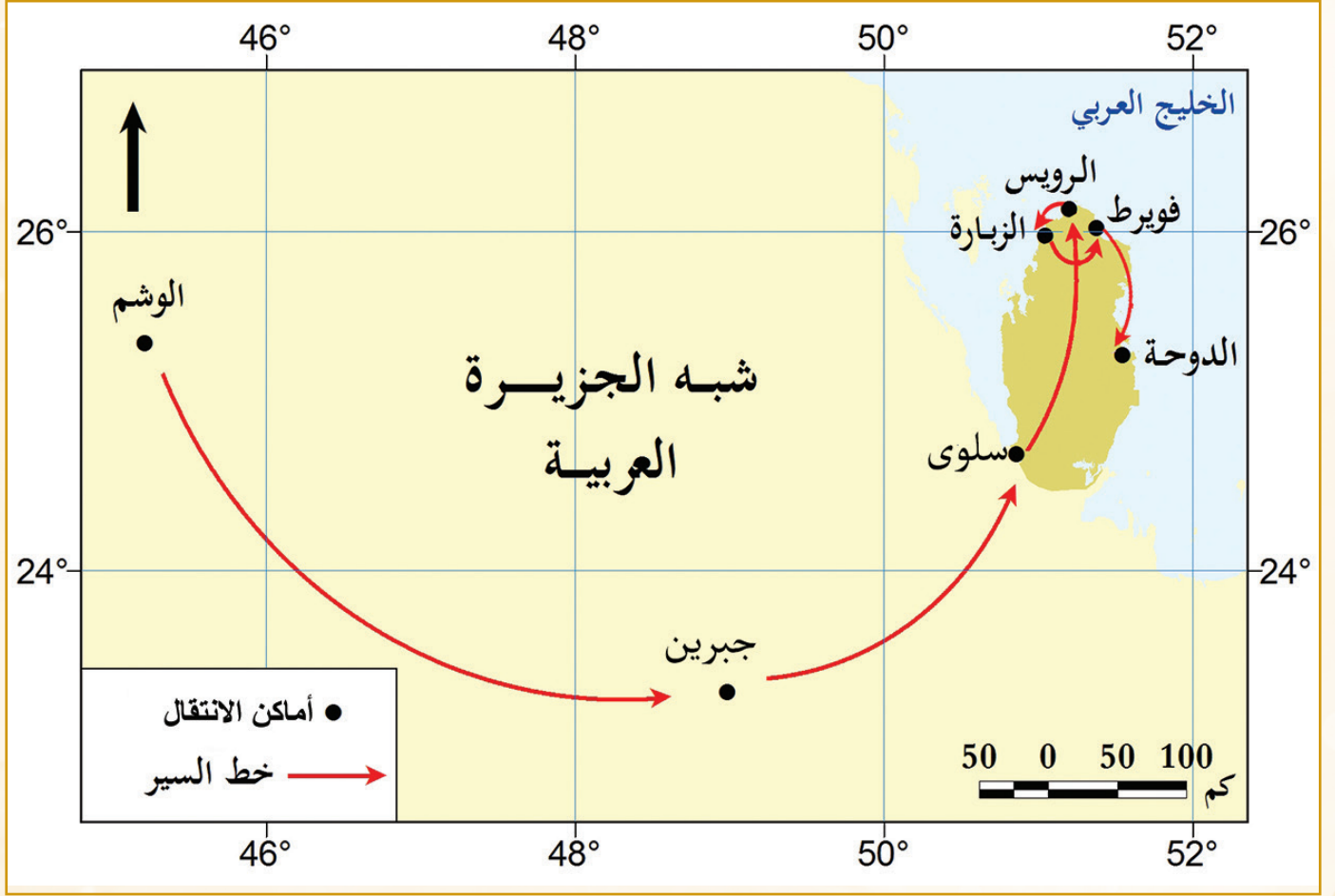
2 أَيْنَ هَاجَرَتْ قَبِيلَةُ بَنِي تَمِيمٍ؟

2

- هَاجَرَتْ الْقَبَائِلُ الْعَرَبِيَّةُ وَمِنْهَا قَبِيلَةُ بَنِي تَمِيمٍ مِنْ دَاخِلِ الْجَزِيرَةِ الْعَرَبِيَّةِ إِلَى سَوَاحِلِهَا بَحْثًا عَنْ الْمَرَاغِي وَمَوَارِدِ الْمِيَاهِ.
- انْتَشَرَتْ فُرُوعُ قَبِيلَةِ بَنِي تَمِيمٍ فِي قَطْرَ وَأَرْجَاءِ الْجَزِيرَةِ الْعَرَبِيَّةِ.



اسْتَنْتِجْ



شكل (2) خَطُّ سَيْرِ أُسْرَةِ آلِ ثَانِي حَتَّى اسْتَقْرَارِهِمْ بِالدُّوْحَةِ

أَقْرَأْ وَأُجِيبْ:



نَشَاطٌ

مِنْ دِرَاسَتِكَ لِلخَرِيطَةِ السَّابِقَةِ تَتَبَّعْ خَطَّ سَيْرِ أُسْرَةِ آلِ ثَانِي مِنْ
مَنْطَقَةِ نَجْدٍ إِلَى قَطْرِ:



أَضِفْ إِلَى مَعْلُومَاتِكَ:

وُلِدَ جَدُّ الْأُسْرَةِ ثَانِي بْنُ مُحَمَّدٍ
فِي مَدِينَةِ الزُّبَارَةِ وَاشْتَهَرَ بِأَنَّهُ
مِنْ كِبَارِ تُجَّارِ اللُّؤْلُؤِ.

1. الوَشم

.

2.

3.

4.

5.

6.

7. الدُّوْحَةُ.

.

يَرْجِعُ نَسَبُ أُسْرَةِ آلِ ثَانِي إِلَى قَبِيلَةِ بَنِي تَمِيمٍ، وَلَقَدْ هَاجَرَتْ أُسْرَةُ آلِ ثَانِي مِنْ
الْوَشْمِ بِنَجْدٍ فِي الْجَزِيرَةِ الْعَرَبِيَّةِ، حَيْثُ وَصَلُوا إِلَى قَطْرِ فِي أَوَائِلِ الْقَرْنِ الثَّامِنِ
عَشَرَ، وَكَانَ خَطُّ سَيْرِهِمْ مِنَ الْوَشْمِ ثُمَّ وَاحِدَةِ جَبْرِينَ وَمِنْهَا إِلَى جَنُوبِ قَطْرِ،
ثُمَّ انْتَقَلُوا شَمَالاً إِلَى الرُّؤَيْسِ وَالزُّبَارَةِ ثُمَّ فُويَرتُ وَاسْتَقَرُّوا فِي الدُّوْحَةِ، وَلَقَدْ
سُمِّيَتْ أُسْرَةُ آلِ ثَانِي نِسْبَةً إِلَى جَدِّهِمْ ثَانِي بْنِ مُحَمَّدٍ.



اسْتَنْتِجْ

2. حُكَّامُ أُسْرَةِ آلِ ثَانِي

فَكِّرُوا أَجِبْ: ?

تَعَاوُنْ مَعَ زَمِيلِكَ وَتَتَبَعْ الْخَطَّ الزَّمَنِي لِحُكَّامِ أُسْرَةِ آلِ ثَانِي وَأَجِبْ عَمَّا يَلِي:

الشيخ محمد بن ثاني. الشيخ جاسم بن محمد بن ثاني. الشيخ عبد الله بن جاسم آل ثاني. الشيخ علي بن عبد الله آل ثاني.



الْخَطُّ الزَّمَنِيُّ لِحُكَّامِ أُسْرَةِ آلِ ثَانِي

من خلال الخط الزمني لحكام أسرة آل ثاني أجب عن الأسئلة الآتية: ?

1. أول حُكَّامِ أُسْرَةِ آلِ ثَانِي هُوَ:

2. مَنْ مُؤَسِّسُ دَوْلَةِ قَطَرْ؟

3. احسب مُدَّةَ حُكْمِ الْأَمِيرِ الْوَالِدِ الشَّيْخِ حَمَدِ بْنِ خَلِيفَةِ آلِ ثَانِي.

- أول حاكم لدولة قطر من أسرة آل ثاني هو الشيخ محمد بن ثاني.
- مؤسس دولة قطر الشيخ جاسم بن محمد بن ثاني.



3. الشَّيْخُ مُحَمَّدُ بْنُ ثَانِيٍ مِنْ 1851م - 1878م

- وُلِدَ الشَّيْخُ مُحَمَّدُ بْنُ ثَانِيٍ فِي فَوِيرِطَ بِالشَّامَالِ الشَّرْقِيِّ مِنْ قَطْرَ، ثُمَّ انْتَقَلَ بِأُسْرَتِهِ لِلإِسْتِقْرَارِ فِي الدَّوْحَةِ (البِدْع) وَأَصْبَحَ زَعِيمًا لَهَا، وَامْتَدَّ نَفُوذُهُ إِلَى جَمِيعِ أَنْحَاءِ قَطْرَ.
- أَصْبَحَ الشَّيْخُ مُحَمَّدُ بْنُ ثَانِيٍ حَاكِمًا عَلَى قَطْرَ فِي عَامِ 1851م حَيْثُ حَقَّقَ بِقُوَّةِ شَخْصِيَّتِهِ تَوْحِيدَ الْقَبَائِلِ الْقَطْرِيَّةِ وَقِيَادَتَهَا تَحْتَ رَايَةٍ وَاحِدَةٍ.



- وَقَعَ الشَّيْخُ مُحَمَّدُ بْنُ ثَانِيٍ فِي عَامِ 1868م مُعَاهِدَةً مَعَ بَرِيطَانِيَا ثُمَّ الْإِعْتِرَافُ بِهَا بِإِسْتِقْلَالِيَّةِ قَطْرَ بِزَعَامَةِ الشَّيْخِ مُحَمَّدِ بْنِ ثَانِيٍ.
- تُوُفِيَ الشَّيْخُ مُحَمَّدُ بْنُ ثَانِيٍ عَامَ 1878م وَتَوَلَّى الْحُكْمَ بَعْدَهُ ابْنُهُ الشَّيْخُ جَاسِمُ بْنُ مُحَمَّدِ بْنِ ثَانِيٍ.

أَبْحَثْ وَأُجِيبْ:



- بِالِاسْتِعَانَةِ بِمَوْقِعِ الدِّيَّوَانِ الْأَمِيرِيِّ: [https:// www.diwan.gov.qa](https://www.diwan.gov.qa)
إِخْتَرْ حَاكِمًا مِنْ حُكَّامِ أُسْرَةِ آلِ ثَانِيٍ وَأَكْتُبْ عَنْهُ فِقْرَةً تَارِيخِيَّةً وَنَاقِشْهَا مَعَ مَعْلَمِكَ وَزُمْلَانِكَ.

أَهْمُ إِنْجَازَاتِ الشَّيْخِ مُحَمَّدِ بْنِ ثَانِيٍ:

- تَوْحِيدُ الْقَبَائِلِ الْقَطْرِيَّةِ.
- تَوْقِيعُ مُعَاهِدَةِ 1868م مَعَ بَرِيطَانِيَا الَّتِي تَمَّ بِهَا الْإِعْتِرَافُ بِقَطْرَ كِيَانًا مُسْتَقْلًا.



ماذا تَعَلَّمْتَ؟

أولاً: أَقِيمْ تَحْقِيقِي لِأَهْدَافِ الدَّرْسِ بِوَضْعِ إِشَارَةٍ (✓) .

- ☐ تُهاجرُ القبائلُ العربيَّةُ بحثًا عن المَراعِي والمِياهِ.
- ☐ انتشرتُ قبيلةُ بني تميمٍ في أنحاءِ الجزيرةِ العربيَّةِ بما فيها قَطَرٍ .
- ☐ يَرجعُ نَسَبُ أُسرةِ آلِ ثانيٍ إلى قبيلةِ بني تميمٍ.
- ☐ بدأ خَطُّ سَيرِ آلِ ثانيٍ من مَنطقةِ نَجْدٍ وانتهى في مَدِينَةِ الدَّوْحَةِ.
- ☐ نَجَحَ الشَّيْخُ مُحَمَّدُ بْنُ ثَانيٍ في تَوحيدِ القبائلِ القَطَريَّةِ ووقَّعَ اتِّفاقِيَّةً مَعَ بَريطانيا.

ثانيًا: التَّدْرِيبَات

1 أضعُ إشارة (✓) أمامَ العبارةِ الصَّحيحةِ، وإشارة (x) أمامَ العبارةِ الخطأ.

- ☐ هاجرتُ القبائلُ العربيَّةُ من وَسَطِ الجَزيرةِ العربيَّةِ إلى سَواحلِها.
- ☐ وصلتُ أسرةُ آلِ ثانيٍ إلى قِطْرِ في أوائلِ القرنِ السَّابعِ عشرِ.
- ☐ حَطُّ سَيرِ أسرةِ آلِ ثانيٍ يَبْدَأُ من مَنطقةِ الوُشمِ بَنَجْدٍ.

2 اخترِ الإجابةَ الصَّحيحةَ من بَيْنِ البَدَائِلِ الآتية:

1. وقَّعَ الشَّيْخُ مُحَمَّدُ بْنُ ثَاني عام 1868م اتِّفاقيةً مع:

ب- فرنسا

أ- بريطانيا

د- إيطاليا

ج- إسبانيا

2. انتقلَ الشَّيْخُ مُحَمَّدُ بْنُ ثَاني وأُسْرَتُهُ لمدينةِ الدَّوحةِ قَادمًا من:

ب - مَدِينَةِ الرُّوسِ

أ- مَدِينَةِ فُويرِط


د- الخُور

ج - مَدِينَةُ الرُّبَارَةِ

أُكْمَلُ الْخَطَّ الزَّمَنِي لِحُكَّامِ أُسْرَةِ آلِ ثَانِي:

3

.....
.....



1960 - 1949 م

4



1949 - 1913 م

3



1913 - 1878 م

2



1878 - 1851 م

1

قيمة الدّرس

اعتزُّ بهويّتي الوطنيّة القطريّة وأتمسكُ بها.



أَصِفْ مَا أَشَاهِدُ فِي الصُّورَةِ.



كَلِمَاتٌ مِفْتَاحِيَّةٌ

الْوَطَنُ
الهَوِيَّةُ الْوَطَنِيَّةُ الْقَطَرِيَّةُ

1. الهُوِيَّةُ الْوَطَنِيَّةُ

أَقْرَأْ وَأُجِيبْ:



أَنَا حَمْدٌ، مُوَاطِنٌ وَاحِدٌ أَفْرَادِ الشَّعْبِ الْقَطْرِي، دِينُنَا الْإِسْلَامُ، وَلُغَتُنَا اللُّغَةُ الْعَرَبِيَّةُ،
لُغَةُ الْقُرْآنِ الْكَرِيمِ. يَجْمَعُنَا مَعًا الْوَطَنُ الْوَاحِدُ، قَطْرُ الْعِزَّةِ وَالتَّارِيخُ الْمَشْتَرِكُ الَّذِي
صَنَعَهُ أَجْدَادُنَا وَأَبَاؤُنَا، الَّذِينَ وَرَثْنَا عَنْهُمْ الْقِيَمَ وَالْعَادَاتِ وَالتَّقَالِيدَ الَّتِي نَعْتَزُّ بِهَا.
وَنَحْنُ بِإِذْنِ اللَّهِ سَنُحَافِظُ عَلَى هَذَا التَّارِيخِ، وَسَوْفَ نَصْنَعُ الْمُسْتَقْبَلَ الْمَشْرِقَ لَوَطَنِنَا
الْغَالِي.

1. مَا الْمَشْتَرِكُ بَيْنَكَ وَبَيْنَ حَمْدٍ؟

2. مَا الَّذِي يَدُلُّ عَلَى أَنْ حَمْدًا مُوَاطِنٌ قَطْرِي؟

3. مَا الَّذِي يَجْمَعُ بَيْنَ أَبْنَاءِ الشَّعْبِ الْقَطْرِيِّ؟



الْأَحِظْ وَأُجِيبْ:

نَشَاطٌ

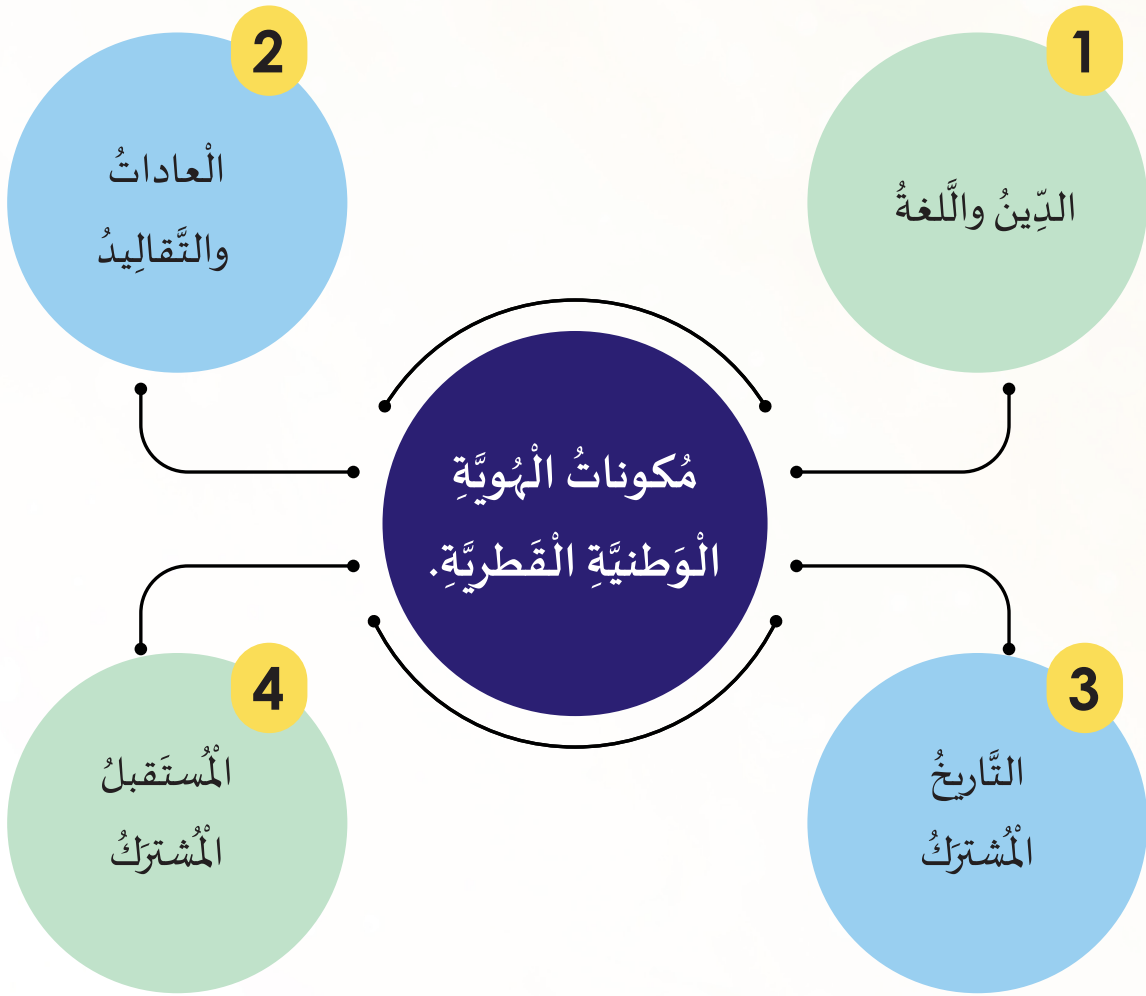
• الْأَحِظْ الشِّعَارَ الْآتِي ثُمَّ أَعْبِرْ بِجُمْلَةٍ تَصِفُ بِهَا هَذَا الشِّعَارَ.

الْوَطَنُ: هُوَ الْمَكَانُ الَّذِي يُمَثِّلُ هُوِيَّتَنَا الَّتِي نَفْتَخِرُ بِهَا، وَهُوَ الْمَكَانُ الَّذِي نَلْجَأُ لَهُ
وَنَشْعُرُ فِيهِ بِالْأَمَانِ، فَهُوَ نِعْمَةٌ مِنَ اللَّهِ أَنْعَمَهَا عَلَيْنَا.
الْهُوِيَّةُ الْوَطَنِيَّةُ الْقَطْرِيَّةُ: هِيَ السِّمَاتُ الَّتِي يَتَمَيَّزُ بِهَا الشَّعْبُ الْقَطْرِيُّ عَنِ
الشُّعُوبِ الْأُخْرَى وَتَبَرُّرُ فِي الْمَحَافِظَةِ عَلَى تَقَالِيدِهِمِ الثَّقَافِيَّةِ وَقِيَمِهِمِ بِوصْفِهِمِ
دَوْلَةً عَرَبِيَّةً إِسْلَامِيَّةً وَتُظْهِرُ رُوحَ الْإِنْتِمَاءِ لَدَى أَبْنَاءِ الْوَطَنِ.



اسْتَنْتِجْ

2. مُكوّناتُ الْهُويَّةِ الْوَطَنِيَّةِ الْقَطْرِيَّةِ



نَشَاطٌ
(يَشْتَرِكُ الْمُجْتَمَعُ الْقَطْرِيُّ فِي عِدَّةِ سِمَاتٍ وَخَصَائِصٍ تُمَيِّزُهُ عَنِ
الْمُجْتَمَعَاتِ الْأُخْرَى)

فِي ضَوْءِ الْعِبَارَةِ السَّابِقَةِ :

أَكْتُبْ ثَلَاثَ جُمَلٍ تُعَبِّرُ بِهَا عَنِ هُويَتِكَ الْوَطَنِيَّةِ الْقَطْرِيَّةِ.



1 الدِّينُ وَاللِّغَةُ

الدِّينُ هُوَ الْإِسْلَامُ وَاللِّغَةُ الْعَرَبِيَّةُ هِيَ لُغَةُ الْقُرْآنِ، وَهُمَا رَابِطَانِ يَشْتَرِكُ فِيهِمَا أَبْنَاءُ الْمُجْتَمَعِ الْقَطْرِيِّ، وَتَوْحِيدُ صَفَّهِمُ، وَتَجْعَلُهُمْ جُزْءًا لَا يَتَجَزَّأُ مِنَ الْعَالَمِ الْعَرَبِيِّ وَالْإِسْلَامِيِّ.



2 الْعَادَاتُ وَالتَّقَالِيدُ

هِيَ الْقِيَمُ الَّتِي تَتَوَارَثُهَا الْأَجْيَالُ وَالتَّمَسُّكُ بِهَا، يَعْنِي الْإِلْتِمَامُ بِالْأَصَالَةِ، وَيَشْتَرِكُ فِيهَا جَمِيعُ أَبْنَاءِ الْمُجْتَمَعِ الْقَطْرِيِّ، وَتُشَكِّلُ جُزْءًا مُهِمًّا مِنْ ثَقَافَةِ الْمُجْتَمَعِ وَسُلُوكِهِ.



التاريخ المشترك هو مجموعة الأحداث التي مرَّ بها الآباء والأجداد، وجعلتهم أبناء هويّة واحدة. حيث شهدت بلادنا على مدار تاريخها العديد من الأحداث التاريخية التي شاركت فيها القبائل القطريّة، وحققت فيها انتصاراتٍ مثل معركة الوجبة.

يشترك أبناء المجتمع القطري في مستقبل واحد، لذا يجب عليهم العمل والتعاون في تحقيق الإنجازات بكل إخلاص، ومواجهة التحديات في جميع المجالات. حيث إنّ رؤية قطر الوطنيّة 2030 تحدّد الأهداف العامّة للمستقبل، وتبرز القيم التي تعكس طموحات شعب قطر وثقافته.

نشاط
باستخدام مركز مصادر التعلم اكتب ثلاث جمل عن رؤية قطر الوطنيّة 2030.

.....

.....

.....

مكونات الهوية الوطنيّة القطريّة:
الدين واللغة - العادات والتقاليد - التاريخ المشترك - المستقبل المشترك.



استنتج

3. النّاتج المُترتبة على الاعتراز بالهُويّة الوطنيّة

الاعترازُ بالهُويّة الوطنيّة والالتزامُ بها لها آثارٌ عظيمةٌ، تنعكسُ على الفردِ والمجتمعِ والوطنِ منها:

1. الاعترازُ بالوطنِ والدِّفاعُ عنه في كلّ المناسبات.
2. توحيدُ الشَّعبِ وتماسُّكُ أبناءِ الوطنِ والانتماءُ إليه.
3. نهضةٌ في العِلْمِ والمعرفةِ والاقتصادِ.



حدِّدْ نتائجَ أخرى للتمسُّكِ بالهُويّة الوطنيّة.



نشاط

ماذا تَعَلَّمْتَ؟

أولاً: أقيمُ تحقيقي لأهدافِ الدرسِ بوضعِ إشارة (✓) .

☐ الهوية الوطنية القطرية: هي السمات التي يتميز بها الشعب القطري عن الشعوب الأخرى وتبرز في المحافظة على تقاليدهم الثقافية وقيمهم بوصفهم دولة عربية إسلامية وتظهر روح الانتماء لدى أبناء الوطن.

☐ مكونات الهوية الوطنية القطرية: الدين واللغة - العادات والتقاليد - التاريخ المشترك - المستقبل المشترك.

☐ من النتائج المترتبة على الاعتزاز بالهوية الوطنية والتمسك بها؛ قوة تماسك أبناء الوطن والانتماء إليه.

ثانيًا: التَّدْرِيبَات

1 اختَرِ الإِجَابَةَ الصَّحِيحَةَ مِنْ بَيْنِ الْبَدَائِلِ الْآتِيَةِ:

1. الْقِيَمُ الَّتِي تَتَوَارَثُهَا الْأَجْيَالُ وَالتَّمَسُّكُ بِهَا يَعْنِي الْإِلْتِزَامُ بِالْأَصَالَةِ، وَتُشَكِّلُ جُزْءًا

مِنْ ثَقَافَةِ الْمَجْتَمَعِ وَسُلُوكِهِ

أ- الْعَادَاتُ وَالتَّقَالِيدُ

ب- الْمُسْتَقْبَلُ الْمَشْتَرَكُ

ج- تَمَاسُكُ أَبْنَاءِ الْوَطَنِ

د- قُوَّةُ الْأَقْتِصَادِ

2. مَجْمُوعَةُ الْأَحْدَاثِ الَّتِي مَرَّبَهَا الْأَبَاءُ وَالْأَجْدَادُ، وَجَعَلَتْهُمْ أَبْنَاءَ هُويَّةٍ وَاحِدَةٍ .

أ- الْوَحْدَةُ الْجُغْرَافِيَّةُ

ب- التَّارِيخُ الْمَشْتَرَكُ

ج- الْعَادَاتُ وَالتَّقَالِيدُ

د- الدِّينُ وَاللُّغَةُ

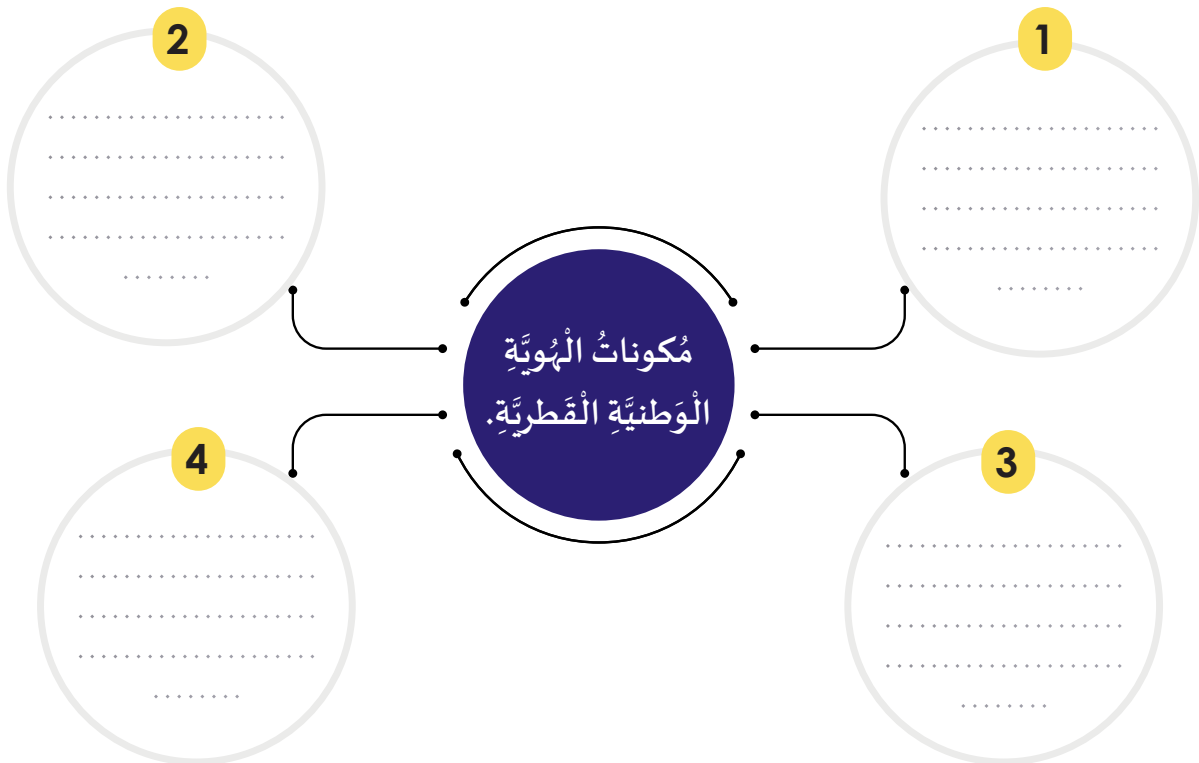
2 أَضَعُ إِشَارَةَ (✓) أَمَامَ الْعِبَارَةِ الصَّحِيحَةِ، وَإِشَارَةَ (x) أَمَامَ الْعِبَارَةِ الْخَطَأِ.

☐ تُعَدُّ مَعْرَكَةُ الْوُجْبَةِ مِنَ الْأَحْدَاثِ التَّارِيخِيَّةِ الْمُهِّمَةِ الَّتِي شَهِدَتْهَا دَوْلَةُ قَطَرِ.

☐ لَا يَشْتَرِكُ أَبْنَاءُ الْمَجْتَمَعِ الْقَطَرِيِّ فِي مُسْتَقْبَلٍ وَاحِدٍ.

3 أَجِبْ عَمَّا يَلِي:

اُكْتُبْ مُكَوِّنَاتِ الْهُويَّةِ الْوَطَنِيَّةِ الْقَطْرِيَّةِ.



4 مَا النَّتَائِجُ الْمُتَرَتِّبَةُ عَلَى الْاعْتِزَازِ بِمُكَوِّنَاتِ الْهُويَّةِ الْوَطَنِيَّةِ؟

1.
2.
3.

قِيَمَةُ الدَّرسِ

أُحَافِظُ عَلَى حُدُودِ وَطَنِي وَأُدَافِعُ عَنْهُ

أَيْنَ تَقَعُ دَوْلَةُ قَطَر؟

?

قطر

كَلِمَاتٌ مِفْتَاحِيَّةٌ

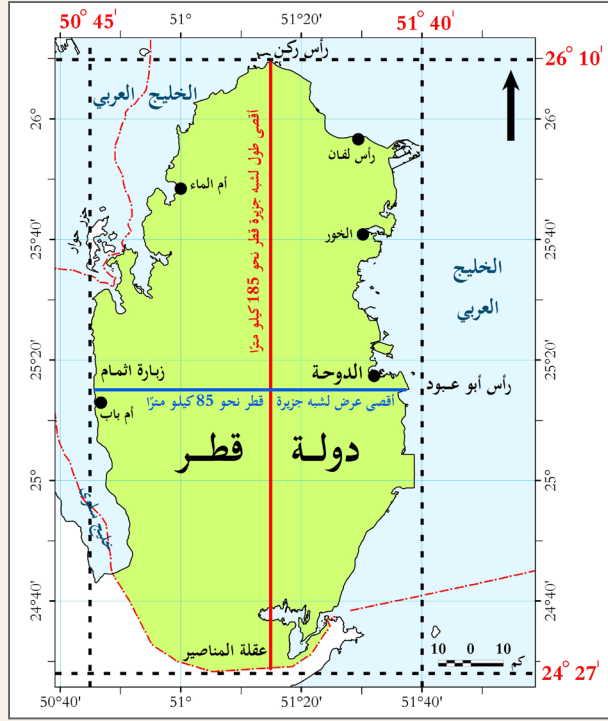
المَوْقِعُ الفَلَكِيُّ
المَوْقِعُ الجُغْرَافِيُّ

1. المَوقِعُ الفَلَكِي لِدَوْلَةِ قَطَرْ

هَلْ يُمَكِّنُكَ أَنْ تُحَدِّدَ مَوْقِعَ دَوْلَةِ قَطَرْ بِالنِّسْبَةِ لِدَوَائِرِ العَرَضِ وَخُطُوطِ الطُّولِ مِنْ خِلَالِ خَرِيطَةِ دَوْلَةِ قَطَرْ شَكْل (1) تَعَاوَنَ مَعَ زَمِيلِكَ وَأَجِبْ عَمَّا يَلِي :



أَضِفْ إِلَى مَعْلُومَاتِكَ:
خُطُوطُ الطُّولِ: هِيَ عِبَارَةٌ عَنْ
أَنْصَافِ دَوَائِرٍ وَهَمِيَّةٍ تَصِلُ بَيْنَ
الْقُطْبَيْنِ.
دَوَائِرُ العَرَضِ: عِبَارَةٌ عَنْ دَوَائِرٍ
وَهَمِيَّةٍ أَفْقِيَّةٍ مُتَوَازِيَةٍ تُحِيطُ
بِالْكُرَةِ الأَرْضِيَّةِ



شَكْل (1) مَوْقِعُ دَوْلَةِ قَطَرْ بِالنِّسْبَةِ لِخُطُوطِ الطُّولِ وَدَوَائِرِ العَرَضِ

حَدِّدِ المَوْقِعَ الفَلَكِي لِدَوْلَةِ قَطَرْ؟



نَاقِشْ مَعَ مُعَلِّمِكَ وَزَمَلَانِكَ:

نَشَاطٌ

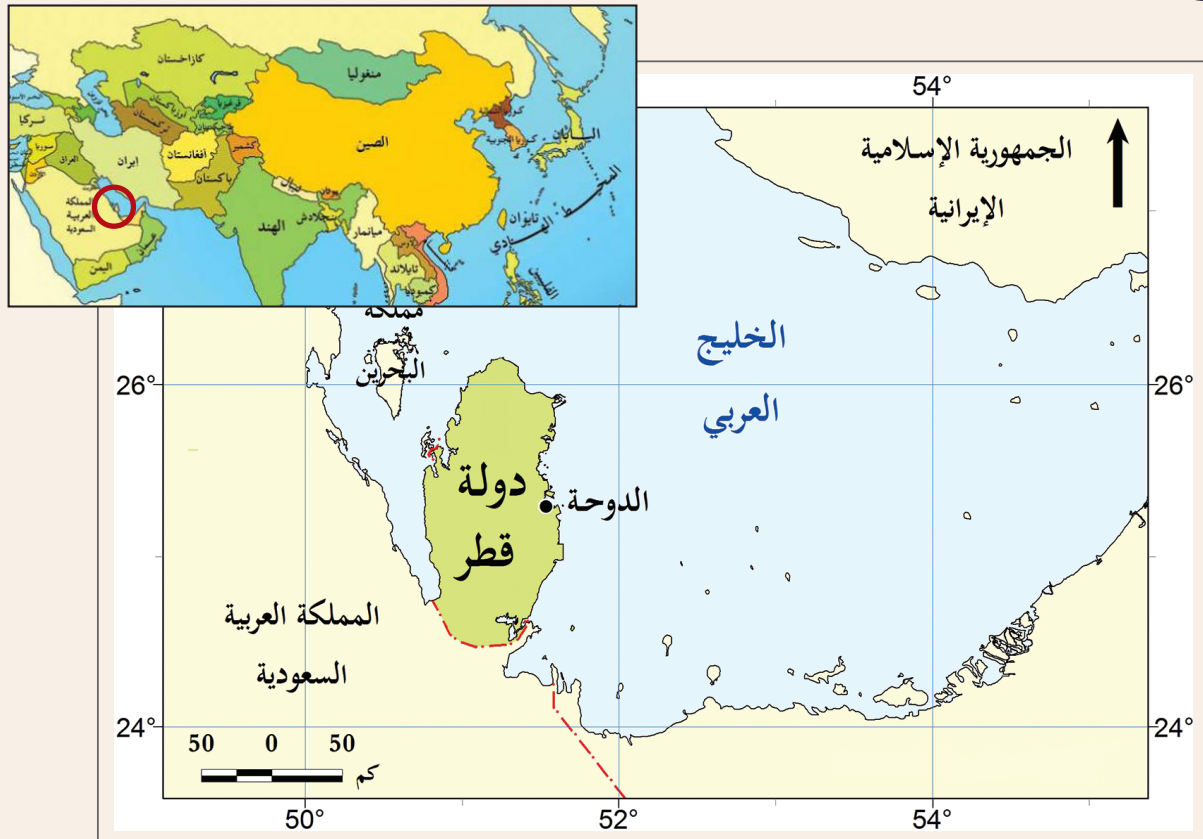
- مَا النِّتَاجُ المُتَرْتِبَةُ عَلَى المَوْقِعِ الفَلَكِي لِدَوْلَةِ قَطَرْ ؟

المَوْقِعُ الفَلَكِي هُوَ : مَوْقِعُ الدَّوْلَةِ بِالنِّسْبَةِ لِخُطُوطِ الطُّولِ وَدَوَائِرِ العَرَضِ. تَمْتَدُّ دَوْلَةُ قَطَرْ بَيْنَ دَائِرَتَي عَرَضٍ $24^{\circ}27'$ وَ $26^{\circ}10'$ شِمَالاً كَمَا تَمْتَدُّ بَيْنَ خَطَي طُولٍ $50^{\circ}45'$ وَ $51^{\circ}40'$ شَرْقاً



2. المَوْقِعُ الجغرافي لِدَوْلَةِ قَطَرْ

لَا حَظَّ خَرِيْطَةِ دَوْلَةِ قَطَرْ شَكْل (2) تَمَّ تَعَاوُن مَعَ زَمِيْلِكَ وَأَجِبْ عَمَّا يَلِي:



شكل (2) المَوقع الجغرافي لدولة قَطَر.

1. تَقَعُ دَوْلَةُ قَطْرِ فِي قَارَةِ
2. تَبْدُو خَرِيْطَةُ قَطْرِ عَلَى شَكْلِ
3. تَتَّصِلُ بِالْيَابِسَةِ مِنْ جِهَةِ

الموقع الجغرافي: هُوَ مَوْقِعُ الدَّوْلَةِ بِالنِّسْبَةِ لِلْمُسَطَّحَاتِ الْمَائِيَّةِ وَالْيَابِسِ.

- تَقَعُ دَوْلَةُ قَطَرْ فِي قَارَةِ آسِيَا وَتُعَدُّ جُزْءًا مِنْ شِبْهِ الْجَزِيرَةِ الْعَرَبِيَّةِ حَيْثُ تَقَعُ فِي مُنْتَصَفِ السَّاحِلِ الْغَرْبِيِّ لِلْخَلِيجِ الْعَرَبِيِّ.

- قَطَرْ عِبَارَةٌ عَنْ شِبْهِ جَزِيرَةٍ تُحِيطُ بِهَا مِيَاهُ الْخَلِيجِ الْعَرَبِيِّ مِنْ ثَلَاثِ جِهَاتٍ وَهِيَ الشَّمَالُ وَالشَّرْقُ وَالْغَرْبُ، بَيْنَمَا تَتَّصِلُ بِالْيَابِسَةِ مِنْ جِهَةِ الْجَنُوبِ عِنْدَ حُدُودِهَا مَعَ الْمَمْلَكَةِ الْعَرَبِيَّةِ السُّعُودِيَّةِ.




3. الأهمية الإستراتيجية لموقع دولة قطر

تمتلك دولة قطر موقعاً فريداً أعطاها العديد من المزايا التي تنفرد بها عن باقي دول المنطقة.

شاهد الصور ثم أكتب الأهمية الإستراتيجية لموقع دولة قطر:

قديماً



حديثاً



أضف إلى معلوماتك:

الموقع الإستراتيجي:

هو الموقع الذي يتصف بمكانة مهمة عسكرية أو سياسية أو اقتصادية على مستوى العالم.

- يتمتع موقع دولة قطر بأهمية إستراتيجية كبرى تتمثل فيما يأتي:
1. ساعد الموقع الجغرافي لدولة قطر على الاستفادة من مفاصات اللؤلؤ ومصائد الأسماك قديماً، وحديثاً من حقول النفط والغاز البحرية.
 2. أصبحت قطر معبراً ملاحياً للعديد من السفن التي تعبر مياه الخليج العربي.



4. المَسَاحَةُ وَالْحُدُودُ

أ- المَسَاحَةُ:

تبلغ مَسَاحَةُ دَوْلَةِ قَطَرَ نَحْوَ 11627,8 كم² مُتَضَمِّنَةً مَسَاحَةَ الْجُزُرِ الْقَطْرِيَّةِ.

ب- الحُدُودُ:

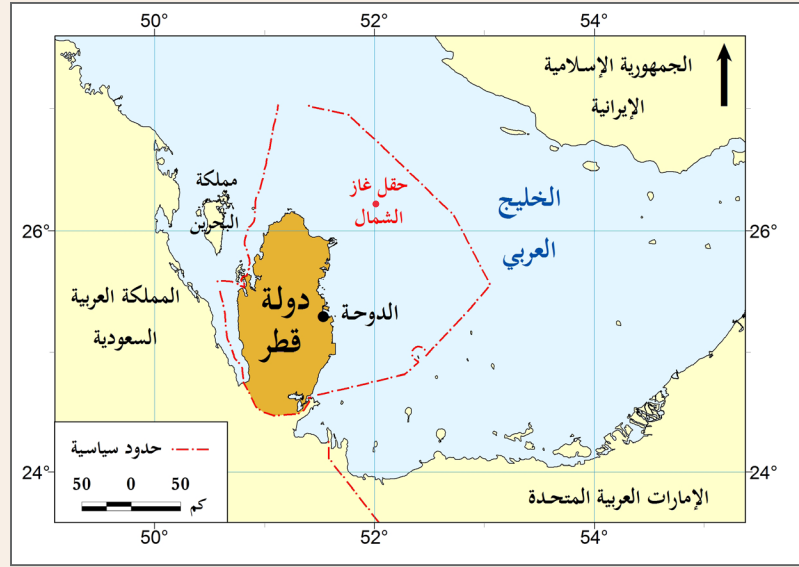
لاحظْ خَرِيطَةَ دَوْلَةِ قَطَرَ شَكْل (3) ثُمَّ تَعَاوَنْ مَعَ زَمِيلِكَ وَأَجِبْ عَمَّا يَلِي :



أَضِفْ إِلَى مَعْلُومَاتِكَ:

المِيَاهُ الإِقْلِيمِيَّةُ:

هِيَ مَنَاطِقُ مِيَاهِ الْبَحَارِ
وَالْمُحِيطَاتِ وَالَّتِي تَمْتَلِكُ الدَّوْلَةُ
حَقَّ السَّيَادَةِ عَلَيْهَا كَالْتَحَكُّمِ
فِي الْمِلَاحَةِ وَالصَّيْدِ وَاسْتِثْمَارِ
الْمُورَادِ وَالثَّرَوَاتِ الْبَحْرِيَّةِ
الطَّبِيعِيَّةِ الْمَوْجُودَةِ بِهَا.



شَكْل (3) حُدُودِ دَوْلَةِ قَطَرَ .

1. عَدِّدِ الدُّوَلِ الَّتِي تَتَّصِلُ بِهَا دَوْلَةُ قَطَرَ عَبْرَ مِيَاهِهَا الإِقْلِيمِيَّةِ ؟

2. مَا الدَّوْلَةُ الَّتِي تَرْتَبِطُ بِهَا دَوْلَةُ قَطَرَ مِنْ جِهَةِ الْجَنُوبِ ؟

تَبْلُغُ مَسَاحَةُ دَوْلَةِ قَطَرَ نَحْوَ 11627,8 كم² مُتَضَمِّنَةً مَسَاحَةَ الْجُزُرِ الْقَطْرِيَّةِ .

لِقَطَرِ نَوَعَانٍ مِنَ الْحُدُودِ هُمَا :

الْحُدُودُ الْبَرِّيَّةُ	الْحُدُودُ الْبَحْرِيَّةُ
تَرْتَبِطُ دَوْلَةُ قَطَرَ بِرَأْسَ بِأَلْمَمْلَكَةِ الْعَرَبِيَّةِ السُّعُودِيَّةِ مِنْ جِهَةِ الْجَنُوبِ.	تَتَّصِلُ دَوْلَةُ قَطَرَ بِعَدَدٍ مِنَ الدُّوَلِ الْمُجَاوِرَةِ عَبْرَ الْمِيَاهِ الإِقْلِيمِيَّةِ مُتَمَثِّلَةً فِي دَوْلَةِ الْإِمَارَاتِ الْعَرَبِيَّةِ الْمُتَّحِدَةِ وَمَمْلَكَةِ الْبَحْرَيْنِ وَالْمَمْلَكَةِ الْعَرَبِيَّةِ السُّعُودِيَّةِ وَتُحِيطُ بِهَا مِيَاهُ الْخَلِيجِ الْعَرَبِيِّ مِنَ الشَّمَالِ وَالشَّرْقِ وَالْغَرْبِ.



ماذا تعلّمت؟

أولاً: أتحقق مما تعلّمتُ بوضع إشارة (✓).

- ☐ الموقعُ الفلكي: موقعُ الدّولة بالنسبة لخطوط الطُّول ودوائر العرض.
- ☐ الموقعُ الجغرافي: موقعُ الدّولة بالنسبة للمسطّحات المائيّة واليابسة.
- ☐ تبلغُ مساحةُ دولةِ قطرَ نحو 11627,8 كم² متضمنةً مساحةَ الجزرِ القطريّة.
- ☐ لدولةِ قطرَ نوعانِ مِنَ الحدودِ هما الحدودُ البحريّة والبريّة.

ثانيًا: التدرّبات

1 اختر الإجابة الصحيحة من بين البدائل الآتية:

1. تقع دولة قطر في منتصف ساحل الخليج العربي من الجهة:

ج- الجنوبيّة

أ- الشماليّة

د- الغربيّة

ب- الشرقيّة

2. ترتبط دولة قطر بحدود بريّة مع:

ج- السّعوديّة

أ- الإمارات

د- البحرين

ب- إيران

3. تبلغ مساحة دولة قطر:

ج- 15600 كم²

أ- 12600 كم²

د- 11627,8 كم²

ب- 17600 كم²

2 أجب عما يلي:

أذكر الأهميّة الإستراتيجية لموقع دولة قطر.

1.

2.

3.

ما أنواع الحدود في دولة قطر؟

1.

2.

الوَحْدَةُ الثَّانِيَّةُ الْقِيَادَةُ وَالْوَطَنُ





فِي نِهَآيَةِ هَذِهِ الْوَحْدَةِ سَوْفَ:

- أُبَيِّنُ إِنجَازَاتِ أَمِيرِ دَوْلَةِ قَطَرِ الشَّيْخِ تَمِيمِ بْنِ حَمَدٍ آلِ ثَانِي.
- أُمَيِّزُ بَيْنَ الثَّرَاثِ الْمَادِي وَغَيْرِ الْمَادِي.
- أَتَعَرَّفُ أَنَّ لِكُلِّ مُجْتَمَعٍ تَرَاثُهُ الْخَاصَّ بِهِ.
- أَظْهَرُ احْتِرَامِي لِلتَّنَوُّعِ وَالْاِخْتِلَافِ فِي الثَّرَاثِ الْخَاصِّ بِالْمُجْتَمَعَاتِ الْآخَرَى.
- أَوْضِّحُ الْعِلَاقَةَ بَيْنَ الْمَوَارِدِ الْمُخْتَلِفَةِ وَالْأَنْشَاطَةِ الْاِقْتِصَادِيَّةِ.

قيمة الدّرس

أُقدِّرُ جهودَ صاحب السمو الشيخ تميم بن حمد آل ثاني في نهضة
دولة قطر.



أَصِفْ مَا أَشَاهِدُ فِي الصُّورَةِ



كَلِمَاتٌ مِفْتَاحِيَّةٌ

مُنْظَمَاتٌ دَوْلِيَّةٌ

1. السيرة الذاتية

- وُلِدَ صاحبُ السُّمُوّ الشَّيْخُ تَمِيمٌ بِنُ حَمْدٍ آلِ ثَانِي فِي مَدِينَةِ الدَّوْحَةِ يَوْمَ 3 يُونِيُو 1980 م، وَفِيهَا نَشَأَ وَتَلَقَّى تَعْلِيمَهُ الْإِبْتِدَائِيَّ وَالْإِعْدَادِيَّ.
- حَصَلَ عَلَى الشَّهَادَةِ الثَّانَوِيَّةِ مِنْ مَدْرَسَةِ شِيرِبُورِن بِالْمَمْلَكَةِ الْمُتَّحِدَةِ، ثُمَّ تَخَرَّجَ مِنْ أَكَادِمِيَّةِ سَانْد هِيرِسْت الْمَلَكِيَّةِ عَامَ 1998 م، وَبَعْدَ تَخْرُجِهِ التَّحَقَّ بِالْقَوَاتِ الْمُسَلَّحَةِ الْقَطَرِيَّةِ.
- عُيِّنَ سَمُوهُ وَلِيًّا لِلْعَهْدِ وَنَائِبًا لِلْقَائِدِ الْعَامِّ لِلْقَوَاتِ الْمُسَلَّحَةِ فِي 5 أَغُسْطُس 2003 م، وَأَثْنَاءَ وِلَايَتِهِ لِلْعَهْدِ تَرَأَّسَ عِدَدًا مِنَ الْمَوْسَّسَاتِ مِنْ بَيْنِهَا: الْمَجْلِسُ الْأَعْلَى لِلتَّعْلِيمِ، وَالْمَجْلِسُ الْأَعْلَى لِلصِّحَّةِ، وَمَجْلِسُ إِدَارَةِ جِهَازِ قَطَرٍ لِلْإِسْتِثْمَارِ، كَمَا أَشْرَفَ سَمُوهُ عَلَى انْطِلَاقَةِ الْيَوْمِ الْوَطْنِيِّ لِدَوْلَةِ قَطَرٍ وَذَلِكَ لِإِيْمَانِهِ بِأَهْمِيَّةِ مَعْرِفَةِ الْأَجْيَالِ الصَّاعِدَةِ بِتَارِيخِ قَطَرٍ وَسِيرَةِ الْأَجْدَادِ الْمَوْسَّسِينَ وَقِيَمِهِمُ الْخَالِدَةِ لِنُحَافِظِ عِلْمِهَا وَنَفْتَخِرَ وَنَقْتَدِي بِهَا. وَأَسْهَمَ سَمُوهُ فِي انْطِلَاقَةِ الْيَوْمِ الرِّيَاضِيِّ، لاهْتِمَامِهِ بِصِحَّةِ الْفَرْدِ وَالْمُجْتَمَعِ.



[https:// www.diwan.gov.qa](https://www.diwan.gov.qa)

من خلال موقع الديوان الأميري

عَدَدُ أَهَمِّ الْمَنَاصِبِ وَالْمَسْئُولِيَّاتِ الَّتِي تَوَلَّاهَا صَاحِبُ السُّمُوّ الشَّيْخُ تَمِيمٌ بِنُ حَمْدٍ آلِ ثَانِي قَبْلَ تَوْلِيهِ الْحُكْمِ.



مُشاركة سُمُو الأمير وسُمُو الأمير الوالد في احتفالات اليوم الوطني

- يُشارك سُمُو الأمير أبناء شعبه احتفالات اليوم الوطني للدولة.



أَجِبْ عَمَّا يَلِي:

نَشَاطٌ

• أكتب أهمّ الفعاليات التي تُشارك بها في اليوم الوطني ؟

عين صاحب السمو الشيخ تميم بن حمد آل ثاني ولياً للعهد في 5 أغسطس 2003 م، وترأس أثناء ولايته للعهد عدداً من المؤسسات مثل: المجلس الأعلى للتعليم، المجلس الأعلى للصحة، مجلس إدارة جهاز قطر للإستثمار، وأشرف سموه على انطلاقة اليوم الوطني واليوم الرياضي لدولة قطر.



2. تولي الحكم



تولّى حضرة صاحب السمو الشيخ تميم بن حمد آل ثاني مقاليد الحكم في البلاد يوم 25 يونيو 2013م، إثر إعلان صاحب السمو الأمير الوالد الشيخ حمد بن خليفة آل ثاني تسليمه مقاليد الحكم لولي عهده الأمين، ومبايعة الشعب القطري لسموه أميراً للبلاد.

اقرأ وأجيب:



اقرأ وأجب عما يلي

نشاط

أوصى سمو الأمير الوالد الشيخ حمد بن خليفة آل ثاني في خطاب تسليم مقاليد الحكم لولي عهده سمو الشيخ تميم بن حمد آل ثاني أبناء شعبه القطري:

”بعد تقوى الله بالعلم والعمل، والمحافظة على القيم الثقافية والحضارية التابعة من قيمنا وحضارتنا وعروبتنا، والثبات على الحق، والاستقامة على الحق مهما تبدلت الأحوال“

بماذا أوصى سمو الأمير الوالد أبناء شعبه؟

تولي صاحب السمو الشيخ تميم بن حمد آل ثاني مقاليد الحكم في البلاد يوم 25 يونيو 2013م.



3. إنجازات صاحب السمو الشيخ تميم بن حمد آل ثاني

بعد تولي صاحب السمو الشيخ تميم بن حمد آل ثاني مقاليد الحكم شهدت دولة قطر
العديد من الإنجازات في العديد من المجالات منها:



إنجاز مشروع ميناء حمد عام 2017 م



افتتاح مطار حمد الدولي عام 2014 م



افتتاح مترو الدوحة (الريل) عام 2019 م



افتتاح مكتبة قطر الوطنية عام 2018 م



فكروا وكتبوا:

نشاط

عدد إنجازات أخرى لسمو الشيخ تميم بن حمد آل ثاني.

من إنجازات صاحب السمو الشيخ تميم بن حمد آل ثاني: مطار حمد
الدولي - ميناء حمد - مكتبة قطر الوطنية - مترو الدوحة (الريل)



استنتج

4. قَطْرُ وَالْعَالَمُ فِي عَهْدِ صَاحِبِ السُّمُو الشَّيْخِ تَمِيمِ بْنِ حَمْدٍ آلِ ثَانِي



مُشارَكَةُ صَاحِبِ السُّمُو الشَّيْخِ تَمِيمِ بْنِ حَمْدٍ آلِ ثَانِي
فِي الدَّوْرَةِ السَّادِسَةِ وَالسَّبْعِينَ لِلْجَمْعِيَّةِ الْعَامَّةِ لِلأُمَمِ الْمُتَّحِدَةِ

اسْتَطَاعَ صَاحِبُ السُّمُو الشَّيْخُ تَمِيمُ بْنُ حَمْدٍ
آلِ ثَانِي تَعْزِيزَ عِلَاقَاتِ قَطْرِ وَدُولِ الْعَالَمِ عِبْرَ
الزِّيَارَاتِ الرَّسْمِيَّةِ وَالاتِّفَاقِيَّاتِ الْإِسْتِرَاطِيَّةِ مَعَ
الدَّوَلِ الْكَبْرَى والدَّوَلِ الصَّدِيقَةِ، كَمَا تَمَيَّزَتْ
عِلَاقَةُ دَوْلَةِ قَطْرِ وَالْمُنْظَمَاتِ الدَّوْلِيَّةِ بِالتَّعَاوُنِ
الْوَثِيقِ، حَيْثُ تَعَدَّدَتْ مُشَارَكَاتُ صَاحِبِ
السُّمُو الشَّيْخِ تَمِيمِ بْنِ حَمْدٍ آلِ ثَانِي فِي الْعَدِيدِ
مِنَ الْمَحَافِلِ الدَّوْلِيَّةِ مِنْهَا الْأُمَمُ الْمُتَّحِدَةُ.

أَسْهَمَتْ دَوْلَةُ قَطْرِ فِي الْعَدِيدِ مِنَ الْقَضَايَا الْعَرَبِيَّةِ وَالْعَالَمِيَّةِ وَمِنْ أَهْمِهَا:

1. نُصْرَةُ الْقَضِيَّةِ الْفِلَسْطِينِيَّةِ.
2. مُسَاعَدَةُ الشُّعُوبِ الْإِسْلَامِيَّةِ الْمُتَضَرِّرَةِ.

أَكْتُبْ رِسَالَةَ شُكْرٍ لَصَاحِبِ السُّمُو الشَّيْخِ تَمِيمِ بْنِ حَمْدٍ آلِ ثَانِي
وَنَاقِشْهَا مَعَ مُعَلِّمِكَ وَزُمَلَائِكَ.

نَشَاطٌ

عَزَّزَ صَاحِبُ السُّمُو الشَّيْخُ تَمِيمُ بْنُ حَمْدٍ آلِ ثَانِي عِلَاقَاتِ قَطْرِ وَدُولِ
الْعَالَمِ .

شَارَكَ صَاحِبُ السُّمُو الشَّيْخُ تَمِيمُ بْنُ حَمْدٍ آلِ ثَانِي فِي الْعَدِيدِ مِنَ
الْمَحَافِلِ الدَّوْلِيَّةِ مِنْهَا الْأُمَمُ الْمُتَّحِدَةُ.

أَسْهَمَتْ دَوْلَةُ قَطْرِ فِي الْعَدِيدِ مِنَ الْقَضَايَا الْعَرَبِيَّةِ وَالْعَالَمِيَّةِ وَمِنْ أَهْمِهَا:
نُصْرَةُ الْقَضِيَّةِ الْفِلَسْطِينِيَّةِ وَمُسَاعَدَةُ الشُّعُوبِ الْإِسْلَامِيَّةِ الْمُتَضَرِّرَةِ.



ماذا تَعَلَّمْتَ؟

أَوَّلًا: أَتَحَقَّقُ مِمَّا تَعَلَّمْتُ بِوَضْعِ إِشَارَةٍ (✓).

- ☐ وُلِدَ الشَّيْخُ تَمِيمٌ بْنُ حَمْدٍ آلِ ثَانِي فِي 3 يُونِيُو 1980 م.
- ☐ تَوَلَّى صَاحِبُ السُّمُوِّ الشَّيْخُ تَمِيمٌ بْنُ حَمْدٍ آلِ ثَانِي مَقَالِيدَ الْحُكْمِ فِي 25 يُونِيُو 2013 م.
- ☐ افْتُتِحَ مَطَارُ حَمْدٍ الدَّوْلِي فِي عَهْدِ صَاحِبِ السُّمُوِّ الشَّيْخِ تَمِيمِ بْنِ حَمْدٍ آلِ ثَانِي.
- ☐ تَعَزَّزَتِ عِلَاقَةُ قَطَرٍ مَعَ الدَّوْلِ الْخَلِيفَةِ وَالصَّدِيقَةِ عِبْرَ الزِّيَارَاتِ الرَّسْمِيَّةِ وَالاتِّفَاقِيَّاتِ الْإِسْتِرَاطِيَّةِ.

ثَانِيًا: التَّدْرِيبَات

1 أَضَعُ إِشَارَةَ (✓) أَمَامَ الْعِبَارَةِ الصَّحِيحَةِ، وَإِشَارَةَ (x) أَمَامَ الْعِبَارَةِ الْخَطَأِ.

- ☐ تَلَقَّى صَاحِبُ السُّمُوِّ الشَّيْخُ تَمِيمٌ بْنُ حَمْدٍ آلِ ثَانِي تَعْلِيمَهُ الثَّانَوِي فِي قَطَرِ.
- ☐ تَرَأَسَ صَاحِبُ السُّمُوِّ الشَّيْخُ تَمِيمٌ بْنُ حَمْدٍ آلِ ثَانِي أَثْنَاءَ وِلَايَةِ الْعَهْدِ مَجْلِسَ إِدَارَةِ جِهَازِ قَطَرِ لِلْإِسْتِثْمَارِ.
- ☐ تَوَلَّى صَاحِبُ السُّمُوِّ الشَّيْخُ تَمِيمٌ بْنُ حَمْدٍ آلِ ثَانِي مَقَالِيدَ الْحُكْمِ فِي 25 يُونِيو 2013 م.

2 أَجِبْ عَمَّا يَلِي:

مَا أَهَمُّ إِنْجَازَاتِ صَاحِبِ السُّمُوِّ الشَّيْخِ تَمِيمِ بْنِ حَمْدٍ آلِ ثَانِي؟

.....
.....

اذكر جهود دولة قطر في القضايا العربية والعالمية .

.....

.....

.....

.....

اكتب سيرة ذاتية مختصرة لصاحب السمو الشيخ تميم بن حمد آل ثاني ؟

3

.....

.....

.....

.....

.....

.....

.....

قيمة الدّرس

أعتزُّ بثراثِ بلادِي وأُحافظُ عليه فنشرُ الثُّراثِ القَطْرِي
مَسْؤُولِيَةُ كُلِّ مُوَاطِنٍ.



أَصِفْ مَا أَشَاهِدُ فِي الصُّورَةِ



خروج EXIT

هدايا تذكارية
Souvenirs

كَلِمَاتٌ مِفْتَاحِيَّةٌ

التُّرَاثُ

1. التُّراثُ

تَهْتَمُّ دَوْلَةُ قَطْرِ بِالتُّرَاثِ مِنْ خِلَالِ جَمْعِ وَتَدْوِينِ وَتَوْثِيقِ مَوَادِّ التُّرَاثِ الشَّعْبِيِّ، وَإِنْشَاءِ أَرْشِيفٍ لَهُ وَتَنْظِيمِ وَإِحْيَاءِ الْفَعَالِيَّاتِ وَالْمُنَاسَبَاتِ الْوَطَنِيَّةِ التُّرَاثِيَّةِ، وَدَعْمِ الْعَامِلِينَ بِهَا.



فَكَّرُوا وَاجَبُ:

نَشَاطٌ



1. هَلْ قُمْتَ بِزِيَارَةِ أَحَدِ مَتَاحِفِ دَوْلَةِ قَطْرِ؟

2. مَا أَهَمُّ الْمَعْرُوضَاتِ الَّتِي شَاهَدْتَهَا فِي قَاعَاتِ الْمَتْحَفِ وَأَعْجَبَتْكَ؟

التُّرَاثُ: هُوَ كُلُّ مَا تَرَكَهُ الْأَجْدَادُ وَالْأَبَاءُ مِنْ عُنَاوِرِ الثَّقَافَةِ كَالْقِيمِ وَالْعَادَاتِ وَالْفِنِّ وَالْعِمَارَةِ وَغَيْرِهَا.



2. أنواع التراث

تمتلك دولة قطر تراثاً متنوعاً يتوارثه أهل قطر جيلاً بعد جيل، كما تقوم الدولة عبر مؤسساتها الثقافية المختلفة برعاية التراث المحلي وتنميته بشكل مستمر. وينقسم التراث إلى تراث مادي وتراث معنوي.

1 التراث المادي :



أبراج الخور

هي القطع الأثرية أمادية التي أنتجت وبُنيت قديماً، وتناقلتها الأجيال من خلال الاهتمام بها وصيانتها.

2 التراث غير المادي (المعنوي):

هي التقاليد وبعض المهارات التي تنتقل عبر الأجيال.



الْفَنصُ

ينقسمُ التراثُ:

1. التراث المادي : مثل القلاع والأبراج والبيوت والمشاغل اليدوية.
2. التراث غير المادي (المعنوي) : مثل الشعر والأمثال والقصص الشعبية والعرضة والصقارة ومهارة الملاحة التقليدية وتربية الماشية والطبخ.



3. نماذج من التراث القطري

1 القلاع:

القلاع هي عبارة عن حصون قوية البنيان بناها الأجداد بهدف الدفاع عن البلاد، وتمتاز بأسوارها العالية والضخمة، وأبراجها الدائرية أو المربعة، وتعد قلعة الوجبة من بين أشهر القلاع في دولة قطر، والتي دارت عندها معركة لها مكانتها الكبيرة في تاريخ قطر الوطني وهي معركة الوجبة، والتي انتصر فيها أهل قطر بقيادة المؤسس الشيخ جاسم بن محمد بن ثاني على قوات الوالي العثماني عام 1893 م.



قلعة الوجبة

ابحث وأجب:



ناقش مع معلمك وزملائك:

نشاط

• أهم القلاع في دولة قطر.

اشتهر أهل قطر وغيرهم من أبناء الخليج بحبهم للصقور وترويضها؛ حيث كان الآباء والأجداد يعتمدون على الصقور في صيد الحبارى، والأرناب، والحمام، وغيرها من الحيوانات، ويحرص الأبناء والأحفاد في وقتنا الحالي على السير على خطى الآباء والأجداد في اقتناء الصقور وتربيتها، وإحياء الموروث الشعبي بالصيدين بها، ويُعدُّ فصلاً الخريف والربيع الموسم الأنسب للصيد بالصقور حيث يبدأ القناصون في قطر موسمهم المفضل، وتنتشر الطيور في الوقت الحالي في الوسط والغرب من قطر، كما يقوم القناصون برحلات خارجية للصيد بالصقور في دولٍ مختلفة.

ابحث وأجب:



”اهتمت دولة قطر بالتراث الوطني حيث حرصت على تنظيم ورعاية وإحياء الفاعليات والمناسبات الوطنية التراثية، وكذلك دعم العاملين بها.“

نشاط

1. متى تأسست جمعية القناص ؟

2. ما أهداف الجمعية التي تسعى إلى تحقيقها ؟

نماذج من التراث القطري

1. القلاع: هي عبارة عن حصون قوية البنيان بناها الأجداد بهدف الدفاع عن البلاد.

2. الصقارة: هي تربية الصقور والصيد بها وهي من هويات الثقافة العربية العريقة في شبه الجزيرة العربية.



4.المؤسسات التي تُعنى بالتراث القطري

تحرص دولة قطر على رعاية التراث والحفاظ عليه سواء المادي أو المعنوي عبر العديد من المؤسسات والوزارات منها:

1 متاحف قطر:



تهدف متاحف قطر إلى ترميم وصيانة المواقع التراثية كالقلاع والأبراج والمساجد والبُيوت، وحماية وحفظ التراث الوطني.

2 وزارة الثقافة:



تعمل وزارة الثقافة على إحياء وتنظيم المناسبات والفعاليات التراثية، وجمع وتدوين وتوثيق مواد التراث الوطني ودارستها ونشرها، كما تعمل على إنشاء أرشيف للتراث الشعبي.

3 الحي الثقافي (كتارا)



تسعى كتارا على الحفاظ على التقاليد والتراث القطري عبر رعايتها الفاعليات والمهرجانات التراثية المحلية بكافة أنواعها مثل مهرجان المحامل التقليدية.

نشاط ناقش مع معلمك وزملائك:

• كيف نحافظ على التراث في دولة قطر ؟

من المؤسسات التي تُعنى بالتراث القطري:
متاحف قطر - وزارة الثقافة - الحي الثقافي (كتارا)



ماذا تَعَلَّمْتَ؟

أولاً: أَتَحَقَّقُ مِمَّا تَعَلَّمْتُ بِوَضْعِ إِشَارَةٍ (✓) .

☐ التُّرَاثُ : هُوَ كُلُّ مَا تَرَكَهُ الْأَجْدَادُ وَالْآبَاءُ مِنْ عُنَاصِرِ الثَّقَافَةِ كَالْقِيَمِ وَالْعَادَاتِ، وَالْفِنِ وَالْعِمَارَةِ وَغَيْرِهَا.

☐ يَنْقَسِمُ التُّرَاثُ إِلَى تُّرَاثٍ مَادِّيٍّ وَتُّرَاثٍ مَعْنَوِيٍّ.

☐ الْقِلَاعُ: هِيَ عِبَارَةٌ عَنْ حُصُونٍ قَوِيَّةٍ الْبُنْيَانِ بَنَاهَا الْأَجْدَادُ يَهْدَفُ الدِّفَاعُ عَنْ الْبِلَادِ.

☐ الصِّقَارَةُ : هِيَ إِقْتِنَاءُ وَتَرْبِيَةُ الصُّفُورِ وَتَرْوِيضِهَا.

☐ مِنَ الْمَوْسَّسَاتِ الَّتِي تُعْنَى بِالتُّرَاثِ الْقَطْرِيِّ مَتَاحِفُ قَطَرٍ - وَزَارَةُ الثَّقَافَةِ - الْحَيُّ الثَّقَافِيُّ.

ثَانِيًا: التَّدْرِيبَات

1 اختَرِ الإِجَابَةَ الصَّحِيحَةَ مِنْ بَيْنِ الْبَدَائِلِ الْآتِيَةِ:

1. أَيُّ مِمَّا يَأْتِي مِنَ التُّرَاثِ الْمَادِّيِّ :

أ- الْقِلَاعُ.

ب- الشَّعْرُ.

ج- الْفُنُونُ.

د- الْأَمْثَالُ الشَّعْبِيَّةُ.

2. إِحْيَاءُ وَتَنْظِيمُ الْمُنَاسَبَاتِ وَالْفَعَالِيَّاتِ التُّرَاثِيَّةِ، وَجَمْعُ وَتَدْوِينُ وَتَوْثِيقُ مَوَادِّ التُّرَاثِ الْوُطْنِيِّ مِنْ مَهَامِ وَزَارَةِ :

أ- الصِّحَّةِ.

ب- الْخَارِجِيَّةِ.

ج- الثَّقَافَةِ.

د- الْمُوَاصَلَاتِ.

2 أَضَعُ إِشَارَةَ (✓) أَمَامَ الْعِبَارَةِ الصَّحِيحَةِ، وَإِشَارَةَ (x) أَمَامَ الْعِبَارَةِ الْخَطَأِ.

☐ التُّرَاثُ : هُوَ كُلُّ مَا تَرَكَهُ الْأَجْدَادُ وَالْآبَاءُ مِنْ عُنَاوَرِ الثَّقَافَةِ كَالْقِيمِ وَالْعَادَاتِ، وَالْفِنِ وَالْعِمَارَةِ وَغَيْرِهَا .

☐ نَعْدُ الْقِلَاعُ وَالْأَبْرَاجُ مِنَ التُّرَاثِ الْمَعْنَوِيِّ .

☐ الصَّقَارَةُ هِيَ تَرْبِيَةُ الصُّقُورِ وَالصَّيْدُ بِهَا وَهِيَ مِنْ هَوَايَاتِ الثَّقَافَةِ الْعَرَبِيَّةِ الْعَرِيقَةِ فِي شِبْهِ الْجَزِيرَةِ الْعَرَبِيَّةِ.

3 أَجِبْ عَمَّا يَلِي:

مَا أَنْوَاعُ التَّرَاثِ ؟

.....

.....

.....

.....

عَدَدُ الْمَوْسَّسَاتِ الَّتِي تُعْنَى بِالتُّرَاثِ الْقَطْرِيِّ .

.....

.....

.....

.....

قيمة الدّرس

أُحافظُ على وسائلِ المواصلاتِ وأُحترمُ قواعدَ المرورِ حفاظًا
على حياتي وحياة الآخرين.

أَصِفْ مَا أَشَاهَدُهُ فِي الصُّورَةِ.



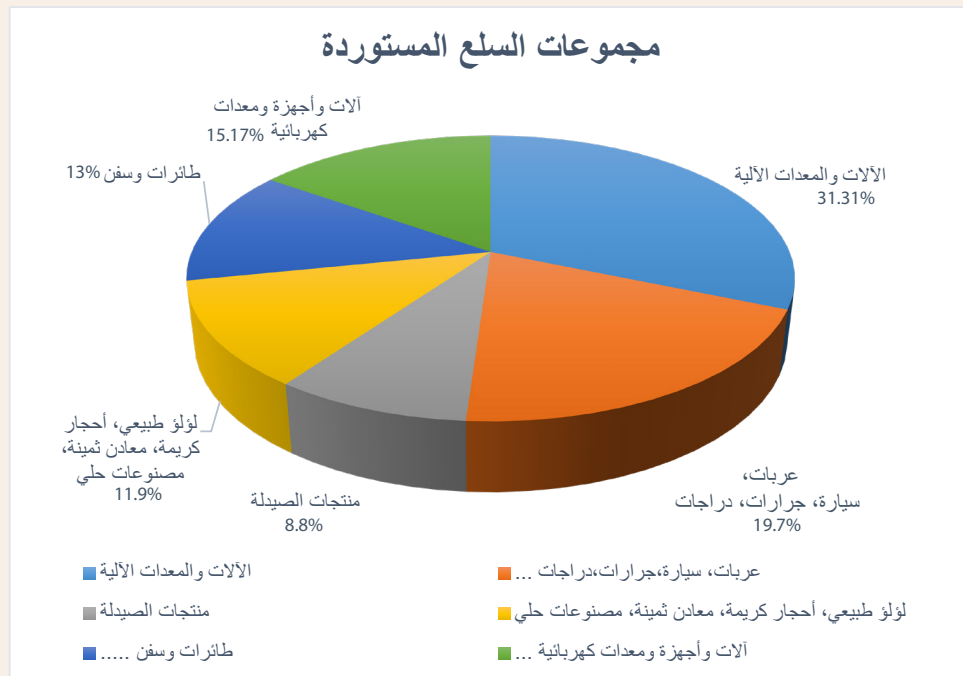
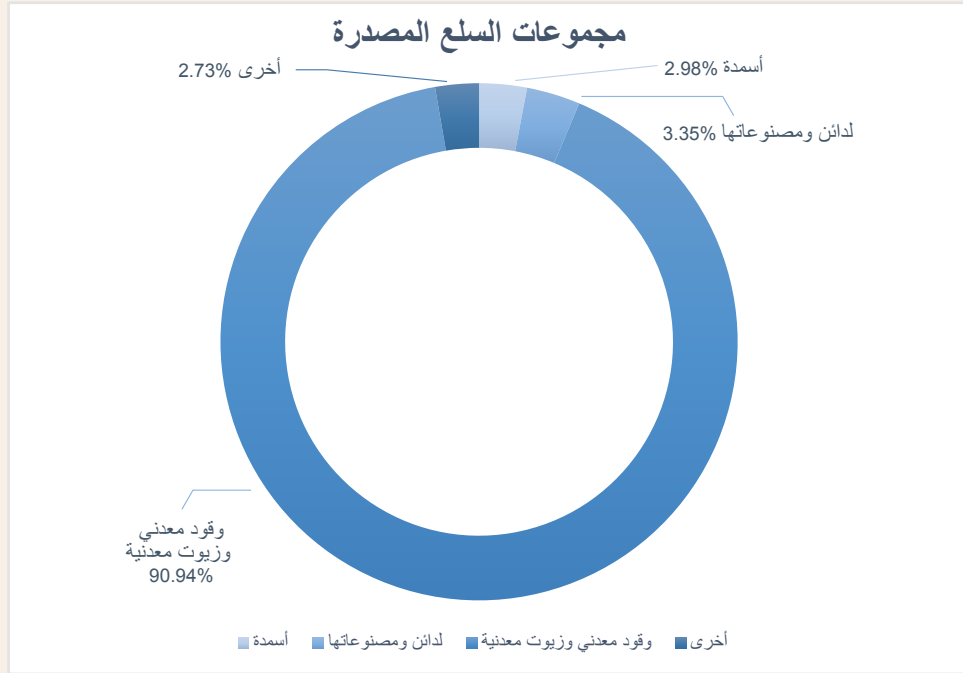
كَلِمَاتٌ مِفْتَاحِيَّةٌ

التِّجَارَةُ
الْوَارِدَاتُ
الصَّادِرَاتُ

1. التَّجَارَةُ

تَقُومُ دَوْلَةُ قَطَرْ بِسَدِّ احْتِيَاجَاتِهَا مِنَ السِّلَعِ التِّجَارِيَةِ عَنْ طَرِيقِ وَاِرْدَاتِهَا مِنَ الْخَارِجِ . كَمَا تَقُومُ بِتَصْدِيرِ الْفَائِضِ مِنْ مُنْتَجَاتِهَا إِلَى الْخَارِجِ .

لَا حِظُّ الشَّكْلِ الْبَيَانِيِّ الْآتِي ، ثُمَّ أَجِبْ عَنْ الْأَسْئَلَةِ الْآتِيَةِ :



المصدر: جهاز التخطيط والإحصاء بدولة قطر: شكل (1) إحصاءات التجارة الخارجية السلعية، النشرة السنوية 2021م

1. ما المقصود بالواردات ؟

2. ما المقصود بالصّادرات ؟

3. اذكر أشهر المنتجات التي تستوردها دولة قطر .

4. بَمَ تفسّر؟ تحتل الآلات والمعدات المرتبة الأولى في واردات دولة قطر.

التجارة: هي عملية تبادل المنتجات الاقتصادية المختلفة، عن طريق البيع والشراء داخل الدولة، أو بين الدول المنتجة والمستهلكة.
الواردات: هي المنتجات التي تحتاجها الدولة فتستوردها من الدول الأخرى.
الصّادرات: هي المنتجات الفائضة عن حاجة الدولة فتصدّرها إلى الدول الأخرى.



استنتاج

أَقْرَأْ وَأُجِيبْ:



الدُّولُ الْمُسْتَوْدَةُ	الصُّورُ	الصَّادِرَاتُ
<ul style="list-style-type: none"> اليابانُ الصينُ كوريا الجنوبية 		النَّفْطُ
		الْغَازُ الْمُسَالُ

الدُّولُ الْمُسَدِّرَةُ	الصُّورُ	الواردات
<ul style="list-style-type: none"> اليابانُ ألمانيا الولايات المتحدة الأمريكية 		السَّيَّارَاتُ
		الآلاتُ وَالْمُعَدَّاتُ

1. مَا أَشْهُرُ صَادِرَاتِ دَوْلَةِ قَطَرْ ؟

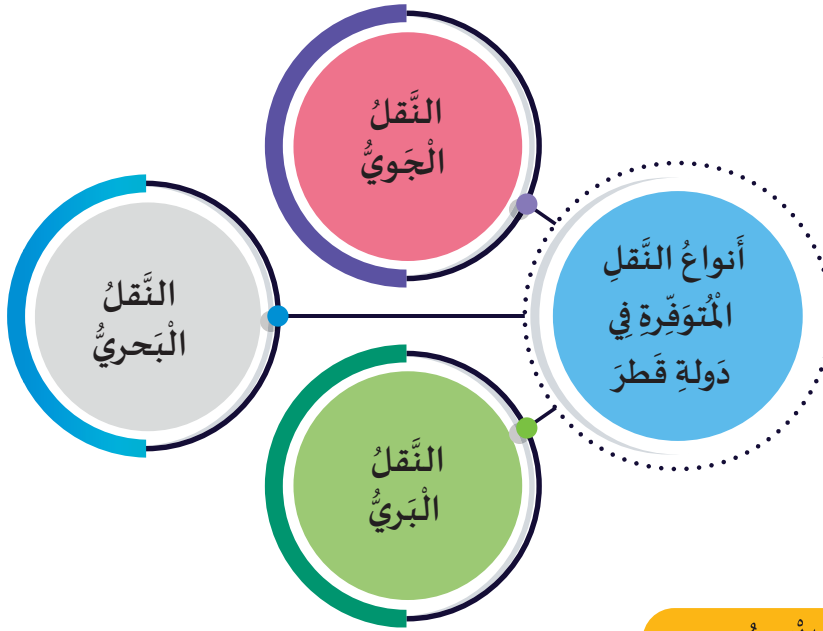
2. اذْكُرْ أَهَمَّ الْوَرَدَاتِ الْقَطَرِيَّةِ .

أَهَمُّ الصَّادِرَاتِ الْقَطَرِيَّةِ: النَّفْطُ وَالْغَازُ الْمُسَالُ، أَهَمُّ الدُّولِ الْمُسْتَوْدَةِ مِنْ قَطَرْ: الْيَابَانُ - الصِّينُ - كُورِيَا الْجَنُوبِيَّةِ.
أَهَمُّ الْوَارِدَاتِ الْقَطَرِيَّةِ: السَّيَّارَاتُ - الآلاتُ وَالْمُعَدَّاتُ، أَهَمُّ الدُّولِ الْمُسَدِّرَةِ إِلَى قَطَرْ: الْيَابَانُ - أَلْمَانِيَا - الْوَلَايَاتُ الْمُتَّحِدَةُ الْآمَرِيكِيَّةُ.



2.النَّقلُ والمُواصلاتُ

شَهِدَتْ دَوْلَةُ قَطَرْ خِلالَ السَّنَوَاتِ الْقَلِيلَةِ الْمَاضِيَةِ نُمُوًّا سَرِيعًا فِي تَعْدَادِ السُّكَّانِ مَصْحُوبًا بِتَوْسُّعِ اقْتِصَادِيٍّ قَوِيٍّ وَقَدْ تَطَلَّبَ ذَلِكَ التَّحْدِيثُ وَالتَّطْوِيرُ فِي الْبُنْيَةِ التَّحْتِيَّةِ لِقِطَاعِ النَّقْلِ وَالْمُواصلاتِ. فَقَدْ عَمِلَتِ الدَّوْلَةُ عَلَى تَطْوِيرِ طُرُقِ النَّقْلِ الْبَرِّيِّ وَالْمَوَانِي الْبَحْرِيَّةِ وَالْجَوِّيَّةِ وَذَلِكَ فِي إِطَارِ سَعْيِهَا لِتَطْوِيرِ شَبَكَةٍ مِنَ الْمُواصلاتِ الْحَدِيثَةِ.



1 النقل البري:

يُعدُّ مِنْ أَهَمِّ أَنْوَاعِ النَّقْلِ فِي دَوْلَةِ قَطَرْ، حَيْثُ يَتِمُّ عَنْ طَرِيقِهِ التَّوَاصُلُ بَيْنَ مَنَاطِقِ الدَّوْلَةِ الْمُخْتَلَفَةِ.

أنواع النقل البري في دولة قطر:

تَتَعَدَّدُ أَنْوَاعُ النَّقْلِ الْبَرِّيِّ بِدَوْلَةِ قَطَرْ كَالآتِي :



النَّقلُ بالأنابيبِ



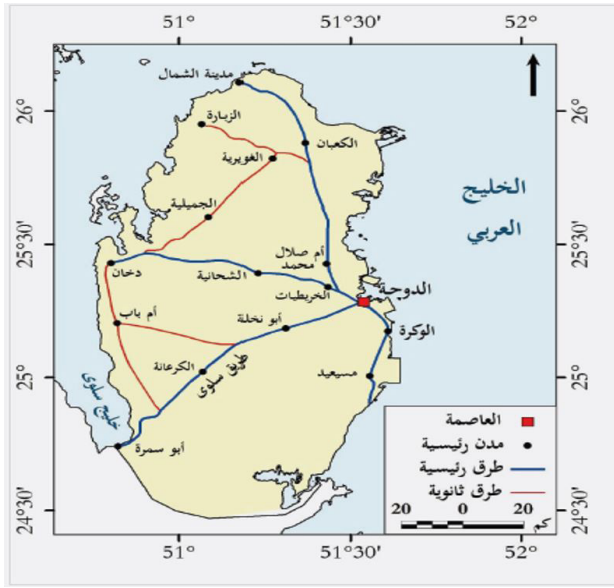
سَكِّكُ الْحَدِيدِ (الرَّيْلِ)



طُرُقُ السَّيَّارَاتِ

أ-طُرُقُ السَّيَّارَاتِ

تعملُ دولةُ قطرَ على تطويرِ بنيةٍ تحتيةٍ عالميةٍ لأنظمةِ النقلِ البري والطُّرقِ وبناءِ شبكةٍ نقلٍ ذكيَّةٍ وأمنةٍ وموثوقةٍ، لدعمِ الاقتصادِ الوطنيِّ وتعزيزِ حركةِ التجارةِ الدوليَّةِ. فقدَ عَمَلَتِ الدَّولةُ بزيادةِ طُولِ الطُّرقِ السَّريعةِ بالإضافةِ إلى بناءِ 200 جسرٍ و 30 نفقاً جديداً.



شكل (2) طرق السيارات في دولة قطر

لاحظ واستنتج من خلال الخريطة التي أمامك ثم أجب عما يلي:



- ما أهمُّ الطُّرُق البريةِ الرئيسيَّة والثَّانويَّة بدولةِ قطر؟

1.

2.

ناقش مع معلمك وزملائك في أهمية النقل البري.

نشاط

من أهمِّ الطُّرُق البريةِ الرئيسيَّة في دولةِ قطر:

طريقُ سَلوى - طريقُ الشِّمال - طريقُ دُخان.

من أهمِّ الطُّرُق الثَّانويَّة في دولةِ قطر:

طريقُ الجَميليَّة - طريقُ أم باب - طريقُ الزُّبارة.



ب- سِكْكَ الْحَدِيدِ الْقَطْرِيَّةُ (الرَّيْلُ)

تم تأسيس شركة سِكْكَ الحديد القطرية (الرَّيْلُ) في عام 2011م لتوفير وسيلة نقل فعالة للأفراد والبضائع في جميع أنحاء الدولة.

مَشَارِيعُ سِكْكَ
الْحَدِيدِ الْقَطْرِيَّةِ
(الرَّيْلُ)

سِكْكَ حَدِيدِ
الْمَسَافَاتِ الطَّوِيلَةِ

تَرَامُ لَوْسِيل

مَتْرُو الدَّوْحَةِ



ج- النّقل بالأنابيب

يُعدُّ النّقل بالأنابيب من أفضل الوسائل لنقل المواد السائلة بصورة سريعة وآمنة ومنها :



النّقل بالأنابيب

1. خطوط نقل الطاقة مثل خطّ دُولفين لنقل الغاز الطّبيعيّ من دولة قطر إلى دولة الإمارات العربيّة وسلطنة عُمان.
2. خطوط شبكات مياه الشّرب.
3. خطوط شبكات الصّرف الصحيّ.

فكّروا جاب: ?

نشاط

اجمع معلومات عن خطّ أنابيب دُولفين في دولة قطر وناقشها مع معلمك وزملائك .

.....

.....

.....

.....

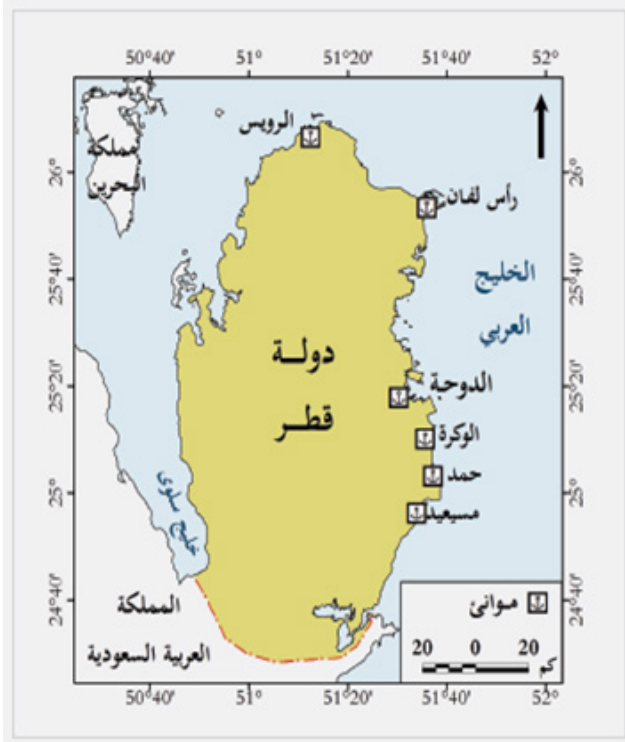
النقل البحري

2



يَسْعَى قِطَاعُ النُّقْلِ الْبَحْرِيِّ إِلَى التَّحْدِيثِ وَالتَّطْوِيرِ
لِضْمَانِ مِلَاحَةِ بَحْرِيَّةٍ أَمْنَةٍ وَتَتَوَقَّرُ لَهَا جَمِيعُ شُرُوطِ
السَّلَامَةِ الْبَحْرِيَّةِ.

ميناء حمد البحري



شكل (3) خريطة الموانئ القطرية

لَا حِظَّ خَرِيطَةِ الْمَوَانِئِ الْقَطْرِيَّةِ
ثُمَّ أَجِبْ عَنِ الْأَسْئَلَةِ الْآتِيَةِ:



عَدِّدْ أَهَمَّ الْمَوَانِئِ الْبَحْرِيَّةِ فِي دَوْلَةِ قَطَرْ .

.....

.....


أَهَمُّ الْمَوَانِئِ الْبَحْرِيَّةِ فِي دَوْلَةِ قَطَرْ:
مِينَاءُ حَمْدٍ - رَأْسُ لِفَانٍ - مَسِيْعِيدُ - الدَّوْحَةُ - الْوَكْرَةُ - الرَّوَيْسُ.



النَّقلُ الجَوِّي

3

- يُعدُّ قِطَاعُ النَّقْلِ الجَوِّيِّ مِنْ قِطَاعَاتِ النَّقْلِ الْأَسَاسِيَّةِ فِي دَوْلَةِ قَطَرْ، حَيْثُ يَتَمَيَّزُ بِالْمُرُونَةِ الْعَالِيَةِ فِي نَقْلِ الْمُسَافِرِينَ بَيْنَ دَوْلِ الْعَالَمِ بِسُرْعَةٍ كَبِيرَةٍ مِمَّا يُوفِّرُ الْوَقْتَ وَالْجُهْدَ وَكَذَلِكَ سُرْعَةَ نَقْلِ الْبَضَائِعِ وَقِضَاءِ الْأَعْمَالِ وَالْمُهَمَّاتِ الْمُخْتَلِفَةِ.
- كَمَا يُعْتَبَرُ مَطَارُ حَمْدٍ الدَّوْلِيِّ مِنْ أَكْبَرِ وَأَحَدِ الْمَطَارَاتِ الْعَالَمِيَّةِ، حَيْثُ يَحْتَوِي عَلَى مَدْرَجِي طَائِرَاتٍ يُعْتَبَرَانِ الْأَطْوَلِ فِي الْعَالَمِ.



نَشَاطٌ

نَاقِشْ مَعَ مُعَلِّمِكَ وَزُمْلَانِكَ

أَهْمِيَّةَ مَطَارِ حَمْدٍ الدَّوْلِيِّ فِي حَرَكَةِ النَّقْلِ الجَوِّيِّ فِي دَوْلَةِ قَطَرْ.

يُعدُّ قِطَاعُ النَّقْلِ الجَوِّيِّ مِنْ قِطَاعَاتِ النَّقْلِ الْأَسَاسِيَّةِ لِأَنَّهُ يَتَمَيَّزُ بِالْمُرُونَةِ الْعَالِيَةِ فِي نَقْلِ الْمُسَافِرِينَ وَكَذَلِكَ سُرْعَةَ نَقْلِ الْبَضَائِعِ وَقِضَاءِ الْأَعْمَالِ وَالْمُهَمَّاتِ الْمُخْتَلِفَةِ.



ماذا تَعَلَّمْتَ؟

أولاً: أَتَحَقَّقُ مِمَّا تَعَلَّمْتُ بَوْضِعِ إِشَارَةِ (✓) .

- ☐ التَّجَارَةُ: هِيَ عَمَلِيَّةُ تَبَادُلِ الْمُنْتَجَاتِ الْاِقْتِصَادِيَّةِ الْمُخْتَلَفَةِ، عَنْ طَرِيقِ الْبَيْعِ وَالشِّرَاءِ دَاخِلَ الدَّوْلَةِ، أَوْ بَيْنَ الدُّوَلِ الْمُنْتِجَةِ وَالْمُسْتَهْلِكَةِ.
- ☐ الْوَارِدَاتُ: هِيَ الْمُنْتَجَاتُ الَّتِي تَحْتَاجُهَا الدَّوْلَةُ فَتَسْتَوْرِدُهَا مِنَ الدُّوَلِ الْاُخْرَى.
- ☐ الصَّادِرَاتُ: هِيَ الْمُنْتَجَاتُ الْفَائِضَةُ عَنْ حَاجَةِ الدَّوْلَةِ فَتَصْدِرُهَا إِلَى الدُّوَلِ الْاُخْرَى.
- ☐ يُعَدُّ النَّقْلُ الْبَرِّيُّ مِنْ أَهَمِّ أَنْوَاعِ النَّقْلِ فِي دَوْلَةِ قَطَرْ، حَيْثُ يَتِمُّ عَنْ طَرِيقِهِ التَّوَاصُلُ بَيْنَ مَنَاطِقِ الدَّوْلَةِ الْمُخْتَلَفَةِ.
- ☐ مِنْ أَهَمِّ الْمَوَانِي الْبَحْرِيَّةِ فِي دَوْلَةِ قَطَرْ مِينَاءُ حَمْد.
- ☐ يُعَدُّ قِطَاعُ النَّقْلِ الْجَوِّيِّ مِنْ قِطَاعَاتِ النَّقْلِ الْاَسَاسِيَّةِ لِأَنَّهُ يَتَمَيَّزُ بِالْمُرُونَةِ الْعَالِيَةِ فِي نَقْلِ الْمُسَافِرِينَ وَكَذَلِكَ سُرْعَةُ نَقْلِ الْبَضَائِعِ.

ثانيًا: التَّدْرِيبَات

1 اختر الإجابة الصحيحة من بين البدائل الآتية:

هي عملية تبادل المنتجات الاقتصادية المختلفة، عن طريق البيع والشراء داخل الدولة، أو بين الدول المنتجة والمستهلكة:

ج- الصادرات

أ- التجارة

د- الميزان التجاري

ب- الواردات

من أهم الموانئ البحرية في دولة قطر:

ج- دُخان

أ- مسيعيد

د- أبوسمرة

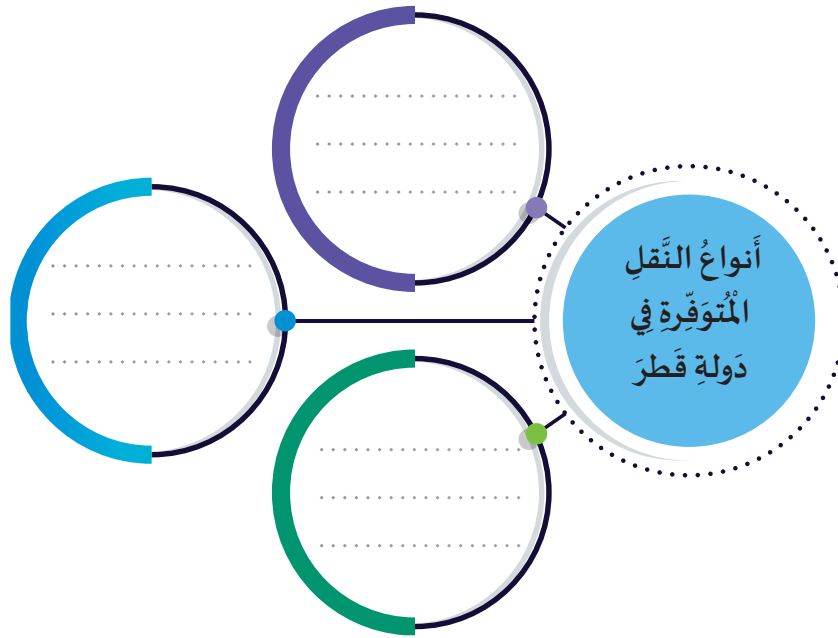
ب- خور العديد

2 صنف الصادرات والواردات الآتية في الجدول التالي:

(السيارات – النفط – الغاز الطبيعي المسال – الآلات والمعدات)

الصادرات	الواردات

3 عدد أنواع النقل المتوفرة في دولة قطر من خلال المخطط الآتي:





الوَخْدَةُ الثَّالِثَةُ الْعِظَامُ وَالْعَصَلَاتُ



فِي نِهَآيَةِ هَذِهِ الْوَحْدَةِ سَوْفَ:

- أُسَمِّي بَعْضَ عِظَامِ الْهَيْكَلِ الْعَظْمِيِّ الرَّئِيسَةِ فِي جِسْمِ الْإِنْسَانِ.
- أَشْرَحُ دَوْرَ الْعِظَامِ فِي حِمَايَةِ الْجِسْمِ وَحَرَكَتِهِ وَدَعْمِهِ.
- أُلَاحِظُ انْبِسَاطَ الْعِضَلَاتِ وَانْقِبَاضَهَا دَاخِلَ جِسْمِ الْإِنْسَانِ.

قيمة الدرس

الْيَقِينُ بِعَظَمَةِ وَكَمَالِ خَلْقِ اللَّهِ.
{ لَقَدْ خَلَقْنَا الْإِنْسَانَ فِي أَحْسَنِ تَقْوِيمٍ }.

(سورة التين: 4)



أَصِفْ مَا أَشَاهِدُ فِي الصُّورَةِ.

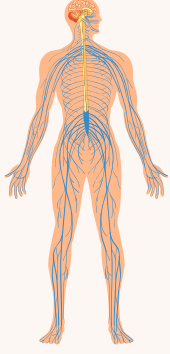


كَلِمَاتٌ مِفْتَاحِيَّةٌ

الْهَيْكَلُ الْعَظْمِيُّ
مَفْصِلٌ

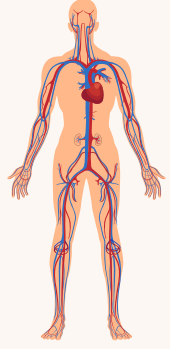
1. مَا أَجْهَرَةُ جِسْمِ الْإِنْسَانِ؟

أَتَأْمَلُ الشَّكْلَ التَّالِيَ جَيِّدًا . اسْمِي بَعْضَ الْأَجْهَرَةِ الَّتِي يَتَكَوَّنُ مِنْهَا جِسْمِي .



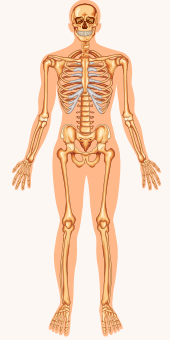
الْجِهَازُ الْعَصَبِيُّ

مَسْئُولٌ عَنِ الْإِحْسَاسِ
وَالِاسْتِجَابَةِ.



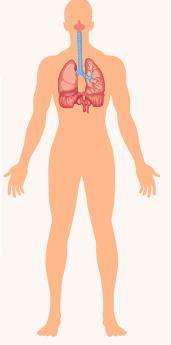
الْجِهَازُ الدَّوْرِيُّ

ضَخُّ وَنَقْلُ الدَّمِ الَّذِي يَحْمِلُ
الْأَكْسُجِينَ وَالْمَوَادَّ الْغِذَائِيَّةَ.



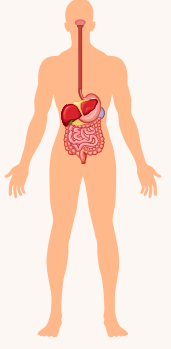
الْجِهَازُ الْهَيْكَلِيُّ

يُسَاعِدُ عَلَى دَعْمِ الْجِسْمِ
وَحَرَكَتِهِ .



الْجِهَازُ التَّنَفُّسِيُّ

مَسْئُولٌ عَنِ التَّنَفُّسِ وَتَبَادُلِ
الْغَازَاتِ.



الْجِهَازُ الْهَضْمِيُّ

هَضْمُ الطَّعَامِ وَامْتِصَاصُهُ
وَالْتَّخْلُصُ مِنَ الْفَضَلَاتِ.



الْجِهَازُ الْعَضَلِيُّ


يُسَاعِدُ عَلَى حَرَكَةِ الْجِسْمِ .

لِمَاذَا يَحْتَاجُ جِسْمِي إِلَى أَجْهَرَةٍ مُتَعَدِّدَةٍ ؟

يَتَكَوَّنُ جِسْمُ الْإِنْسَانِ مِنْ مَجْمُوعَةٍ مِنَ الْأَجْهَرَةِ تَعْمَلُ فِي تَنَاعُجٍ مَعًا
لِأَدَاءِ الْوُظَائِفِ الْحَيَوِيَّةِ الْمُهِّمَةِ لِلْمُحَافَظَةِ عَلَى حَيَاتِهِ .

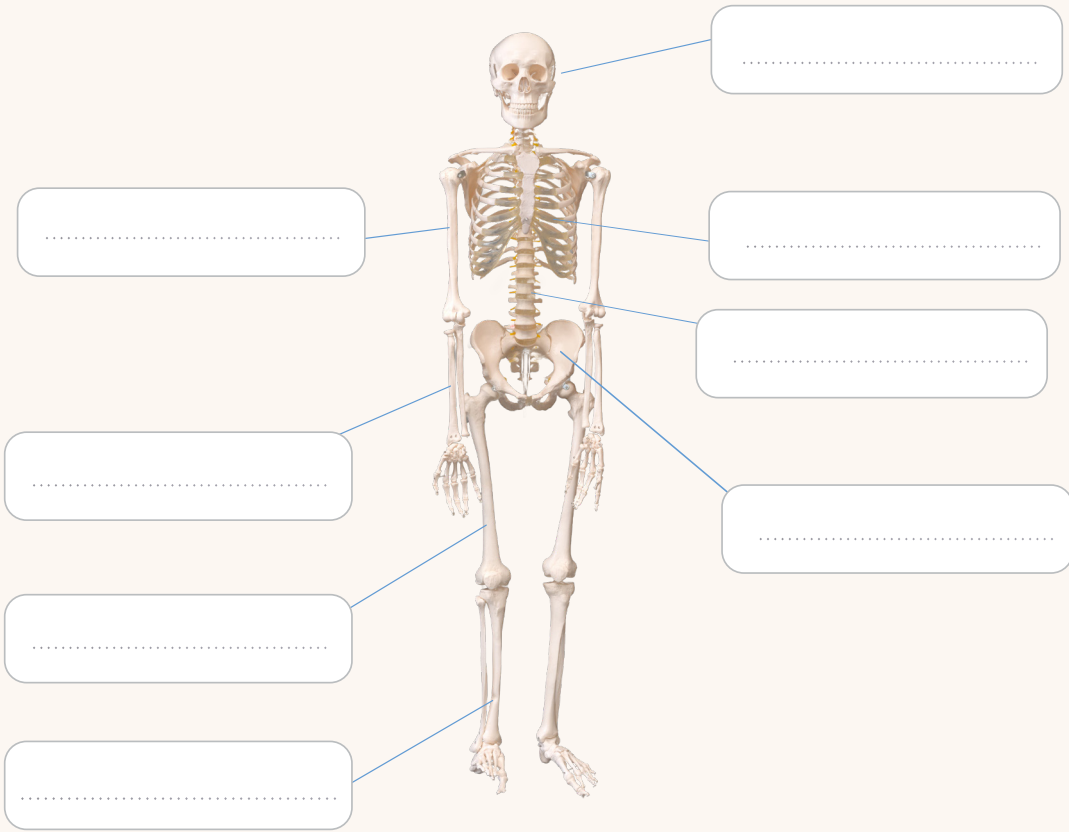


2. مِمَّا يَتَكَوَّنُ الْهَيْكَلُ الْعَظْمِيُّ؟

أُصْغِي إِلَى مُعَلِّمِي بَيْنَمَا يُحَدِّدُ أَسْمَاءَ الْعِظَامِ الرَّئِيسَةِ وَمَوَاقِعَهَا فِي هَيْكَلِ جِسْمِ الْإِنْسَانِ. 

أَسْتَعِينُ بِصُنْدُوقِ الْمُصْطَلَحَاتِ لِأَسْمِي الْعِظَامِ الرَّئِيسَةِ لِلْهَيْكَلِ الْعَظْمِيِّ.

جُمُوعَةُ - ضِلْعُ - عَظْمَةُ السَّاعِدِ - عَظْمَةُ الْعَضُدِ -
الْعَمُودُ الْفَقْرِي - حَوْضُ - عَظْمَةُ الْفَخْذِ - عَظْمَةُ السَّاقِ



بِرَأْيِكَ، مَا وَظِيفَةُ الْعِظَامِ ؟




يَتَكَوَّنُ الْهَيْكَلُ الْعَظْمِيُّ مِنْ 206 عَظْمَةٍ. وَهِيَ عِظَامٌ بَيَضَاءُ وَقَاسِيَةٌ ذَاتَ أَحْجَامٍ وَأَشْكَالٍ مُخْتَلِفَةٍ لِتَتَنَاسَبَ مَعَ وَظِيفَتِهَا.
يَقُومُ الْهَيْكَلُ الْعَظْمِيُّ بِوُظَائِفٍ مُهِمَّةٍ مِنْهَا :
- يُعْطِي الْجِسْمَ الشَّكْلَ وَالِدِّعَامَةَ.
- يَحْمِي بَعْضَ أَعْضَاءِ الْجِسْمِ الدَّاخِلِيَّةِ.
- يُسَاعِدُ الْجِسْمَ عَلَى الْحَرَكَةِ.



3. مَا دَوَّرَ الْهَيْكَلِ الْعَظْمِيِّ فِي دَعْمِ شَكْلِ الْجِسْمِ؟

أَتَنَاقَشُ مَعَ زَمِيلِي



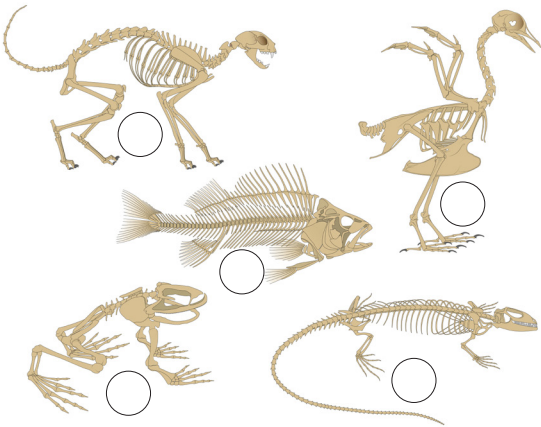
- مَا الَّذِي يُعْطِي لِهَذِهِ الْخَيْمَةِ شَكْلَهَا ؟
- مَا الَّذِي يُبْقِي الْخَيْمَةَ قَائِمَةً ؟
- مَاذَا يَحْدُثُ إِذَا قُمْْنَا بِإِزَالَةِ أَعْمِدَةِ الْخَيْمَةِ ؟

اسْتَنْتَجُ مِمَّا سَبَقَ،



- مَا الَّذِي يُعْطِي لِجِسْمِ الْإِنْسَانِ شَكْلَهُ؟

.....



أَتَعَرَّفُ عَلَى الْكَائِنِ الْحَيِّ مِنْ خِلَالِ
شَكْلِ الْهَيْكَلِ الْعَظْمِيِّ. أَضَعُ رَقْمُ
الْكَائِنِ أَسْفَلَ هَيْكَلِهِ.



① قِطْعَةٌ ② ضِفْدَعٌ ③ طَائِرٌ

④ سَحْلِيَّةٌ ⑤ سَمَكَةٌ

يُعْطِي الْهَيْكَلُ الْعَظْمِيُّ الشَّكْلَ وَالِدِّعَامَةَ لِلْجِسْمِ.

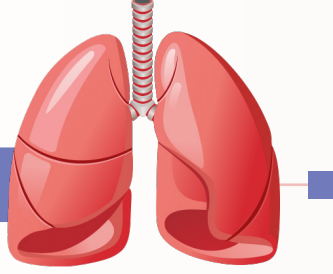


4. أَيُّ الْعِظَامِ تَحْمِي الْأَعْضَاءِ الدَّاخِلِيَّةِ؟

أَتَنَاقَشُ مَعَ زَمِيلِي، أَتَوَقَّعُ مِنْ شَكْلِ الْعِظَامِ مَا الْأَعْضَاءُ الدَّاخِلِيَّةُ الَّتِي تَحْمِيهَا.
أَصِلُ بِخَطِّ بَيْنَ الْعِظَامِ وَبَيْنَ الْأَعْضَاءِ الَّتِي تَحْمِيهَا.



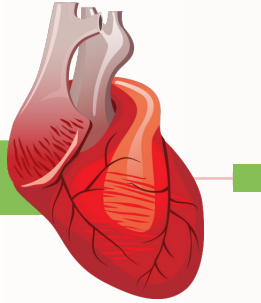
الرِّئَتَيْنِ



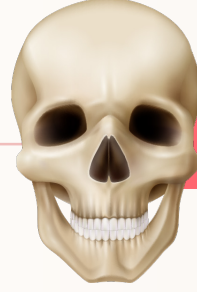
الدِّمَاغُ



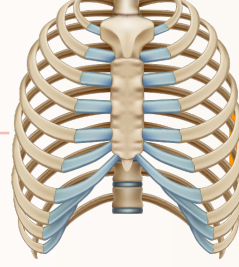
الْقَلْبُ



الْجُمُجْمَةُ



الضُّلُوعُ



أُكْمَلُ الْجُمْلَةَ الْآتِيَةَ:



تَحْمِي الدِّمَاغُ.

تَحْمِي الرِّئَتَيْنِ وَالْقَلْبَ.

تَحْمِي الْجُمُجْمَةُ الدِّمَاغُ وَتَحْمِي الضُّلُوعُ الْقَلْبَ وَالرِّئَتَيْنِ وَهِيَ مِنْ
الْأَعْضَاءِ الرَّئِيسَةِ الَّتِي تُعَدُّ ضَرُورِيَّةً لِبَقَائِنَا عَلَى قَيْدِ الْحَيَاةِ.

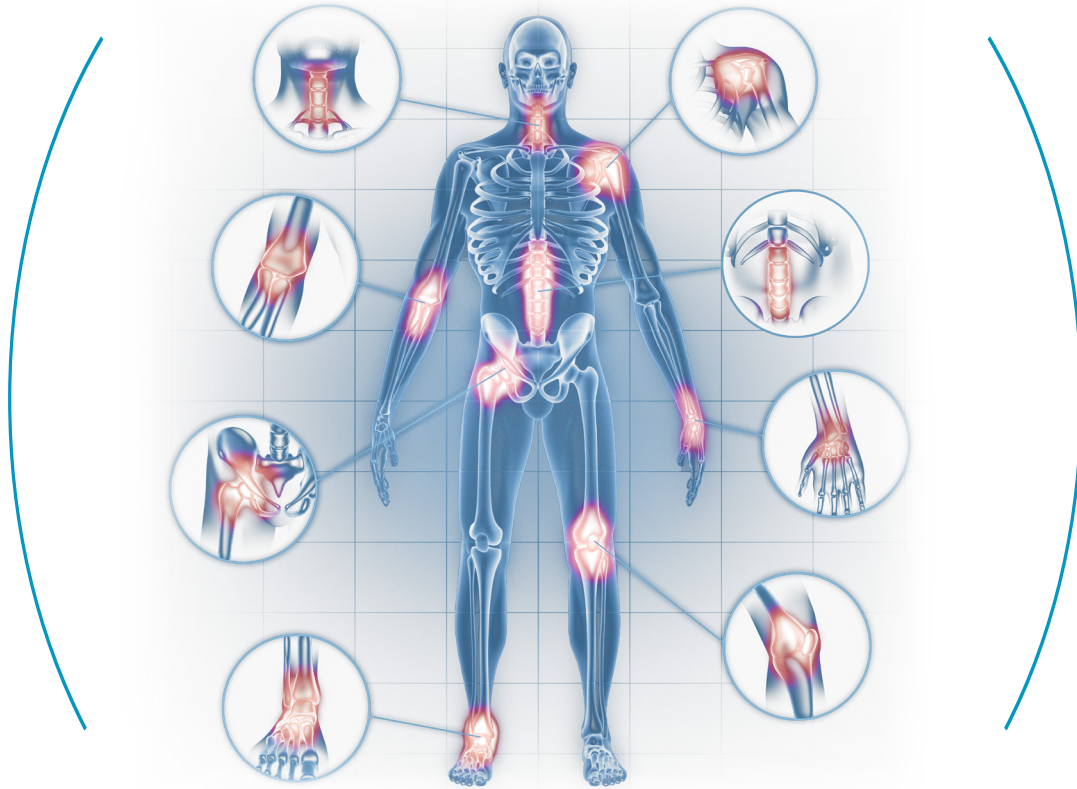


5. مَا أَهْمِيَّةُ الْمَفَاصِلِ؟

أَنْظُرْ إِلَى الشَّكْلِ الْآتِي.

تُمَثِّلُ الْمَنَاطِقُ الْمُضَاءَةُ فِي الْهَيْكَلِ الْعَظْمِيِّ الْمَفَاصِلَ.

اَتَنَاقَشْ مَعَ زَمِيلِي لَأَسْتَنْتَجَ مَا الْمَفَاصِلُ.



أُكْمَلُ الْجُمْلَةَ الْآتِيَةَ بِالْإِسْتِعَانَةِ بِصُنْدُوقِ الْكَلِمَاتِ بِالْأَسْفَلِ:

1. يُسَمَّى الْجُزْءُ الَّذِي تَتَّصِلُ فِيهِ عِظَامُ الْهَيْكَلِ الْعَظْمِيِّ بَعْضُهَا
2. لَدَيْنَا الْعَدِيدُ مِنَ الْمَفَاصِلِ فِي أَجْسَامِنَا. مِثْلَ وَ وَ
3. تَسْمَحُ الْمَفَاصِلُ فِي جِسْمِ الْإِنْسَانِ بِإِدَاءِ أَنْوَاعٍ كَثِيرَةٍ مِنْ

الرُّكْبَةُ - الْحَرَكَاتُ - الْمِرْفَقُ - الرُّسْغُ - الْمَفَصَّلُ

أَتَنَاقَشُ مَعَ زَمِيلِي عَنْ دَوْرِ الْمَفَاصِلِ الْمُخْتَلِفَةِ فِي أَجْسَامِنَا.



أَصِلْ بَيْنَ الْعِبَارَةِ فِي الْعَمُودِ الْأَوَّلِ مَعَ مَا يُنَاسِبُهَا فِي الْعَمُودِ الثَّانِي لَوَصِفِ دَوْرَ كُلِّ مَفْصِلٍ .

الْعَمُودُ أ	الْعَمُودُ ب
أ- يَسْمَحُ لَنَا الْعَمُودُ الْفَقْرِيُّ بِأَنْ	نَأْكُلُ وَنَتَكَلَّمَ.
ب- يَسْمَحُ لَنَا مَفْصِلُ الرُّكْبَةِ بِأَنْ	نَنْحَنِي.
ج- تَسْمَحُ لَنَا مَفَاصِلُ الْفَكَّيْنِ بِأَنْ	نُثْنِي السَّاقَ.
د- يَسْمَحُ لَنَا مَفْصِلُ الْقَدَمِ بِأَنْ	نُحَرِّكُ أَرْجَلَنَا.
هـ- يَسْمَحُ لَنَا مَفْصِلُ الْحَوْضِ بِأَنْ	نُحَرِّكُ الذِّرَاعَ بِكُلِّ الْاتِّجَاهَاتِ.
و- يَسْمَحُ لَنَا مَفْصِلُ الْكَتِفِ بِأَنْ	نَمْشِي.

يُسَمَّى الْجُزْءُ الَّذِي تَتَّصِلُ فِيهِ عِظَامُ الْهَيْكَلِ الْعَظْمِيِّ بِبَعْضِهَا الْمَفْصِلَ. لَدَيْنَا الْعَدِيدُ مِنَ الْمَفَاصِلِ فِي أَجْسَامِنَا. مِثْلَ الرُّكْبَةِ وَالْمِرْفَقِ. تَسْمَحُ مَفَاصِلُ أَجْسَامِنَا بِإِدَاءِ الْعَدِيدِ مِنَ الْحَرَكَاتِ.



ماذا تعلمت؟

أولاً: أتحقق مما تعلمت بوضع إشارة (✓).

☐ من عظام الجسم: الجمجمة، الضلوع، العمود الفقري، الحوض، العضد، الساعد، الفخذ والساق.

☐ للعظام دور مهم في حماية الجسم وحركته ودعمه.

☐ تسمح مفاصل الجسم بأداء العديد من الحركات.

ثانياً: التدريبات

1 اختر الإجابة الصحيحة من بين البدائل الآتية:

أ. أي من الآتي يعد من وظائف الهيكل العظمي؟

a. يساعد على التنفس.

b. يعطي الجسم الشكل والدعامه.

c. يساعد على الهضم.

ب. أين تقع المفاصل؟

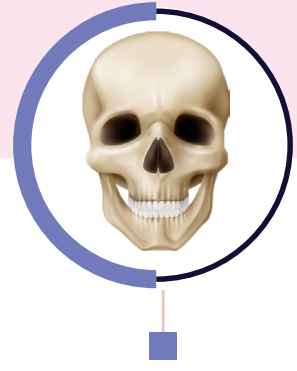
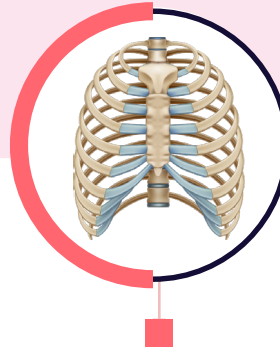
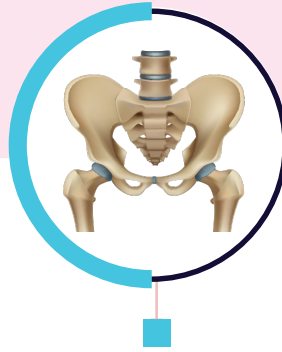
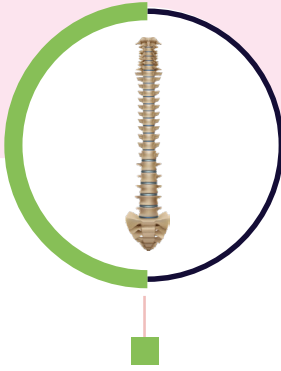
a. منتصف الجسم فقط.

b. مكان التقاء عظمتين من عظام العمود الفقري.

c. مكان التقاء عظمتين من عظام الهيكل العظمي.

2 أَصْلُ بَخَطٍ بَيْنَ شَكْلِ الْعَظْمِ وَاسْمِهِ.

2



الحوض

الضلوع

العمود الفقري

الجمجمة

3 أَضَعُ إِشَارَةً (✓) أَمَامَ الْعِبَارَةِ الصَّحِيحَةِ، وَإِشَارَةً (x) أَمَامَ الْعِبَارَةِ الْخَطَأِ.

3

عِظَامُ الْجِسْمِ لَهَا أَشْكَالٌ وَأَنْوَاعٌ مُتَعَدِّدَةٌ. ☐

يَتَكَوَّنُ الْهَيْكَلُ الْعَظْمِيُّ مِنْ عِظَامٍ بَيْضَاءَ لِينَةٍ. ☐

الْمَفْصِلُ لَا يُسَاعِدُ الْجِسْمَ عَلَى الْحَرَكَةِ. ☐

الْمَفْصِلُ هُوَ نُقْطَةُ التِّقَاءِ بَيْنَ عَظْمَتَيْنِ. ☐

تَحْمِي الضُّلُوعَ الرَّئِئِيَّيْنِ. ☐

تَحْمِي الْجُمُجْمَةَ الْقَلْبَ. ☐

قِيَمَةُ الدَّرْسِ

تَوْحِيدُ الْخَالِقِ الَّذِي أَحْسَنَ كُلَّ شَيْءٍ خَلَقَهُ.

قَالَ تَعَالَى: {ثُمَّ خَلَقْنَا النَّطْفَةَ عَلَقَةً فَخَلَقْنَا الْعَلَقَةَ مُضْغَةً فَخَلَقْنَا
الْمُضْغَةَ عِظْلًا فَكَسَوْنَا الْعِظْمَ لَحْمًا ثُمَّ أَنْشَأْنَاهُ خَلْقًا ءَاخِرًا فَتَبَارَكَ
اللَّهُ أَحْسَنُ الْخَالِقِينَ }.

(الْمُؤْمِنُونَ : 14)

أَصِفْ مَا أَشَاهِدُ فِي الصُّورَةِ.



كَلِمَاتٌ مِفْتَاحِيَّةٌ

عَضَلَةٌ - انْقِبَاضٌ -
انْبِسَاطٌ

1. مَا مَوَاقِعُ عَضَلَاتِ الْجِسْمِ؟

اسْتَمِعْ لِشَرْحِ مُعَلِّمِي عَنْ مَوَاقِعِ بَعْضِ الْعَضَلَاتِ فِي الْجِسْمِ.

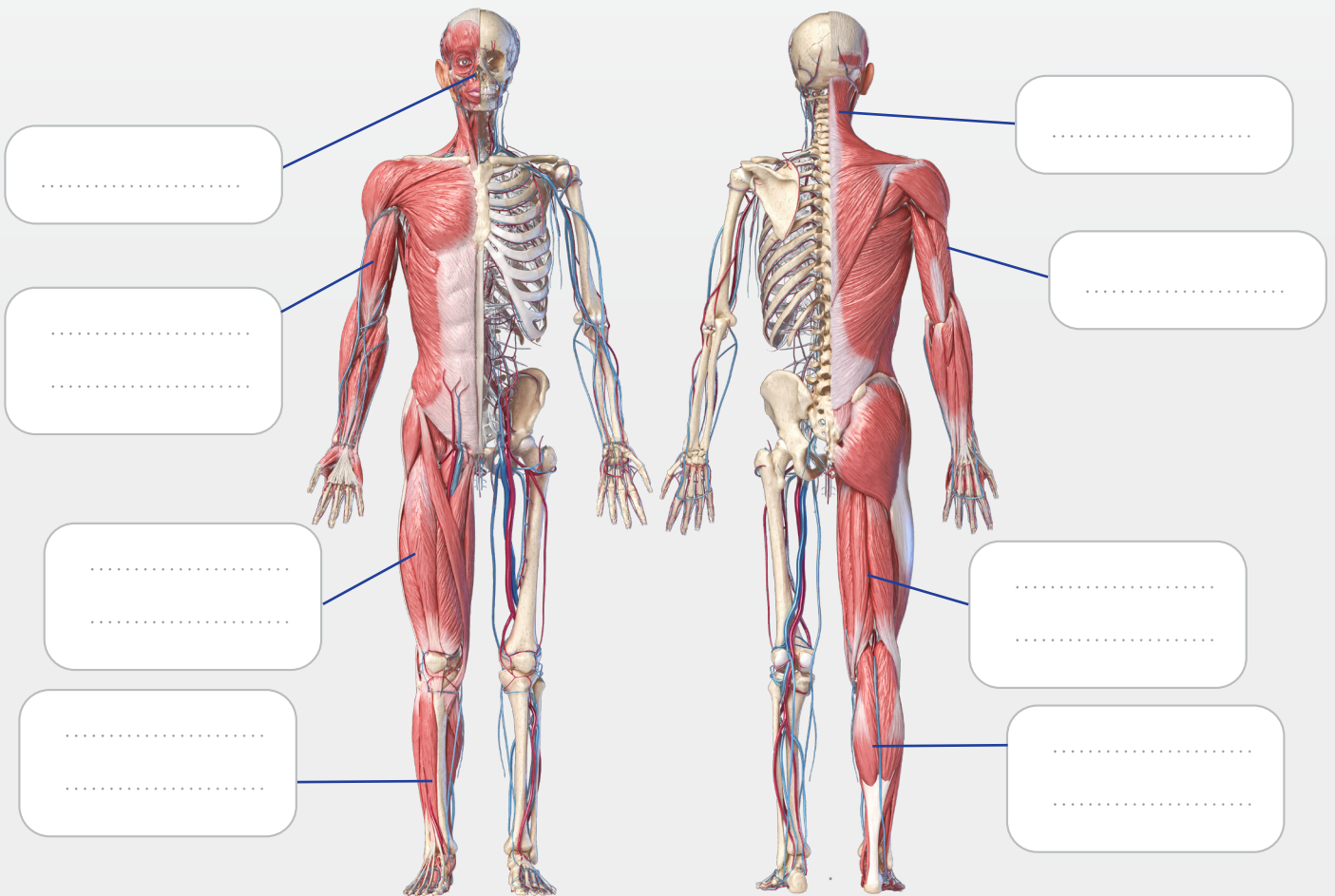


أَسْتَعِينُ بِصُنْدُوقِ الْمُصْطَلَحَاتِ لِأُسَيِّمَ مَجْمُوعَاتِ الْعَضَلَاتِ عَلَى الشَّكْلِ التَّالِي.

عَضَلَاتُ الذِّرَاعِ الْخَلْفِيَّةِ الْعُلْوِيَّةِ - عَضَلَاتُ الذِّرَاعِ الْأَمَامِيَّةِ الْعُلْوِيَّةِ

عَضَلَاتُ الرِّقَبَةِ - عَضَلَاتُ الْفَخْذِ الْأَمَامِيَّةِ - عَضَلَاتُ الْفَخْذِ الْخَلْفِيَّةِ

عَضَلَاتُ الْوَجْهِ - عَضَلَاتُ السَّاقِ الْخَلْفِيَّةِ - عَضَلَاتُ السَّاقِ الْأَمَامِيَّةِ



تَتَنَوَّعُ أَحْجَامُ وَأَشْكَالُ الْعَضَلَاتِ فِي جِسْمِ الْإِنْسَانِ لِتَتَنَاسَبَ مَعَ وَظَائِفِهَا.



اسْتَنْتِجْ

2. مَاذَا يَحْدُثُ عِنْدَ انْقِبَاضِ وَانْبِسَاطِ الْعَضَلَاتِ؟

أَنَاقِشُ مُعَلِّمِي فِي مَا يَحْدُثُ حِينَ تَنْبَسِطُ الْعَضَلَاتُ وَحِينَ تَنْقَبِضُ.



أَلَاحِظُ، أَيْنَمَا أَمْكَنَ، مَا يَحْدُثُ حِينَ يَقْبِضُ شَخْصٌ عَضَلَاتِ جِسْمِهِ الْمُخْتَلِفَةِ وَحِينَ يَبْسُطُهَا.



أَضَعُ يَدِي عَلَى مِنْطَقَةِ الْبَطْنِ، أَقْبِضُ عَضَلَاتِ بَطْنِي بِقُوَّةٍ.
أَصْبَحَ مَلْمَسُ عَضَلَاتِ بَطْنِي طَرِيًّا / قَاسِيًّا.



أَقِفُ أَمَامَ الْمَرْأَةِ، أَقْبِضُ عَضَلَاتِ وَجْهِي نَاحِيَةِ الْجَبِينِ.
أَصْبَحَ وَجْهِي عَابِسًا / طَلِقًا.



أَنَاقِشُ مَا أَسْتَطِيعُ أَنْ أَقُومَ بِهِ عِنْدَ بَسْطِ وَقُبْضِ
عَضَلَاتِ وَجْهِي.

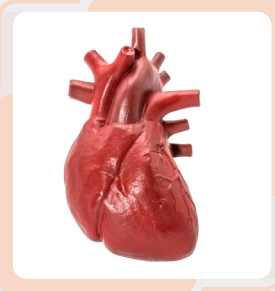


أَمُدُّ يَدِي أَمَامِي، أَقْبِضُ أَصَابِعَ يَدِي بِقُوَّةٍ.

أَصْبَحَتْ قَبْضَةُ يَدِي مُنْبَسِطَةً / مُنْقَبِضَةً.



أَنَاقِشُ مَا أَسْتَطِيعُ أَنْ أَقُومَ بِهِ عِنْدَ بَسْطِ وَقُبْضِ
عَضَلَاتِ يَدِي.



الْقَلْبُ عَضَلَةٌ تَضُخُّ الدَّمَ فِي الْجِسْمِ

هَلْ أَسْتَطِيعُ قَبْضَ أَوْ بَسْطَ عَضَلَةِ الْقَلْبِ؟

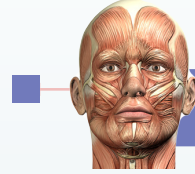


أَنَاقِشُ إِنْ كُنْتُ أَسْتَطِيعُ أَنْ أَتَحَكَّمَ فِي جَمِيعِ عَضَلَاتِ جِسْمِي؟



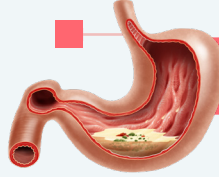
أَصْلُ يَنْنَ الْعَضَلَةِ وَالْوُظَيْفَةُ الَّتِي تَقُومُ بِهَا:

تَحْرِيكُ الرَّأْسِ



عَضَلَاتُ الْوَجْهِ

أَدَاءُ تَغَايِيرِ الْوَجْهِ



عَضَلَاتُ الْمَعِدَةِ

تُسَاعِدُ عَلَى هَضْمِ الطَّعَامِ



عَضَلَاتُ الرِّقَبَةِ

تَحْرِيكُ الْأَصَابِعِ وَالْإِمْسَاكِ بِالأَشْيَاءِ




عَضَلَاتُ السَّاقِ

الْمَشْيِ وَالرَّكُضِ



عَضَلَاتُ الْيَدِ

مَا وَظِيفَةُ عَضَلَةِ اللِّسَانِ؟ 

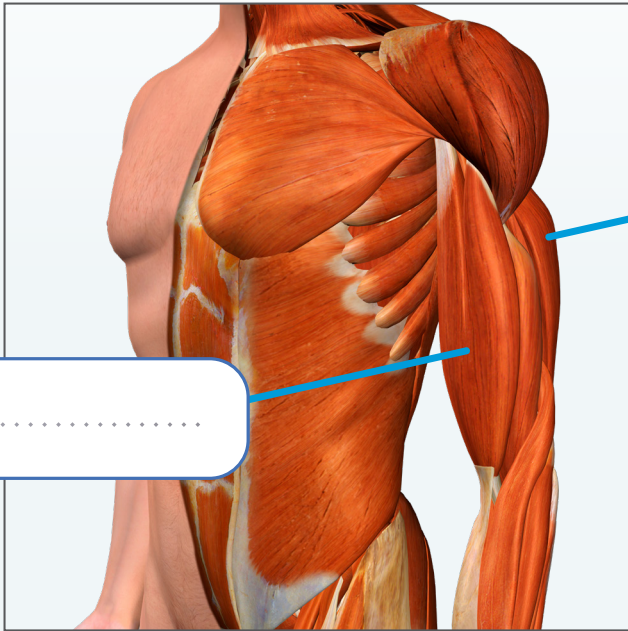
تَتَوَزَّعُ الْعَضَلَاتُ فِي جَمِيعِ أُنْحَاءِ الْجِسْمِ، بَعْضُهَا تَرْتَبِطُ بِالْعِظَامِ فَتُسَاعِدُنَا كَيْ نَتَحَرَّكَ. تَنْقَبِضُ عَضَلَاتُنَا وَتَنْبَسِطُ لِتَصْنَعَ الْحَرَكَةَ. تُسَاعِدُ الْعَضَلَاتُ فِي الْكَثِيرِ مِنَ الْوُظَايِفِ الْمُهِّمَةِ مِثْلَ الْحَرَكَةِ وَالتَّنَفُّسِ وَالْهَضْمِ. نَسْتَطِيعُ أَنْ نَتَحَكَّمَ فِي بَعْضِ عَضَلَاتِ الْجِسْمِ.



3. كَيْفَ تَعْمَلُ الْعَضَلَاتُ مَعًا؟

أَنْظُرْ إِلَى الصُّورِ الْمُبَيِّنَةِ فِي النَّشَاطِ الْأَوَّلِ لِتَتَذَكَّرَ مَوَاقِعَ الْعَضَلَاتِ: 

اسْمِ الْعَضَلَاتِ فِي الصُّورَةِ التَّالِيَةِ:

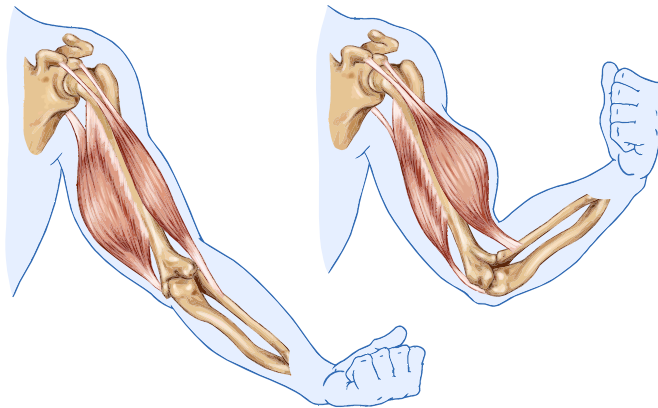


.....

.....

نَسْتَخِدُّمُ الْعَضَلَاتِ فِي الشَّكْلِ السَّابِقِ لـ الذِّرَاعِ.

عِنْدَمَا أَمِدُّ ذِرَاعِي،
تَنْبَسِطُ الْعَضَلَةُ
الْأَمَامِيَّةُ فَتُصْبِحُ
طَوِيلَةً وَمُمَدَّدَةً.
وَتَنْقَبِضُ الْعَضَلَةُ
الْخَلْفِيَّةُ فَتُصْبِحُ
قَصِيرَةً وَمُنْتَفَخَةً.



عِنْدَمَا أَثْنِي ذِرَاعِي،
تَنْقَبِضُ الْعَضَلَةُ
الْأَمَامِيَّةُ فَتُصْبِحُ
قَصِيرَةً وَمُنْتَفَخَةً.
وَتَنْبَسِطُ الْعَضَلَةُ
الْخَلْفِيَّةُ فَتُصْبِحُ
طَوِيلَةً وَمُمَدَّدَةً.

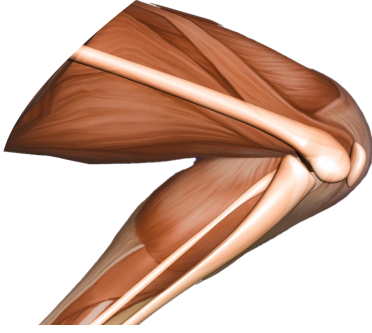
تَعْمَلُ الْعَضَلَاتُ عَلَى شَكْلِ فَرَادَى / أَزْوَاجٍ لِتَصْنَعَ الْحَرَكَةَ.



أَسْتَغْنِي بِصُنْدُوقِ الْمُفْرَدَاتِ لِأُكْمِلَ الْجُمْلَةَ الْآتِيَةَ.



الْجُلُوسُ - الْفَخْذُ - الْوَقُوفُ



نَتَمَكَّنُ مِنْ وَ عِنْدَمَا تَعْمَلُ
عَضَلَاتُ السَّاقِ وَعَضَلَاتُ مَعًا.

اشرحُ بِعِبَارَاتٍ بَسِيطَةٍ حَرَكَةَ عَضَلَاتِ الذِّرَاعِ الْعُلْوِيَّةِ الَّتِي يَقُومُ بِهَا الرِّيَاضِيُّ عِنْدَ
مُمَارَسَةِ تَمَرِينِ رَفْعِ الْأَثْقَالِ.



.....

.....

.....

.....

.....

.....

تَعْمَلُ الْعَضَلَاتُ فِي أَزْوَاجٍ لِتَصْنَعَ الْحَرَكَةَ.
نَسْتَخْدِمُ الْعَضَلَاتِ الْأَمَامِيَّةَ وَالْخَلْفِيَّةَ لِلذِّرَاعِ الْعُلْوِيَّةِ عِنْدَ
ثَنِيِّ الذِّرَاعِ وَتَحْرِيكِهَا.
نَسْتَخْدِمُ الْعَضَلَاتِ الْأَمَامِيَّةَ وَالْخَلْفِيَّةَ لِلسَّاقِ وَعَضَلَاتِ
الْفَخْذِ عِنْدَ ثَنِيِّ الرَّجْلِ وَتَحْرِيكِهَا.



ماذا تعلمت؟

أولاً: أَتَحَقَّقُ مِمَّا تَعَلَّمْتُ بِوَضْعِ إِشَارَةٍ (✓) .

مِنْ عَضَلَاتِ الْجِسْمِ: عَضَلَاتِ الرِّقَبَةِ، الْوَجْهِ، الذِّرَاعِ، السَّاقِ وَالْفَخْذِ. ☐

تُسَاعِدُ الْعَضَلَاتُ فِي الْحَرَكَةِ وَالتَّنَفُّسِ وَالْهَضْمِ. ☐

تَعْمَلُ الْعَضَلَاتُ فِي أَزْوَاجٍ لِتَصْنَعَ الْحَرَكَةَ. ☐

ثانياً: التَّدْرِيبَات

1 أَضَعُ إِشَارَةً (✓) أَمَامَ الْعِبَارَةِ الصَّحِيحَةِ، وَإِشَارَةً (x) أَمَامَ الْعِبَارَةِ الْخَطَأِ.

تَتَّصِلُ بَعْضُ الْعَضَلَاتِ بِالْهَيْكَلِ الْعَظْمِيِّ. ☐

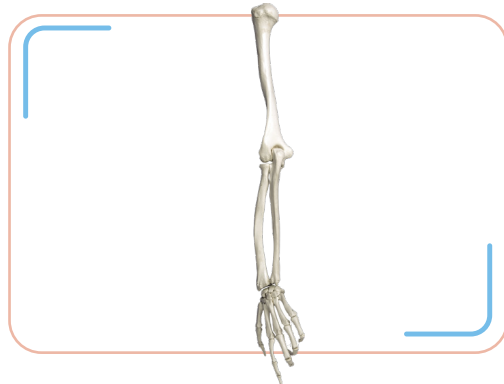
تَعْمَلُ جَمِيعُ الْعَضَلَاتِ بِشَكْلِ فَرْدِيٍّ. ☐

تُسَاعِدُ عَضَلَاتُ الرِّقَبَةِ عَلَى حَرَكَةِ الرَّأْسِ. ☐

لَا نَسْتَطِيعُ أَنْ نَتَحَكَّمَ فِي عَضَلَاتِ الْقَلْبِ وَالْأَمْعَاءِ. ☐

نَسْتَخْدِمُ عَضَلَاتِ السَّاقِ وَعَضَلَاتِ الْفَخْذِ عِنْدَ ثَنِي الرَّجْلِ وَتَحْرِيكِهَا. ☐

2 أَرَسُمُ الْعَضَلَتَيْنِ الْأَمَامِيَّةِ وَالْخَلْفِيَّةِ لِلذِّرَاعِ الْعُلْوِيَّةِ عِنْدَمَا تَكُونُ الذِّرَاعُ مُمْتَدَّةً وَعِنْدَمَا تَكُونُ الذِّرَاعُ مَثْنِيَّةً. أَكْتُبُ عَلَى كُلِّ مِنَ الصُّورَتَيْنِ أَسْمَاءَ الْعَضَلَاتِ.



الْوَحْدَةُ الرَّابِعَةُ خَصَائِصُ وَحَالَاتُ الْمَادَّةِ



فِي نِهَآيَةِ هَذِهِ الْوَحْدَةِ سَوْفَ:

- أَفْهَمُ مُصْطَلَحِ الشَّكْلِ عَلَى أَنَّهُ الْهَيْئَةُ الَّتِي تَأْخُذُهَا الْمَادَّةُ.
- أَفْهَمُ أَنَّ مُصْطَلَحَ الْحَجْمِ يَعْنِي مِقْدَارَ الْحِيزِ الَّذِي يَشْغُلُهُ الشَّيْءُ.
- أَفْهَمُ أَنَّ مُصْطَلَحَ الْكُتْلَةِ يَعْنِي مِقْدَارَ مَا يَحْتَوِيهِ الشَّيْءُ مِنْ مَادَّةٍ.
- أَشْرَحُ أَنَّ الْمَادَّةَ الصُّلْبَةَ لَهَا حَجْمٌ ثَابِتٌ وَكُتْلَةٌ ثَابِتَةٌ وَشَكْلٌ ثَابِتٌ.
- أَشْرَحُ أَنَّ الْمَادَّةَ السَّائِلَةَ لَهَا حَجْمٌ ثَابِتٌ وَكُتْلَةٌ ثَابِتَةٌ وَلَيْسَ لَهَا شَكْلٌ ثَابِتٌ.
- أَشْرَحُ أَنَّ الْمَادَّةَ الْغَازِيَةَ لَيْسَ لَهَا حَجْمٌ أَوْ شَكْلٌ ثَابِتٌ وَلَكِنْ كُتْلَتُهَا ثَابِتَةٌ.
- أُعْطِي أَمْثَلَةً مِنَ الْحَيَاةِ الْيَوْمِيَّةِ عَنِ الْمَوَادِّ الصُّلْبَةِ وَالسَّائِلَةِ وَالْغَازِيَةِ.


قِيَمَةُ الدَّرْسِ

التَّفَكُّرُ فِي حِكْمَةِ خَلْقِ اللَّهِ لِكُلِّ شَيْءٍ بِمِقْدَارٍ.

قال تعالى: { إِنَّا كُلَّ شَيْءٍ خَلَقْنَاهُ بِقَدَرٍ ﴿٤٩﴾ }

(سُورَةُ الْقَمَرِ: 49)

أَصِفْ مَا أُرَاهِدُ فِي الصُّورَةِ.



كَلِمَاتٌ مِفْتَاحِيَّةٌ

كُتْلَةٌ - شَكْلٌ - حَجْمٌ

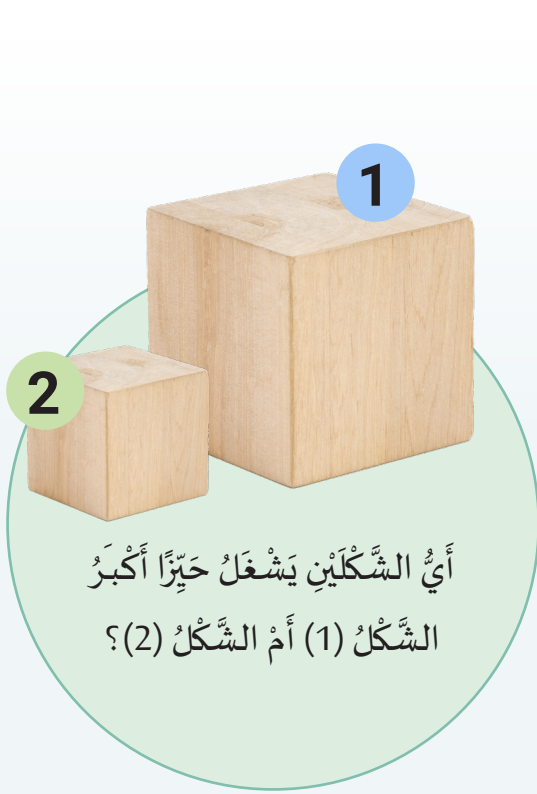
1. مَا أَهَمُّ خَصَائِصِ الْمَادَّةِ؟



أَتَأَمَّلُ الصُّورَ التَّالِيَةَ وَأَصِفُ مَا أَرَاهُ.



أَتَنَاقَشُ مَعَ زَمِيلِي لِأُجِيبَ عَنِ الْأَسْئَلَةِ التَّالِيَةِ.



أَيُّ الشَّكْلَيْنِ يَشْغَلُ حَيِّزًا أَكْبَرَ
الشَّكْلُ (1) أَمْ الشَّكْلُ (2)؟



بِمَا يَخْتَلِفُ الشَّكْلُ (1)
عَنِ الشَّكْلِ (2)؟



بِرَأْيِكَ، أَيُّ الشَّكْلَيْنِ أَثْقَلُ
الشَّكْلُ (1) أَمْ الشَّكْلُ (2)؟

لِلْمَوَادِّ خَصَائِصُ مُخْتَلِفَةٌ.



اسْتَنْتِجْ

2. كَيْفَ أَصِفُ الْأَشْكَالَ؟




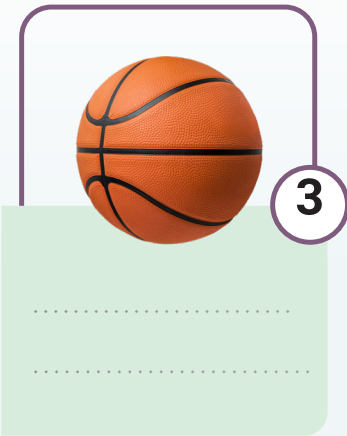
أَتَأَمَّلُ أَشْكَالَ الْأَشْيَاءِ التَّالِيَةِ، أَحَاوِلُ أَنْ أَصِفَ كَيْفَ تَبْدُو.



أُحَدِّدُ صِفَتَيْنِ لِكُلِّ شَكْلٍ مُسْتَعِينًا بِقَائِمَةِ الصِّفَاتِ أَدْنَاهُ.



مُنْتَظَم - غَيْرُ مُنْتَظَم - ثُنَائِي الْأَبْعَاد - ثُلَاثِي الْأَبْعَاد



أَذْكُرُ صِفَاتاً أُخْرَى مُحْتَمَلَةً لِلْأَشْكَالِ

هَلِ الشَّيْءُ لَهُ شَكْلٌ ثَابِتٌ؟



لِلْأَشْيَاءِ أَشْكَالٌ مُخْتَلِفَةٌ، يُعَبِّرُ الشَّكْلُ عَنِ الْهَيْئَةِ الْخَارِجِيَّةِ
الَّتِي تَأْخُذُهَا الْمَادَّةُ.




3. مَا الْحَجْمُ؟

أَتَأْمَلُ الصُّوَرَ الثَّلَاثَ الْآتِيَةَ.



بِمَا تَخْتَلِفُ هَذِهِ الْأَشْيَاءُ؟



لَوْ أَحْضَرْنَا وَعَاءً بِهِ مَاءٌ كَمَا فِي الْوِعَاءِ الْأَوَّلِ، ثُمَّ وَضَعْنَا الْأَدَوَاتِ الثَّلَاثَةَ بِهِ عَلَى التَّوَالِي.
مَاذَا تُلَاحِظُ؟



أَتَنَاقَشُ مَعَ زَمِيلِي لِأَسْتَنْتِجَ مَاذَا يَعْنِي الْحَجْمُ.



يُمْكِنُ أَنْ يَكُونَ لِلْأَشْيَاءِ ذَاتِ الشَّكْلِ نَفْسِهِ أَحْجَافًا مُخْتَلِفَةً.
الْحَجْمُ هُوَ مِقْدَارُ الْحَيَازِ الَّذِي يَشْغَلُهُ الشَّيْءُ.



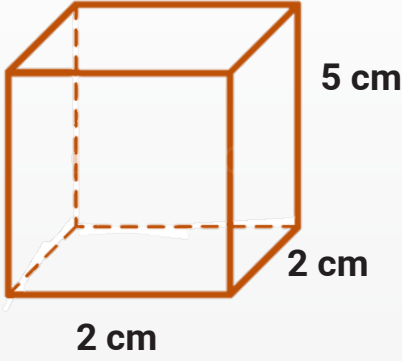
4. كَيْفَ أَجْدُ الْحَجْمَ؟

أ) يُمكنُنِي حِسَابُ حَجْمِ شَيْءٍ صُلْبٍ مُنْتَظِمٍ بِمَعْرِفَةِ قِيَاسِ طَوْلِهِ وَعَرْضِهِ وَارْتِفَاعِهِ.

استُخْدِمُ مِسْطَرَةً لِأَقِيسَ عَرْضَ شَيْءٍ الْمَكْعَبِ وَطَوْلَهُ وَارْتِفَاعِهِ.

لِإِيجَادِ حَجْمِ شَيْءٍ الْمَكْعَبِ أَجْدُ نَاتِجَ ضَرْبِ

(الطَّوْلُ × العَرْضُ × الارتفاع).



حَجْمُ الْمَكْعَبِ =

وَحْدَةُ قِيَاسِ الْحَجْمِ وَيُرْمَزُ لَهَا

ب) يُمكنُنِي إِيجَادُ حَجْمِ شَيْءٍ صُلْبٍ غَيْرِ مُنْتَظِمٍ بِاسْتِخْدَامِ طَرِيقَةِ إِزَاحَةِ السَّائِلِ.

أَمَلًا مِخْبَارًا مُدْرَجًا بِالمَاءِ وَأُسَجِّلُ ارْتِفَاعَهُ.

أَضَعُ الشَّيْءَ فِي المَاءِ.

أُلَاحِظُ التَّغْيِيرَ فِي ارْتِفَاعِ المَاءِ.

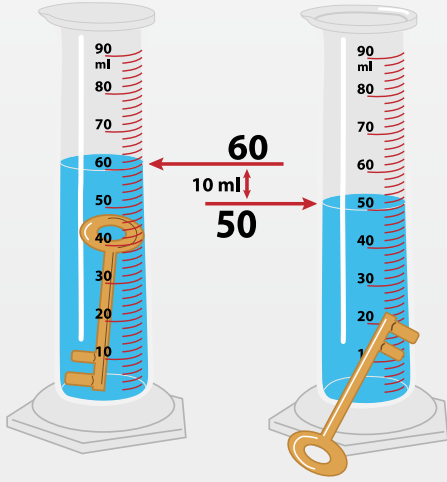
الْفَرْقُ فِي ارْتِفَاعِ المَاءِ يُسَاوِي حَجْمَ الشَّيْءِ.

حَجْمُ المَاءِ قَبْلَ وَضْعِ الْمِفْتَاحِ =

حَجْمُ المَاءِ بَعْدَ وَضْعِ الْمِفْتَاحِ =

حَجْمُ المَاءِ الْمَزَاحِ بِالمِلِيلِترِ =

حَجْمُ الْمِفْتَاحِ بِالسَّنْتِيمِترِ الْمَكْعَبِ =



يُمكنُنِي مَعْرِفَةُ حَجْمِ المَوَادِّ الصُّلْبَةِ بِقِيَاسِ أبعادِهَا أَوْ بِطَرِيقَةِ إِزَاحَةِ السَّائِلِ.

وَحْدَةُ قِيَاسِ حَجْمِ المَوَادِّ الصُّلْبَةِ هِيَ سَنْتِيْمِترُ مُكْعَبٍ (cm³).


وَحْدَةُ قِيَاسِ حَجْمِ السَّوَائِلِ هِيَ المِلِيلِترُ (ml).

1 سَنْتِيْمِترُ مُكْعَبٍ (cm³) يُسَاوِي 1 مِلِيلِترَ (ml).



5. مَا الْكُتْلَةُ؟

يُعْطِينِي مُعَلِّي كُرَةً مُصَمَّمَةً وَكُرَةً مُجَوَّفَةً لِهَـمَا نَفْسُ الْحَجْمِ، أَتَوَقَّعُ أَنَّهُمَا أَثْقَلُ.



مَاذَا أَلَا حِظُّ؟

أَلَا حِظُّ أَنَّ الْكُرَةَ الْأَثْقَلَ لَهَا كُتْلَةٌ أَصْغَرُ / أَكْبَرُ.

أَتَنَاقَشُ مَعَ زَمِيلِي لِأَتَوَقَّعَ مَاذَا تَعْنِي الْكُتْلَةُ.



لَدَيْنَا وِعَاءَيْنِ زُجَاجِيَيْنِ مُمْتَلِئَيْنِ لِهَـمَا
نَفْسُ الْحَجْمِ، مِلْئِ أَحَدُهُمَا نُقُودًا
مَعْدِنِيهِ، وَمِلْئِ الْأُخْرَى حَلَوَى الْخَطْمِي
(الْمَارْشَمِيلُو).

أَقُومُ بِحَمْلِ الْوِعَاءَيْنِ، مَاذَا أَلَا حِظُّ؟

أَلَا حِظُّ أَنَّ وِعَاءَ النُّقُودِ الْمَعْدِنِيَّةِ لَهُ
كُتْلَةٌ أَصْغَرُ / أَكْبَرُ مِنْ وِعَاءِ الْحَلَوَى.

مَاذَا تَسْتَنْتِجُ؟

بَعْضُ الْأَشْيَاءِ الصُّلْبَةِ لَهَا نَفْسُ الْحَجْمِ لَكِنَّ كُتْلَتَهَا مُخْتَلِفَةٌ / مُتَشَابِهَةٌ.

يَكُونُ لِلشَّيْءِ الْأَثْقَلِ كُتْلَةٌ أَكْبَرُ وَلِلشَّيْءِ الْأَخْفِ كُتْلَةٌ أَصْغَرُ.
الشَّيْءُ الَّذِي يَحْتَوِي عَلَى مَادَّةٍ أَكْثَرَ تَكُونُ كُتْلَتُهُ أَكْبَرُ.
الْكُتْلَةُ هِيَ كَمِّيَّةُ الْمَادَّةِ الْمَوْجُودَةِ فِي شَيْءٍ مُعَيَّنٍ.



6. كَيْفَ أَقْبَسُ الْكُتْلَةَ؟

يُمْكِنُنَا مَعْرِفَةُ كُتْلِ الْأَشْيَاءِ بِدِقَّةٍ مِنْ خِلَالِ قِيَاسِهَا بِاسْتِخْدَامِ مَقْيَاسِ الْكُتْلَةِ (الْمِيزَانِ).
تُوجَدُ أَنْوَاعٌ مُتَعَدِّدَةٌ مِنَ الْمَوَازِينِ مَثَلُ:



الْمِيزَانُ الْإِلِكْتْرُونِيّ




الْمِيزَانُ ذِي الْكَفَّةِ الْوَاحِدَةِ




الْمِيزَانُ ذِي الْكُفَّتَيْنِ

كُلَّمَا زِدَادَتْ كُتْلَةُ الشَّيْءِ ارْتَفَعَ الْعَدَدُ الَّذِي أَقْرَأُهُ عَلَى مَقْيَاسِ الْكُتْلَةِ.



يُمْكِنُ اسْتِخْدَامُ وَحَدَاتٍ مُخْتَلِفَةٍ عِنْدَ قِيَاسِ كُتْلَةِ الْأَشْيَاءِ.
أَقْرَأْ قِيَمَ الْكُتْلِ الْمَقَاسَةِ الْآتِيَةِ، مَعَ ذِكْرِ الْوَحْدَةِ: 



الْكُتْلَةُ هِيَ مِقْدَارُ الْمَادَّةِ الْمَوْجُودَةِ فِي الشَّيْءِ.
يُسْتَخْدَمُ مَقْيَاسُ الْكُتْلَةِ (الْمِيزَانُ) لِقِيَاسِ كُتْلَةِ الْمَوَادِّ.
نُسْتَخْدَمُ وَحْدَةَ الْجَرَامِ (g) لِقِيَاسِ الْكُتْلِ الصَّغِيرَةِ.
وَوَحْدَةُ الْكِيلُوجَرَامِ (Kg) لِقِيَاسِ الْكُتْلِ الْكَبِيرَةِ.



ماذا تعلمت؟

أولاً: أتحقق مما تعلمت بوضع إشارة (✓).

الكُتْلَةُ هي مقدار ما يحتويه الشيء من مادة. ☐

الحجم هو مقدار الحيز الذي يشغله الشيء. ☐

الشكل هو الهيئة الخارجية التي تأخذها المادة. ☐

ثانياً: التدرّبات

1 أضع إشارة (✓) أمام العبارة الصحيحة، وإشارة (x) أمام العبارة الخطأ.

الكُتْلَةُ تعني مقدار الحيز الذي يشغله الشيء. ☐

الأشياء ذات الأحجام المتشابهة لها دائماً نفس الكُتْلَةُ. ☐

الشكل هو الهيئة الخارجية التي يكون عليها الشيء. ☐

الجرام هو وحدة قياس تُعبّر عن الكتل الصغيرة. ☐

نُقاس الأحجام باستخدام الموازين. ☐

2 أحدد رمز الوحدة المناسبة لكل مما يلي:

• وحدة قياس حجم السائل

• وحدة قياس الكتل الصغيرة

• وحدته قياس حجم المواد الصلبة

• وحدة قياس الكتل الكبيرة




3 أَصْلُ الشَّيْءِ فِي الصُّورَةِ مَعَ الْكُتْلَةِ الْمُنَاسِبَةِ لَهُ:

3



4 فِي التَّجَرِبَةِ التَّالِيَةِ تَمَّ غَمْرُ كُرَّةٍ بِالْمَاءِ لِحِسَابِ حَجْمِهَا بِطَرِيقَةِ إِزَاحَةِ السَّائِلِ، مَا حَجْمُ الْكُرَّةِ؟

4



قِيَمَةُ الدَّرْسِ

التَّأَمُّلُ فِي الظَّوَاهِرِ الطَّبِيعِيَّةِ.

قَالَ تَعَالَى: { أَلَمْ تَرَ أَنَّ اللَّهَ يُزْجِي سَحَابًا ثُمَّ يُؤَلِّفُ بَيْنَهُ ثُمَّ يَجْعَلُهُ رُكَامًا فَتَرَى الْوَدْقَ يَخْرُجُ مِنْ خِلَالِهِ وَيُنْزِلُ مِنَ السَّمَاءِ مِنْ جِبَالٍ فِيهَا مِنْ بَرَدٍ فَيُصِيبُ بِهِ مَنْ يَشَاءُ وَيَصْرِفُهُ عَنْ مَنْ يَشَاءُ يَكَادُ سَنَا بَرْقُهُ يَذْهَبُ بِالْأَبْصَرِ }.

(سورة النور: 43)

أَصِفْ مَا أُرْشَاهِدُ فِي الصُّورَةِ.



كَلِمَاتٌ مِفْتَاحِيَّةٌ

صُلْبٌ - سَائِلٌ - غَارٌ -

جُسَيْمَاتٌ

1. مَا حَالَاتِ الْمَادَّةِ؟



أَلَا حِظُّ وَأَصِفْ خَصَائِصُ حَالَاتِ الْمَادَّةِ الثَّلَاثِ.

الْمَادَّةُ الصُّلْبَةُ:

مِثْلُ: الْقَلَمِ وَالْهَاتِفِ وَالْجَوَالِ وَالْكِتَابِ.

خَصَائِصُ الْمَادَّةِ الصُّلْبَةِ:

- شَكْلُهَا ثَابِتٌ: لَا يَتَغَيَّرُ شَكْلُ الْمَادَّةِ الصُّلْبَةِ فِي الظُّرُوفِ الْعَادِيَّةِ.
- كُتْلَتُهَا ثَابِتَةٌ: تَبْقَى كُتْلَةُ الشَّيْءِ الصُّلْبِ ثَابِتَةً.

- حَجْمُهَا ثَابِتٌ: بِمَا أَنَّ شَكْلَ الْمَادَّةِ الصُّلْبَةِ ثَابِتٌ وَكُتْلَتُهَا ثَابِتَةٌ فَإِنَّ حَجْمَهَا يَبْقَى ثَابِتًا أَيْضًا.

الْمَادَّةُ السَّائِلَةُ:

مِثْلُ: الْحَلِيبِ وَالْمَاءِ وَوَقُودِ السَّيَّارَاتِ.

خَصَائِصُ الْمَادَّةِ السَّائِلَةِ:

- شَكْلُهَا غَيْرُ ثَابِتٍ: يَأْخُذُ السَّائِلُ شَكْلَ الْوِعَاءِ الَّذِي يُوضَعُ فِيهِ.
- كُتْلَتُهَا ثَابِتَةٌ: كُتْلَةُ السَّائِلِ ثَابِتَةٌ حَتَّى عِنْدَ تَغْيِيرِ شَكْلِهَا.
- حَجْمُهَا ثَابِتٌ: حَجْمُ الْمَادَّةِ السَّائِلَةِ ثَابِتٌ.

المَادَّةُ الْغَازِيَّةُ:

مِثْلُ: الْهَوَاءِ وَبُخَارِ الْمَاءِ.

مِنْ خَصَائِصِ الْمَادَّةِ الْغَازِيَّةِ:

• شَكْلُهَا غَيْرُ ثَابِتٍ: لَيْسَ لَهَا شَكْلًا ثَابِتًا، فَهِيَ تَنْتَشِرُ فِي الْحَيِّزِ الَّذِي تَتَوَاجَدُ فِيهِ.

• كُتْلَتُهَا ثَابِتَةٌ: كُتْلَةُ الْغَازَاتِ صَغِيرَةٌ جِدًّا إِذَا مَا قَارَنَّاها بِكُتْلَةِ الْمَادَّةِ الصُّلْبَةِ أَوْ السَّائِلَةِ.

• حَجْمُهَا غَيْرُ ثَابِتٍ: لَيْسَ لِلْغَازَاتِ حَجْمٌ ثَابِتٌ فَهِيَ تَمَلَأُ الْمَكَانَ الَّذِي تَكُونُ فِيهِ.

مِنْ الصَّعْبِ مُمْلَاحَظَةُ مُعْظَمِ الْغَازَاتِ لِأَنَّهَا لَا نَسْتَطِيعُ رُؤْيَها، لَكِنْ مِنْ الْمُمْكِنِ مُمْلَاحَظَةُ الْفُقَاعَاتِ الَّتِي تُنتِجُهَا الْغَازَاتُ عِنْدَمَا تَكُونُ فِي سَائِلٍ كَالْمَاءِ.

؟ مَا حَالَةُ الْمَادَّةِ فِي كُلِّ مِمَّا يَلِي:

- زَعَانِفُ السِّبَاحَةِ.
- الْهَوَاءُ فِي أَنْبُوبِ التَّنَفُّسِ.
- مَاءُ الْبَحْرِ.

تُوجَدُ الْمَوَادُّ مِنْ حَوْلِنَا بِحَالَاتٍ مُخْتَلِفَةٍ، فَالْهَوَاءُ الَّذِي نَتَنَفَّسُهُ غَازٌ، وَالْمَاءُ الَّذِي نَشْرَبُهُ سَائِلٌ، وَالْكَتَّابُ الَّذِي نَسْتَخْدِمُهُ صُلْبٌ، فَحَالَاتُ الْمَادَّةِ ثَلَاثٌ هِيَ الصُّلْبَةُ وَالسَّائِلَةُ وَالْغَازِيَّةُ، لِلْمَوَادِّ الصُّلْبَةِ شَكْلٌ وَحَجْمٌ وَكُتْلَةٌ ثَابِتٌ، لِلْسَّوَائِلِ حَجْمٌ وَكُتْلَةٌ ثَابِتَةٌ وَشَكْلُهَا غَيْرُ ثَابِتٍ، وَلِلْغَازَاتِ شَكْلٌ وَحَجْمٌ غَيْرُ ثَابِتٍ وَكُتْلَةٌ ثَابِتَةٌ.



اسْتَنْتِجْ

2. كَيْفَ تَتَرْتَّبُ الْجُسَيْمَاتُ فِي الْمَوَادِّ الْصُّلْبَةِ وَالسَّائِلَةِ وَالْغَازِيَةِ؟


تَتَكُونُ الْمَادَّةُ مِنْ أَشْيَاءَ صَغِيرَةٍ جِدًّا تُسَمَّى جُسَيْمَاتٍ.

👁️ أَلَا حِظُّ تَرْتِيبِ الْجُسَيْمَاتِ لِلْمَوَادِّ الْمُشَارِ إِلَيْهَا فِي الشَّكْلِ الْآتِي.


أَقْرَأِ الْأَوْصَافَ فِي الصَّفْحَةِ التَّالِيَةِ لِأَحَدِ حَالَةِ الْمَوَادِّ فِي الشَّكْلِ وَاكْتُبِهَا فِي الْمَكَانِ الْمُحَدَّدِ.

مُسْتَعْدِمًا أَحَدَ الْمُصْطَلَحَاتِ التَّالِيَةِ (صُلْبٌ - سَائِلٌ - غَازٌ).


.....




.....



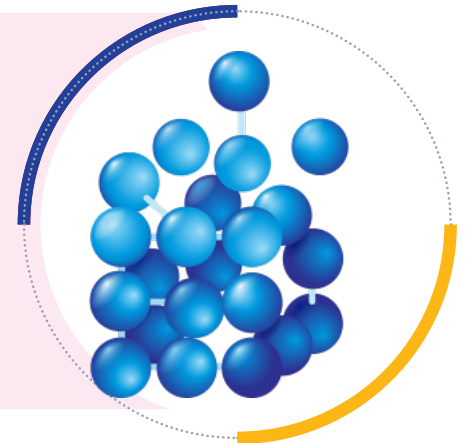
.....



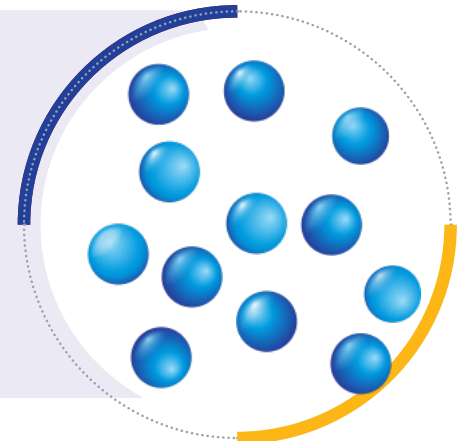
تَكُونُ الْجُسَيْمَاتُ مُرْتَبَةً وَفَقَ نَمَطٍ مُحددٍ وَمُتَقَارِبَةٍ
جِدًّا مِنْ بَعْضِهَا بَعْضًا مَا يَجْعَلُ حَرَكَتَهَا أَمْرًا صَعْبًا
جِدًّا وَلَا تَتَحَرَّكُ كَثِيرًا، بَلْ تَهْتَزُّ فِي مَكَانِهَا، لِذَا فَإِنْ
حَجْمُهَا وَشَكْلُهَا وَكُتْلَتُهَا جَمِيعُهَا ثَابِتَةٌ.



تَكُونُ جُسَيْمَاتُ الْمَادَّةِ مُتَقَارِبَةً مِنْ بَعْضِهَا بَعْضًا
مِمَّا يُمْكِنُهَا مِنَ التَّحَرُّكِ بِسُهُولَةٍ. مَا يَعْنِي أَنْ لَيْسَ لَهَا
شَكْلٌ ثَابِتٌ، بَلْ تَأْخُذُ شَكْلَ الْوِعَاءِ الَّذِي تُوضَعُ فِيهِ
لَكِنَّ حَجْمُهَا وَكُتْلَتُهَا ثَابِتَةٌ.



تَكُونُ جُسَيْمَاتُ الْمَادَّةِ مُتَبَاعِدَةً جِدًّا وَتَنْتَشِرُ فِي
جَمِيعِ الْاتِّجَاهَاتِ وَتَمْلَأُ الْحَيِّزَ الَّذِي تَتَوَاجَدُ فِيهِ.
لَيْسَ لَهَا شَكْلٌ أَوْ حَجْمٌ ثَابِتٌ.



أَصْلُ حَالَةِ الْمَادَّةِ مَعَ الصُّورَةِ الْمُنَاسِبَةِ وَوَصَفَهَا الصَّحِيحُ؟



الْجُسَيْمَاتُ مُتَقَارِبَةٌ
جِدًّا وَتَهْتَرُ فِي مَكَانِهَا

صُلْبٌ



الْجُسَيْمَاتُ مُتَقَارِبَةٌ
مِنْ بَعْضِهَا وَتَتَحَرَّكُ
بِسُهُولَةٍ

سَائِلٌ



الْجُسَيْمَاتُ مُتَبَاعِدَةٌ
جِدًّا وَتَنْتَشِرُ فِي جَمِيعِ
الْأَتَجَاهَاتِ

غَازٌ

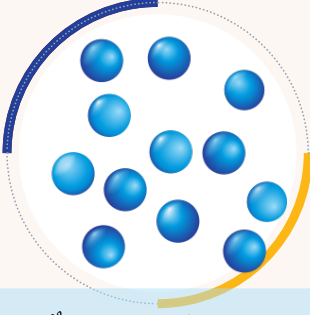


يُمْكِنُ تَصْنِيفُ الْمَوَادِّ الصُّلْبَةِ وَالسَّوَائِلِ وَالْغَازَاتِ وَفَقًّا لِتَرْتِيبِ الْجُسَيْمَاتِ.
لِلْمَوَادِّ الصُّلْبَةِ حَجْمٌ ثَابِتٌ بِسَبَبِ أَنَّ جُسَيْمَاتِهَا مُتَقَارِبَةٌ جِدًّا وَتَهْتَرُ فِي مَكَانِهَا.
لِلْمَوَادِّ السَّائِلَةِ حَجْمٌ غَيْرُ ثَابِتٍ بِسَبَبِ أَنَّ جُسَيْمَاتِهَا مُتَقَارِبَةٌ وَتَتَحَرَّكُ فِيمَا
بَيْنَهَا. لِلْمَوَادِّ الْغَازِيَةِ حَجْمٌ غَيْرُ ثَابِتٍ لِأَنَّ جُسَيْمَاتِهَا مُتَبَاعِدَةٌ جِدًّا وَتَنْتَشِرُ
فِي جَمِيعِ الْأَتَجَاهَاتِ.

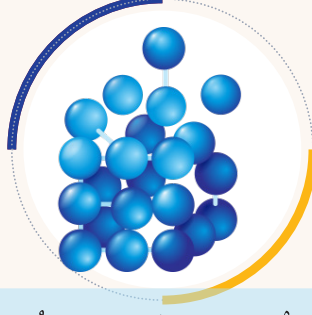


3. كَيْفَ تَتَحَوَّلُ حَالَةُ الْمَادَّةِ؟

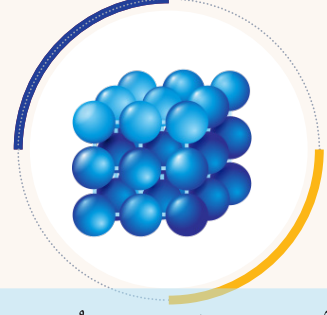
تَعَلَّمْنَا أَنَّ حَالَةَ الْمَادَّةِ تُحَدِّدُهَا تَرْتِيبُ جُسيمَاتِهَا، سَمِّ حَالَةَ الْمَادَّةِ فِيمَا يَأْتِي:



الجُسيماتُ مُتَبَاعِدَةٌ جِدًّا



الجُسيماتُ مُتَقَارِبَةٌ




الجُسيماتُ مُتَقَارِبَةٌ جِدًّا

.....: الْحَالَةُ


.....: الْحَالَةُ

.....: الْحَالَةُ

● لَوْ عَلِمْتَ أَنَّهُ عِنْدَ تَسْخِينِ مَادَّةٍ مَا فَإِنَّ جُسيمَاتِهَا تَكْتَسِبُ طَاقَةً فَتَزِيدُ حَرَكَتُهَا وَتَبْتَعدُ عَنْ بَعْضِهَا بَعْضًا.



● وَعِنْدَ تَبْرِيدِ مَادَّةٍ مَا فَإِنَّ جُسيمَاتِهَا تَفْقِدُ طَاقَةً فَتَقِلُّ حَرَكَتُهَا وَتَقْتَرِبُ مِنْ بَعْضِهَا بَعْضًا.



مَاذَا تَسْتَنْتِجُ؟

يُمْكِنُ / لَا يُمْكِنُ أَنْ تَتَحَوَّلَ الْمَادَّةُ مِنْ حَالَةٍ إِلَى حَالَةٍ أُخْرَى.



يُمْكِنُ تَحَوُّلُ الْمَادَّةِ مِنْ حَالَةٍ إِلَى حَالَةٍ عِنْدَ تَغْيِيرِ دَرَجَةِ الْحَرَارَةِ مِنْ خِلَالِ الْعَمَلِيَّاتِ التَّالِيَةِ:

التَّجْمُدُ

عِنْدَ انْخِفَاضِ دَرَجَةِ حَرَارَةِ السَّائِلِ
تَقَلُّ حَرَكَةُ الْجُسَيْمَاتِ وَتَبْدَأُ بِالاقْتِرَابِ
وَالثَّبَاتِ فِي مَكَانِهَا. فَتَتَغَيَّرُ حَالَةُ الْمَادَّةِ
مِنَ السَّائِلَةِ إِلَى الصَّلْبَةِ.



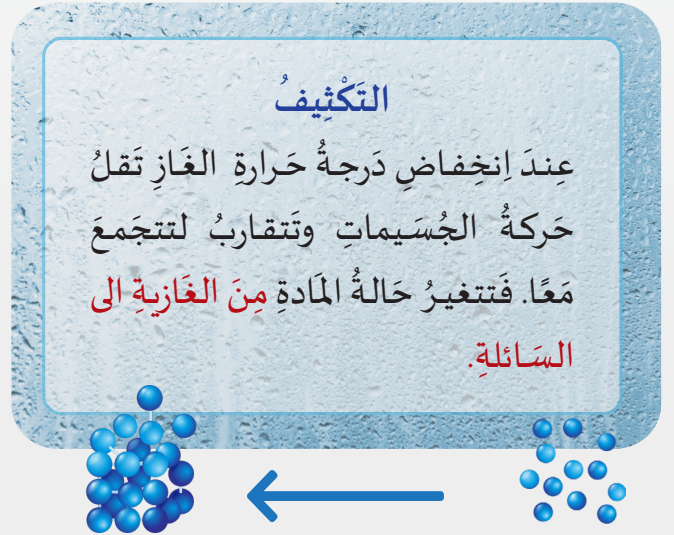
الإنصهارُ

عِنْدَ ارتفاعِ دَرَجَةِ حَرَارَةِ الْمَادَّةِ الصَّلْبَةِ تَزْدَادُ
حَرَكَةُ الْجُسَيْمَاتِ وَتَبْتَعُدُ عَنْ بَعْضِهَا بَعْضًا.
فَتَتَغَيَّرُ حَالَةُ الْمَادَّةِ مِنَ الصَّلْبَةِ إِلَى السَّائِلَةِ.



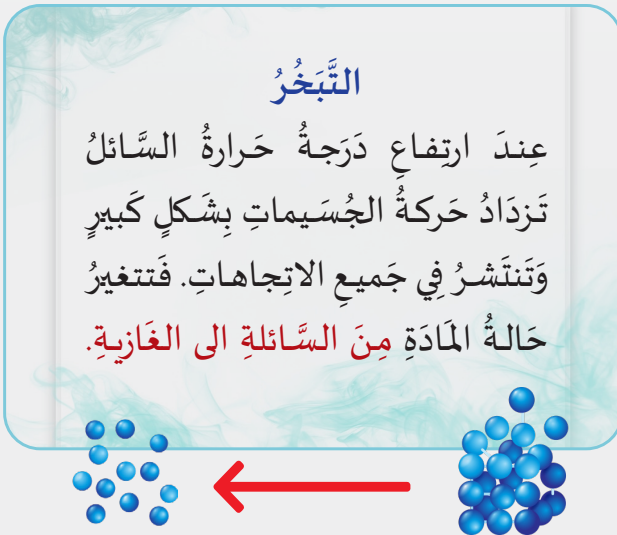
التَّكثِيفُ

عِنْدَ انْخِفَاضِ دَرَجَةِ حَرَارَةِ الْغَازِ تَقَلُّ
حَرَكَةُ الْجُسَيْمَاتِ وَتَتَقَارِبُ لِتَتَجَمَّعَ
مَعًا. فَتَتَغَيَّرُ حَالَةُ الْمَادَّةِ مِنَ الْغَازِيَةِ إِلَى
السَّائِلَةِ.



التَّبَخُّرُ

عِنْدَ ارتفاعِ دَرَجَةِ حَرَارَةِ السَّائِلِ
تَزْدَادُ حَرَكَةُ الْجُسَيْمَاتِ بِشَكْلِ كَبِيرٍ
وَتَنْتَشِرُ فِي جَمِيعِ الْإِتِجَاهَاتِ. فَتَتَغَيَّرُ
حَالَةُ الْمَادَّةِ مِنَ السَّائِلَةِ إِلَى الْغَازِيَةِ.



أَكْتُبْ اسْمَ عَمَلِيَّةِ التَّحَوُّلِ الَّتِي تَحْدُثُ فِي كُلِّ مَرَحَلَةٍ مِنْ مَرَاكِحِ تَحَوُّلِ الْمَاءِ:



التَّجَمُّدُ - الانصهار - التكثيف - التبخر



يُمْكِنُ أَنْ تَتَحَوَّلَ الْمَادَّةُ مِنْ حَالَةٍ إِلَى حَالَةٍ أُخْرَى بِتَأْثِيرِ الْحَرَارَةِ. تُؤَدِّي عَمَلِيَّاتُ الانصهار والتبخر والتكثيف والتجمد إلى تَغْيِيرِ حَالَةِ الْمَادَّةِ.



4. أَيْنَ أَرَى تَحَوُّلَاتِ الْمَادَّةِ مِنْ حَوْلِنَا؟

تُوجَدُ الْكَثِيرُ مِنَ الْأَمْثَلَةِ عَلَى التَّغْيِيرَاتِ فِي حَالَةِ الْمَادَّةِ مِنْ حَوْلِنَا.
أَمَلًا الْفَرَاعَاتِ فِي وَصْفِ كُلِّ حَالَةٍ مُسْتَعِينًا بِالْمُصْطَلَحَاتِ أَدْنَاهُ:

تَجَمُّد - تَكثِيفٌ - انصِهَارٌ - تَبَخُّرٌ - صُلْبٌ - سَائِلٌ - غَاز

يُسَخَّنُ اللَّهَبُ الشَّمْعَةَ يَتَحَوَّلُ
الشَّمْعُ مِنْ إِلَى
تُسَمَّى عَمَلِيَّةُ التَّحَوُّلِ

يُلَامِسُ الْهَوَاءُ الرُّجَاجَ الْبَارِدَ
فَيَتَحَوَّلُ مِنْ إِلَى
تُسَمَّى عَمَلِيَّةُ التَّحَوُّلِ

يَبْرُدُ الشَّمْعُ الْمُنْصَهَرُ فَيَتَحَوَّلُ
مِنْ إِلَى
تُسَمَّى عَمَلِيَّةُ التَّحَوُّلِ



1

تُسَخِّنُ الشَّمْسُ سَطْحَ الْبَحَارِ
وَالْمُحِيطَاتِ فَيَتَحَوَّلُ الْمَاءُ مِنْ
إِلَى وَيَتَصَاعَدُ مُكَوَّنًا السَّحْبَ
تُسَمَّى عَمَلِيَّةُ التَّحَوُّلِ



2

يَتَحَوَّلُ بُخَارُ الْمَاءِ الْمَوْجُودِ فِي
السَّحْبِ مِنْ إِلَى وَتَهْطِلُ
الْأَمْطَارُ. تُسَمَّى عَمَلِيَّةُ التَّحَوُّلِ

3

عِنْدَ اشْتِدَادِ الْبُرُودَةِ تَتَجَمَّدُ قَطَرَاتُ الْمَاءِ
الْمُتَساقِطَةِ لِتَتَحَوَّلَ مِنْ إِلَى
فَتَهْطِلُ الثَّلُوجُ. تُسَمَّى عَمَلِيَّةُ
التَّحَوُّلِ

4

تَرْتَفِعُ دَرَجَةُ الْحَرَارَةِ فَتَتَحَوَّلُ الثَّلُوجُ
مِنْ إِلَى
وَتَتَشَكَّلُ الْمِيَاهُ الْجَارِيَةُ الْمُتَجَهَّةُ نَحْوَ
الْمُسَطَّحَاتِ الْمَائِيَّةِ.
تُسَمَّى عَمَلِيَّةُ التَّحَوُّلِ

يُمْكِنُ مَلاحَظَةُ تَغْيِيرِ
حَالَةِ الْمَادَّةِ مِنْ حَوْلِنَا.



اِسْتَنْتِجْ

ماذا تعلمت؟

أولاً: أتحقق مما تعلمت بوضع إشارة (✓).

أعرف أن المادة الصلبة لها حجم ثابت وكثلة ثابتة وشكل ثابت. ☐

أعرف أن المادة السائلة لها حجم ثابت وكثلة ثابتة وليس لها شكل ثابت. ☐

أعرف أن المادة الغازية ليس لها حجم أو شكل ثابت ولكن كتلتها ثابتة. ☐

أعطي أمثلة من الحياة اليومية عن المواد الصلبة والسائلة والغازية. ☐

ثانياً: التدريبات

1 أضع إشارة (✓) أمام العبارة الصحيحة، وإشارة (x) أمام العبارة الخطأ.

نُقاس كثلة المادة بواسطة مقياس الحرارة. ☐

حجم المادة الصلبة ثابت وكثلتها متغيرة. ☐

الغاز ليس له شكل ثابت. ☐

من أمثلة التبخر حفظ الفاكهة والخضار بطريقة التجفيف. ☐

تحتوي دورة الماء على الانصهار، التجمد، التبخر والتكثيف. ☐

2 أُحَدِّدُ حَالَةَ كُلِّ مَادَّةٍ مِمَّا يَلِي بِكِتَابَةِ (صُلْبٌ - سَائِلٌ - غَازٌ):

الشَّيْءُ	الْحَالَةُ	الشَّيْءُ	الْحَالَةُ
كُرَّةٌ		سَحَابٌ	
مَاءٌ		جَزَرٌ	
مِفْتَاحٌ		حَلِيبٌ	

3 أَكْمِلُ الْجُمْلَةَ التَّالِيَةَ بِكِتَابَةِ اسْمِ الْعَمَلِيَّةِ الْمُنَاسِبَةِ (انصهار - تجمد - تكثيف - تبخر):

- عَمَلِيَّةُ تَحْوُلِ السَّائِلِ إِلَى غَازٍ
- عَمَلِيَّةُ تَحْوُلِ السَّائِلِ إِلَى صُلْبٍ
- عَمَلِيَّةُ تَحْوُلِ الصُّلْبِ إِلَى سَائِلٍ
- عَمَلِيَّةُ تَحْوُلِ الْغَازِ إِلَى سَائِلٍ

4 أَصْلُ بَيْنَ الْحَالَاتِ الْعَمَلِيَّةِ فِي حَيَاتِنَا وَبَيْنَ عَمَلِيَّاتِ التَّحْوُلِ الْخَاصَّةِ عَنْهَا.

تَجَمَّدُ

تَكَثِّفُ

تَبَخَّرُ

انصهار

1. تَجْفِيفُ الْمَلَابِسِ وَتَبَخُّرُ السَّوَائِلِ عِنْدَ الطَّهْرِ.
2. سِيلَانُ الْمُثَلَّجَاتِ وَقِطْعَةُ الزُّبْدَةِ فِي الْمُقْلَاةِ.
3. حِفْظُ الْأَطْعِمَةِ فِي الْمُجَمَّدِ.
4. تَجْمُعُ نَقَاطِ الْمَاءِ عَلَى السَّطْحِ الدَّاخِلِيِّ لِغِطَاءٍ وَعَاءِ الطَّبْخِ.

الوَحْدَةُ الْخَامِسَةُ الْحَرَارَةُ وَدَرَجَةُ الْحَرَارَةِ



فِي نِهَآيَةِ هَذِهِ الْوَحْدَةِ سَوْفَ:

- أَقْرَأُ قِيَاسَ دَرَجَةِ حَرَارَةِ أَجْسَامٍ مُخْتَلِفَةٍ بِاسْتِخْدَامِ مِقْيَاسِ دَرَجَةِ الْحَرَارَةِ.
- أَقْدِرُ دَرَجَةَ حَرَارَةِ أَجْسَامٍ وَأَمَاكِنَ مُخْتَلِفَةٍ.
- أَتَعْرِفُ كَيْفِيَّةَ تَغْيِيرِ دَرَجَةِ حَرَارَةِ الْمَاءِ السَّاخِنِ عِنْدَ تَرْكِهِ فِي الْغُرْفَةِ.
- أَتَعْرِفُ كَيْفِيَّةَ تَغْيِيرِ دَرَجَةِ حَرَارَةِ الْمَاءِ الْبَارِدِ عِنْدَ تَرْكِهِ فِي الْغُرْفَةِ.
- أَتَعْرِفُ خَصَائِصَ الْمَوَادِّ الْمُخْتَلِفَةِ مِنْ حَيْثُ التَّوْصِيلُ الْحَرَارِيُّ.
- أَتَعْرِفُ خَصَائِصَ الْمَوَادِّ الْمُخْتَلِفَةِ مِنْ حَيْثُ الْعُزْلُ الْحَرَارِيُّ.

قِيَمَةُ الدَّرْسِ

إِدْرَاكُ أَهْمِيَّةِ الْحَرَارَةِ وَخَصَائِصِهَا الَّتِي وَضَعَهَا اللَّهُ فِيهَا .

قال تعالى: {قُلْنَا يَنْزِلْ كُونِي بَرْدًا وَسَلَامًا عَلَىٰ إِبْرَاهِيمَ} (سُورَةُ الْأَنْبِيَاءِ: 69) .



أَصِفْ مَا أُشَاهِدُ فِي الصُّورَةِ.

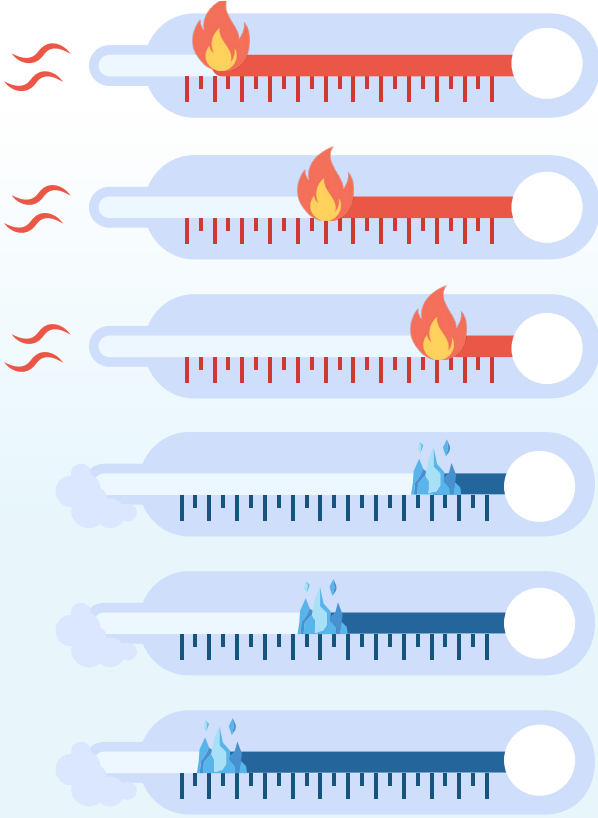


كَلِمَاتٌ مِفْتَاحِيَّةٌ

دَرَجَةُ الْحَرَارَةِ

1. مَا دَرَجَةُ الْحَرَارَةِ؟

أَنْظُرْ إِلَى صُورِ الْأَشْيَاءِ السَّاخِنَةِ وَالْبَارِدَةِ، ثُمَّ أَرْتِبْهَا مِنَ الْأَسْخَنِ إِلَى الْأَبْرَدِ بِكِتَابَةِ الْحَرْفِ الْخَاصِّ بِهَا فِي مَكَانِهِ الْمُنَاسِبِ عَلَى الشَّكْلِ الْمُجَاوِرِ لِلصُّورِ.



مِفْتَاحُ الرُّمُوزِ:



بَارِدٌ:



حَارٌّ:



الْأَشْيَاءُ الْأَكْثَرُ سُخُونَةً لَهَا دَرَجَةُ حَرَارَةٍ أَعْلَى / أَقَلَّ.

الْأَشْيَاءُ الْأَكْثَرُ بُرُودَةً لَهَا دَرَجَةُ حَرَارَةٍ أَعْلَى / أَقَلَّ.

الْمِقيَّاسُ الَّذِي اسْتُخْدِمَهُ لِلتَّعْبِيرِ عَنْ مَدَى سُخُونَةٍ أَوْ بُرُودَةٍ الْأَشْيَاءِ هُوَ

أَتَأَمَّلُ الصُّوَرَ التَّالِيَةَ وَأَصِفُ لِرَمِيلِي مَا أَرَاهُ مُسْتَخْدِمًا الْمُصْطَلَحَاتِ الْآتِيَةَ.



أُكْمَلُ الْجُمْلَةَ الْآتِيَةَ مُسْتَخْدِمًا الْمُصْطَلَحَاتِ السَّابِقَةَ



دَرَجَةُ الْحَرَارَةِ هِيَ مِقْيَاسٌ لِمَدَى أَوْ شَيْءٍ مَا.
تُقَاسُ دَرَجَةُ الْحَرَارَةِ بِأَدَاةٍ تُسَمَّى
يُرْمَزُ لَوَحْدَةِ قِيَاسِ دَرَجَةِ الْحَرَارَةِ بِالرَّمْزِ

دَرَجَةُ الْحَرَارَةِ هِيَ مِقْيَاسٌ لِمَدَى سُخُونَةِ الشَّيْءِ أَوْ بُرُودَتِهِ. تُسَمَّى الْأَدَاةُ
الْمُسْتَخْدَمَةُ لِقِيَاسِ دَرَجَةِ الْحَرَارَةِ مِقْيَاسَ دَرَجَةِ الْحَرَارَةِ (الْثَرْمُومِيتَر) وَحْدَةُ
قِيَاسِ دَرَجَةِ الْحَرَارَةِ هِيَ الدَّرَجَةُ الْمُنَوِّيَّةُ (السِيلِيزِيَّة) وَيُرْمَزُ لَهَا بِالرَّمْزِ °C.





2. كَيْفَ أَقِيسُ دَرَجَةَ الْحَرَارَةِ ؟

أَقْرَأْ مَعَ زَمِيلِي الْفُقْرَةَ التَّالِيَةَ .

أَسْتَنْتِجُ اسْمَ كُلِّ مَقْيَاسٍ مِنْ مَقْيَاسِ دَرَجَةِ الْحَرَارَةِ مِنَ الْوَصْفِ وَأَكْتُبُهُ أَسْفَلَ صُورَتِهِ .

أَنْوَاعُ مَقْيَاسِ دَرَجَةِ الْحَرَارَةِ :

- مَقْيَاسُ دَرَجَةِ الْحَرَارَةِ الْإِلِكْتَرُونِيّ: يَسْتَشْعِرُ دَرَجَةَ حَرَارَةِ الْجِسْمِ عَنْ بُعْدٍ دُونَ لَمَسٍ.
- مَقْيَاسُ دَرَجَةِ الْحَرَارَةِ الزُّجَاجِيّ: لَهُ أَنْبُوبَةٌ زُجَاجِيَّةٌ ضَيِّقَةٌ تَحْوِي سَائِلًا حَسَّاسًا لِلْحَرَارَةِ.
- مُسْتَشْعِرُ دَرَجَةِ الْحَرَارَةِ وَمُسَجِّلُ الْبَيِّنَاتِ: أَكْثَرُ دِقَّةً وَيُمْكِنُهُ تَسْجِيلُ دَرَجَاتِ الْحَرَارَةِ رَقْمِيًّا.



.....

.....

.....

.....

.....

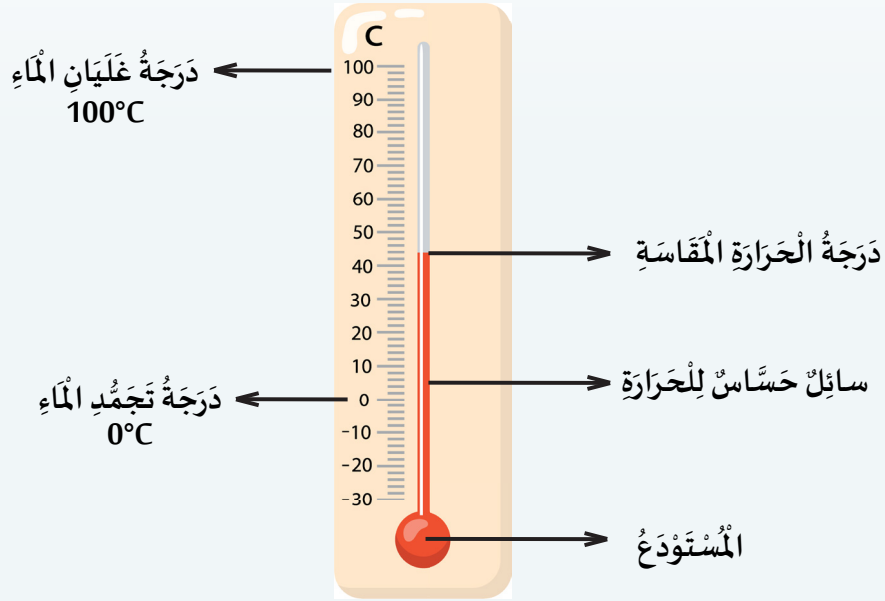
.....

كَيْفَ يَعْمَلُ مَقْيَاسُ دَرَجَةِ الْحَرَارَةِ الزُّجَاجِيّ :

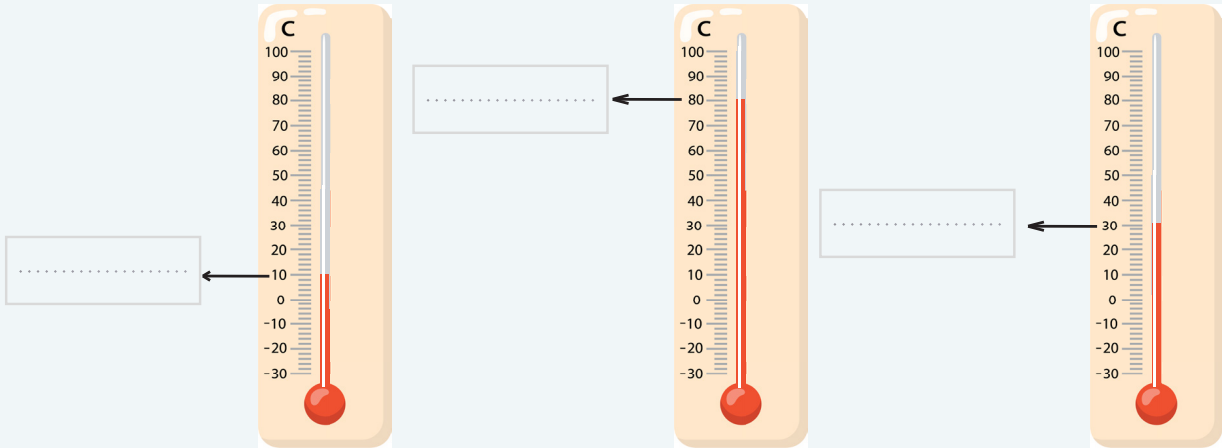


مَقْيَاسُ دَرَجَةِ الْحَرَارَةِ الزُّجَاجِيّ عِبَارَةٌ عَنْ أَنْبُوبٍ زُجَاجِيّ ضَيِّقَةٍ تَحْتَوِي عَلَى سَائِلٍ مُلَوَّنٍ فِي مُسْتَوْدَعٍ صَغِيرٍ يَتَمَدَّدُ عِنْدَمَا تَرْتَفِعُ دَرَجَةُ حَرَارَتِهِ يُمَكِّنُ قِرَاءَةَ دَرَجَةِ الْحَرَارَةِ مِنَ التَّدرِجِ الْعَدَدِيِّ الْمَوْضَحِ عَلَى الْأَنْبُوبَةِ. تُقَاسُ دَرَجَةُ الْحَرَارَةِ بِقِرَاءَةِ الْعَدَدِ الَّذِي يَصِلُ إِلَيْهِ طَرَفُ السَّائِلِ. فَمَثَلًا دَرَجَةُ غَلْيَانِ الْمَاءِ النَّقِيّ هِيَ 100°C وَدَرَجَةُ تَجَمُّدِهِ 0°C.

انظر إلى الرسم التخطيطي الآتي لمقياس درجة الحرارة (الثيرمومتر).
أشير إلى نهاية الخط الملون وأكتب درجة الحرارة التي يقيسها: °C تقريبًا.



أكتب درجات الحرارة الموضحة على مخططات مقاييس درجة الحرارة الآتية:



37°C

40°C

ما درجة حرارة جسم الإنسان السليم: 35°C

تسمى الأرقام في مقياس درجة الحرارة بالدرجات.
تستخدم درجة الحرارة المئوية بشكل شائع لقياس درجة الحرارة.



3 . مَا مُتَوَسِّطُ دَرَجَةِ الْحَرَارَةِ ؟

أَنَاقِشُ زَمِيلِي فِيمَا يَلِي:

لِلْأَمَاكِنِ الْمُخْتَلِفَةِ عَلَى سَطْحِ الْأَرْضِ مُتَوَسِّطُ دَرَجَاتِ حَرَارَةٍ مُخْتَلِفَةٍ.
يُحَسَّبُ مُتَوَسِّطُ دَرَجَةِ حَرَارَةِ مَكَانٍ مُعَيَّنٍ مِنْ قِيَاسَاتِ دَرَجَةِ الْحَرَارَةِ الْمَأْخُودَةِ عَلَى مَدَارِ الْعَامِ.



يَبْلُغُ مُتَوَسِّطُ دَرَجَاتِ الْحَرَارَةِ فِي
الْمُنَاطِقِ الْمُتَجَمِّدَةِ أَقَلَّ مِنْ 0°C .




يَبْلُغُ مُتَوَسِّطُ دَرَجَاتِ الْحَرَارَةِ فِي
الصَّحَارِيِّ الْحَارَةِ نَحْوَ 40°C .

أَتَأَمَّلُ الْجَدُولَ الْأَتِي عَنْ مُتَوَسِّطِ دَرَجَاتِ الْحَرَارَةِ فِي الْمُنَاطِقِ الْمُخْتَلِفَةِ .



نوع المناخ	مُتَوَسِّطُ دَرَجَاتِ الْحَرَارَةِ فِي الشُّهُورِ الدَّافِئَةِ	مُتَوَسِّطُ دَرَجَاتِ الْحَرَارَةِ فِي الشُّهُورِ الْبَارِدَةِ
المناخ البارد	نحو 10°C	أقل من 0°C
المناخ المعتدل	نحو 22°C	من 3°C إلى 18°C
المناخ الحار والجاف	$35^{\circ}\text{C} - 40^{\circ}\text{C}$	من 20°C إلى 30°C

..... أَتَوَقَّعُ إِلَى أَيِّ نَوْعٍ مِنْ أَنْوَاعِ هَذِهِ الْمَنَاحَاتِ تَنْتَبِي دَوْلَةُ قَطَرْ؟ 

أَتَأْمَلُ جَدُولَ مُتَوَسِّطِ دَرَجَاتِ الْحَرَارَةِ لِكُلِّ شَهْرِ فِي دَوْلَةِ قَطَرْ. 

يَنَايِر	فَبْرَايِر	مَارس	أَبْريل	مَايو	يُونيو	يُوليو	أَغْسطس	سِبْتَمبر	أَكْتوبر	نُوفَمبر	دِيسَمبر
24°C	25°C	29°C	35°C	40°C	42°C	44°C	43°C	42°C	37°C	30°C	26°C

..... أَعْلَى دَرَجَةُ حَرَارَةٍ فِي دَوْلَةِ قَطَرْ تَكُونُ فِي شَهْرِ

..... أَدْنَى دَرَجَةُ حَرَارَةٍ فِي دَوْلَةِ قَطَرْ تَكُونُ فِي شَهْرِ

مُتَوَسِّطُ دَرَجَاتِ الْحَرَارَةِ السَّنَوِيَّةِ = مَجْمُوعَ قِيَاسَاتِ الْأَشْهُرِ كُلِّهَا

12 شَهْرًا

$$39^{\circ}\text{C} \text{ تقريبًا} = \frac{26+30+37+42+43+44+42+40+35+29+25+24}{12} =$$

○ بِالرُّجُوعِ إِلَى الْجَدُولِ فِي الصَّفْحَةِ السَّابِقَةِ، اسْتَنْتِجْ أَنَّ دَوْلَةَ قَطَرْ ذَاتِ مَنَاحٍ :

مُعْتَدِلٌ

بَارِدٌ

حَارٌّ وَجَافٌ

مُتَوَسِّطُ دَرَجَةِ الْحَرَارَةِ السَّنَوِيَّةِ هُوَ مَجْمُوعُ دَرَجَاتِ الْحَرَارَةِ لِكُلِّ شَهْرِ مَقْسُومًا عَلَى عَدَدِ أَشْهُرِ السَّنَةِ جَمِيعًا.
تَتَمَتَّعُ دَوْلَةُ قَطَرْ بِمَنَاحٍ صَحْرَاوِيٍّ ، مَعَ شِتَاءٍ مُعْتَدِلٍ وَصَيْفٍ حَارٍّ وَجَافٍ.



4 . كَيْفَ أَقْدَرُ دَرَجَاتِ الْحَرَارَةِ ؟

أَنْظُرْ إِلَى صُورِ الْمَنَاطِقِ التَّالِيَةِ، أَقْدَرُ مُتَوَسِّطَ دَرَجَةِ الْحَرَارَةِ لِكُلِّ مَنَاطِقَةٍ بِالرُّجُوعِ إِلَى مَا تَعَلَّمْتَهُ سَابِقًا عَنْ مُتَوَسِّطِ دَرَجَاتِ الْحَرَارَةِ لِلْمَنَاحَاتِ الْمُخْتَلِفَةِ.

35°C

45°C

-15°C

-19°C

39°C

الْقُطْبُ الْمُتَجَمِّدُ

.....



صَحْرَاءُ قَطْرُ

.....



جِبَالُ الْأَلْبِ

.....



الْغَابَةُ الْاسْتَوَائِيَّةُ

.....



شَمَالُ الْأُرْدُنِّ

.....



أذكرُ مَكانَينِ تَكونُ فيهِما دَرَجَةُ الحَرَارَةِ أَقلَّ مِنْ 0°C : و
أَيُّهُمَا بِرَأْيِكَ أَكْثَرُ بُرُودَةً؟



ذَكرُ مَكانَينِ تَكونُ فيهِما دَرَجَةُ الحَرَارَةِ أَكْثَرُ مِنْ 30°C : و
أَيُّهُمَا بِرَأْيِكَ أَشَدُّ حَرَارَةً؟



أَنْظُرْ إِلَى صُورِ الْأَشْيَاءِ التَّالِيَةِ، أَقْدِرْ مُتَوَسِّطَ دَرَجَةِ الْحَرَارَةِ لِكُلِّ شَيْءٍ فِيهَا.



27°C

- 7°C

4°C

100°C

مُجَمَّدَةُ الثَّلَاجَةِ

.....

الثَّلَاجَةُ

.....

مَاءٌ يَغْلِي

.....

شَطِيرَةٌ دَافِنَةٌ

.....





أذكرُ شَيْئَيْنِ تَكُونُ فِيهِمَا دَرَجَةُ الْحَرَارَةِ مُنْخَفِضَةً: و

أَيُّهُمَا بِرَأْيِكَ أَكْثَرُ بُرُودَةً؟



أذكرُ شَيْئَيْنِ تَكُونُ فِيهِمَا دَرَجَةُ الْحَرَارَةِ مُرْتَفَعَةً: و

أَيُّهُمَا بِرَأْيِكَ أَشَدُّ حَرَارَةً؟

يُمْكِنُ إِجْرَاءُ تَقْدِيرَاتٍ مَنْطِقِيَّةٍ لِدَرَجَةِ الْحَرَارَةِ مِنَ الْمَعْرِفَةِ الْعَامَّةِ حَوْلَ
مَتَوَسِّطِ دَرَجَاتِ حَرَارَةِ الْأَمَاكِنِ وَالْأَشْيَاءِ الْمُخْتَلِفَةِ.



ماذا تعلمت؟

أولاً: أتحقق مما تعلمت بوضع إشارة (✓).

أقرأ قياس درجة حرارة أشياء مختلفة باستخدام مقياس درجة الحرارة. ☐

أقدر درجة حرارة أشياء وأماكن مختلفة. ☐

ثانياً: التدريبات

1 أضع إشارة (✓) أمام العبارة الصحيحة، وإشارة (x) أمام العبارة الخطأ.

درجة الحرارة هي مقياس لمدى سخونة الشيء فقط. ☐

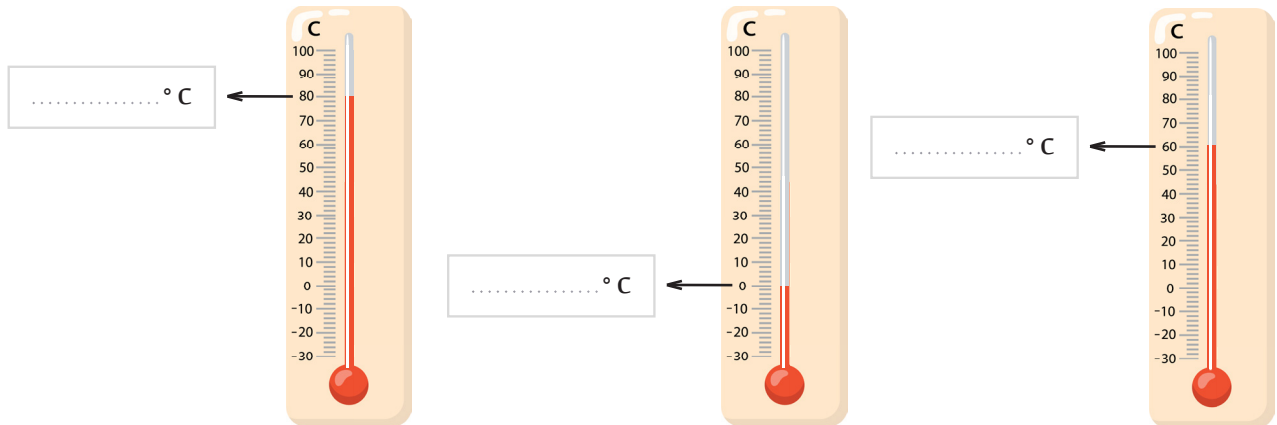
تسمى الأداة المستخدمة لقياس درجة الحرارة مقياس درجة الحرارة (الترمومتر). ☐

تسمى الأرقام في مقياس درجة الحرارة بالدرجات. ☐

تستخدم درجة الحرارة الألفية بشكل شائع لقياس درجة الحرارة. ☐

تتمتع دولة قطر بمناخ بارد، مع شتاء رطب وصيف معتدل. ☐


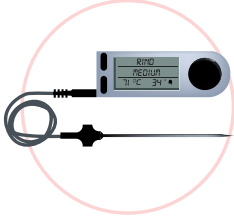
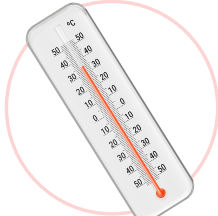
2 اكتب درجة الحرارة الموضحة على كل مقياس درجة حرارة.



3 تَمَّ تَسْجِيلُ دَرَجَاتِ الْحَرَارَةِ التَّالِيَةِ فِي مَدِينَةِ الدَّوْحَةِ عَلَى مَدَى الْأُسْبُوعِ الْأَوَّلِ مِنْ شَهْرِ فَبْرَايِرَ. مَا مُتَوَسِّطُ دَرَجَةِ الْحَرَارَةِ لِذَلِكَ الْأُسْبُوعِ؟

الْجُمُعَةُ	السَّبْتُ	الأَحَدُ	الاِثْنَيْنِ	الثَّلَاثاءُ	الأَرْبَعَاءُ	الخَمِيسُ
22°C	20°C	18°C	19°C	20°C	21°C	20°C

4 صِلْ بَيْنَ اسْمِ مِقْيَاسِ دَرَجَةِ الْحَرَارَةِ وَشَكْلِهِ وَالْوَصْفِ الْخَاصِّ بِهِ.

اسْمُ الْمِقْيَاسِ	شَكْلُ الْمِقْيَاسِ	وَصْفُ الْمِقْيَاسِ
مِقْيَاسُ دَرَجَةِ الْحَرَارَةِ الرَّجَاجِيِّ		يَسْتَشْعِرُ دَرَجَةَ حَرَارَةِ الْجِسْمِ عَنْ بُعْدٍ
مِقْيَاسُ دَرَجَةِ الْحَرَارَةِ الْإِلِكْتَرُونِيِّ		لَهُ أَنْبُوبَةٌ رُجَاجِيَّةٌ بِهَا سَائِلٌ حَسَّاسٌ لِلْحَرَارَةِ
مُسْتَشْعِرُ دَرَجَةِ الْحَرَارَةِ وَمُسَجِّلُ الْبَيَانَاتِ		أَكْثَرُ دِقَّةٍ وَيُسَجِّلُ دَرَجَاتِ الْحَرَارَةِ رَقْمِيًّا


قِيَمَةُ الدَّرْسِ

التَّأَمُّلُ فِي تَأْثِيرِ الْحَرَارَةِ فِي حَيَاتِنَا

قال تعالى: {وَهَلْ أَتَاكَ حَدِيثُ مُوسَى ۖ إِذْ رَأَى نَارًا فَقَالَ لِأَهْلِهِ امْكُثُوا إِنِّي آنَسْتُ نَارًا لَّعَلِّي آتِيكُمْ مِنْهَا بِقَبَسٍ أَوْ أَجْدُ عَلَى النَّارِ هُدًى ۖ} (سورة طه: 9-10) .



أَصِفْ مَا أُرْشَاهِدُ فِي الصُّورَةِ.



كَلِمَاتٌ مِفْتَاحِيَّةٌ

مُوصِلٌ لِلْحَرَارَةِ


عَازِلٌ لِلْحَرَارَةِ

1 . كَيْفَ تَتَغَيَّرُ دَرَجَةُ حَرَارَةِ الْمَاءِ مَعَ مُرُورِ الزَّمَنِ ؟

يَحْضُرُنِي مُعَلِّمِي كَأْسَيْنِ زُجَاجِيَّتَيْنِ مُتَمَاثِلَتَيْنِ .

يَحْوِي أَحَدُ الْكَأْسَيْنِ مَاءً بَارِدًا مُثَلَّجًا (أ) وَيَحْوِي الْآخَرُ مَاءً سَاخِنًا مَغْلِي (ب) .
أَقْدِرُ دَرَجَةَ حَرَارَةِ الْمَاءِ فِي كُلِّ الْكَأْسَيْنِ .


..... دَرَجَةُ حَرَارَةِ كَأْسِ الْمَاءِ الْبَارِدِ الْمُثَلَّجِ (أ) : 


..... دَرَجَةُ حَرَارَةِ كَأْسِ الْمَاءِ السَّاخِنِ الْمُغْلِي (ب) : 




أَضَعُ الْكَأْسَيْنِ فِي دَرَجَةِ حَرَارَةِ غُرْفَةِ الصَّفِّ لِمُدَّةٍ تَزِيدُ عَنِ النِّصْفِ سَاعَةً .

أَمْسُ الْكَأْسَيْنِ ، أَلَا حِظُّ مَاذَا حَدَثَ لِدَرَجَةِ حَرَارَةِ الْمَاءِ فِي الْكَأْسَيْنِ

..... أَلَا حِظُّ أَنَّ الْمَاءَ الْبَارِدَ الْمُثَلَّجَ فِي الْكَأْسِ (أ) أَصْبَحَ : 

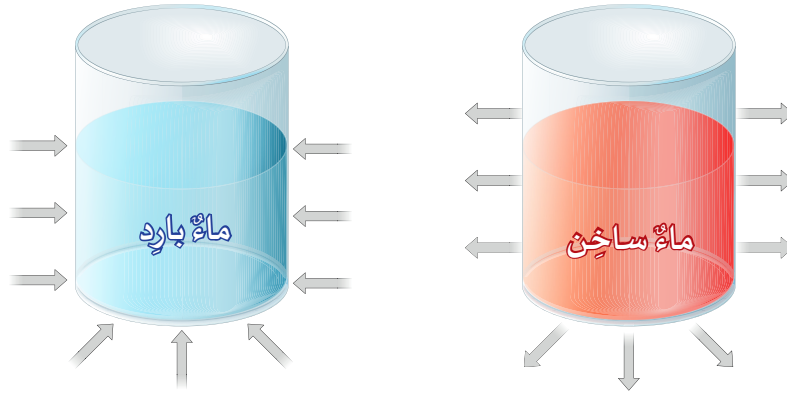
..... أَلَا حِظُّ أَنَّ الْمَاءَ السَّاخِنَ الْمُغْلِي فِي الْكَأْسِ (ب) أَصْبَحَ : 

مَاذَا تَسْتَنْتِجُ؟

تَتَغَيَّرُ / لَا تَتَغَيَّرُ دَرَجَةُ حَرَارَةِ الْمَاءِ الْمَوْجُودِ فِي الْكَأْسَيْنِ فِي غُرْفَةِ الصَّفِّ مَعَ مُرُورِ الزَّمَنِ. 

أَلْحِظْ الْمُخَطَّطُ التَّالِي،

أُنَاقِشُ زَمِيلِي لِأَجِيبَ عَنِ الْأَسْئَلَةِ التَّالِيَةِ وَ أَفَسِّرُ كَيْفَ تَغَيَّرَتْ دَرَجَةُ حَرَارَةِ الْمَاءِ فِي الْكَأْسَيْنِ .



دَرَجَةُ حَرَارَةِ الْمَاءِ السَّاحِنِ أَعْلَى / أَقَلَّ مِنْ دَرَجَةِ حَرَارَةِ الْهَوَاءِ الْمُحِيطِ بِهِ .
وَبِمَا أَنَّ الْمَاءَ السَّاحِنَ قَدْ فَقَدَ بَعْضًا مِنْ حَرَارَتِهِ فَهَذَا يَعْنِي أَنَّ الْحَرَارَةَ قَدْ
انْتَقَلَتْ / لَمْ تَنْتَقِلْ مِنَ الْمَاءِ السَّاحِنِ إِلَى الْهَوَاءِ الْمُحِيطِ بِالْكَأْسِ .

دَرَجَةُ حَرَارَةِ الْمَاءِ السَّاحِنِ أَعْلَى / أَقَلَّ مِنْ دَرَجَةِ حَرَارَةِ الْهَوَاءِ الْمُحِيطِ بِهِ .
وَبِمَا أَنَّ الْمَاءَ السَّاحِنَ قَدْ فَقَدَ بَعْضًا مِنْ حَرَارَتِهِ فَهَذَا يَعْنِي أَنَّ الْحَرَارَةَ قَدْ
انْتَقَلَتْ / لَمْ تَنْتَقِلْ مِنَ الْمَاءِ السَّاحِنِ إِلَى الْهَوَاءِ الْمُحِيطِ بِالْكَأْسِ .

أَمَلًا الْفَرَغَاتِ مُسْتَعِينًا بِالْمُفْرَدَاتِ الْآتِيَةِ :

السَّاحِنُ الْبَارِدُ دَرَجَةُ حَرَارَةِ

تَتَغَيَّرُ الْأَشْيَاءُ ، تَنْتَقِلُ الْحَرَارَةُ مِنَ الشَّيْءِ إِلَى الْهَوَاءِ الْأَبْرَدِ
الْمُحِيطِ بِهِ وَتَنْتَقِلُ الْحَرَارَةُ مِنَ الْهَوَاءِ الْأَدْفَا الْمُحِيطِ إِلَى الشَّيْءِ مَعَ مُرُورِ الزَّمَنِ
حَتَّى تَصِلَ الْأَشْيَاءُ إِلَى دَرَجَةِ حَرَارَةِ الْهَوَاءِ الْمُحِيطِ بِهِمَا .

تَتَغَيَّرُ دَرَجَةُ حَرَارَةِ الْأَشْيَاءِ مَعَ مُرُورِ الزَّمَنِ .
تَنْتَقِلُ الْحَرَارَةُ مِنَ الشَّيْءِ السَّاحِنِ إِلَى الْهَوَاءِ الْمُحِيطِ الْأَبْرَدِ .
تَنْتَقِلُ الْحَرَارَةُ مِنَ الْهَوَاءِ الْمُحِيطِ الْأَدْفَا إِلَى الشَّيْءِ الْبَارِدِ .



2 . مَا الْعَوَامِلُ الَّتِي تُؤَثِّرُ فِي سُرْعَةِ تَغْيِيرِ دَرَجَةِ الْحَرَارَةِ ؟

أَنْظُرْ إِلَى الصُّورِ.

أَجِيبْ عَنِ الْأَسْئَلَةِ لِأَسْتَنْتِجَ بَعْضَ الْعَوَامِلِ الَّتِي تَوْثِّرُ فِي سُرْعَةِ تَغْيِيرِ دَرَجَةِ حَرَارَةِ الْمَاءِ.

1

أَيِّ كَمِّيَّةِ مَاءٍ تَفْقَدُ حَرَارَتَهَا بِسُرْعَةٍ
أَكْبَرَ؟ الْكَمِّيَّةُ الْأَكْثَرُ أَمْ الْكَمِّيَّةُ
الْأَقَلُّ؟



2



أَيَّنَ يَفْقَدُ الْمَاءُ السَّاخِنُ حَرَارَتَهُ
بِسُرْعَةٍ أَكْبَرَ ،
فِي مُحِيطِ الْهَوَاءِ الْحَارِّ أَمْ الْبَارِدِ ؟

3

هَلْ تَحْرِيكُ الْمَاءِ السَّاخِنِ يُسَاعِدُ
عَلَى سُرْعَةِ فَقْدَانِ الْحَرَارَةِ ؟



4



فِي أَيِّ نَوْعٍ مِنَ الْأَكْوَابِ سَتَتَغَيَّرُ
دَرَجَةُ حَرَارَةِ الْمَاءِ بِسُرْعَةٍ أَكْبَرَ ؟
فِي الْكُوبِ الْفَلِينِي أَمْ الْمَعْدِنِيِّ ؟

مِمَّا سَبَقَ، أَحَدُ الْعَامِلِ الَّذِي يُؤَثِّرُ فِي سُرْعَةِ تَغْيِيرِ دَرَجَةِ حَرَارَةِ الْمَاءِ فِي كُلِّ حَالَةٍ :



..... 4 3 2 1

أَضَعُ إِشَارَةً (✓) بِجَانِبِ الْحَالَةِ الَّتِي يَتِمُّ فِيهَا تَغْيِيرُ دَرَجَةِ الْحَرَارَةِ بِشَكْلِ أَسْرَعَ :



- | | |
|---|---|
| <input type="checkbox"/> تَرْكُ الْحَسَاءِ لِيَبْرُدَ دُونَ تَحْرِيكِ. | <input type="checkbox"/> تَسْخِينُ قِطْعَةٍ كَبِيرَةٍ مِنَ الزُّبْدَةِ. |
| <input type="checkbox"/> تَحْرِيكُ الْحَسَاءِ السَّاخِنِ حَتَّى يَبْرُدَ. | <input type="checkbox"/> تَسْخِينُ الزُّبْدَةِ بَعْدَ تَقْطِيعِهَا. |




- | | |
|---|---|
| <input type="checkbox"/> حَفِظُ الْقَهْوَةِ السَّاخِنَةِ فِي كُوبٍ وَرَقِيّ. | <input type="checkbox"/> انْصِهَارُ الْمُثَلَّجَاتِ فِي يَوْمٍ حَارٍّ. |
| <input type="checkbox"/> حَفِظُ الْقَهْوَةِ السَّاخِنَةِ فِي كُوبٍ زُجَاجِيّ. | <input type="checkbox"/> انْصِهَارُ الْمُثَلَّجَاتِ فِي يَوْمٍ بَارِدٍ. |

هُنَاكَ مَجْمُوعَةٌ عَوَامِلَ تُؤَثِّرُ فِي سُرْعَةِ تَغْيِيرِ دَرَجَةِ حَرَارَةِ الْأَشْيَاءِ .
مِثْلُ كَمِّيَّةِ الشَّيْءِ ، دَرَجَةِ حَرَارَةِ الْهَوَاءِ الْمُحِيطِ ، تَحْرِيكِ الشَّيْءِ
وَنَوْعِ مَادَّةِ الْوِعَاءِ الَّذِي يُوضَعُ فِيهِ الشَّيْءُ .



3. مَا الْمَوَادُّ الْمَوْصَلَةُ لِلْحَرَارَةِ وَمَا الْمَوَادُّ الْعَازِلَةُ لَهَا ؟

أَنْظُرْ إِلَى الصُّورِ التَّالِيَةِ. 

أَتَنَاقَشُ مَعَ زَمِيلِي عَنْ كُلِّ شَيْءٍ، وَعَنْ الْمَادَّةِ الْمَصْنُوعِ مِنْهَا، وَنَذْكُرُ لِمَاذَا نَسْتَخْدِمُهُ. 
نَتَوَقَّعُ سَبَبَ اخْتِيَارِ تِلْكَ الْمَادَّةِ لِذَلِكَ الْاسْتِخْدَامِ.



قَارُورَةٌ عَازِلَةٌ لِلْحَرَارَةِ



قِدْرًا عَلَى النَّارِ



صُنْدُوقٌ حَافِظٌ لِلْحَرَارَةِ



قُضْبَانُ تَسْخِينِ الْمَنَاشِفِ



مِلْعَقَةٌ لِتَقْلِيلِ الطَّعَامِ

نَسْتَخْدِمُ صُنْدُوقَ الْكَلِمَاتِ لِإِكْمَالِ الْجُمَلِ الْآتِيَةِ. 

مُوصِلٌ حَرَارِيٍّ

عَازِلٌ حَرَارِيٍّ

1. الْمَادَّةُ الَّتِي تَسْمَحُ بِانْتِقَالِ الْحَرَارَةِ مِنْ خِلَالِهَا تُسَمَّى

2. الْمَادَّةُ الَّتِي لَا تَسْمَحُ بِانْتِقَالِ الْحَرَارَةِ مِنْ خِلَالِهَا تُسَمَّى

أَقْرَأْ لِأَسْتَنْتِجَ مَا الْمُوصِلَاتُ وَالْعَوَازِلُ الْحَرَارِيَّةُ؟

العَوَازِلُ الْحَرَارِيَّةُ



العازلُ الحراريُّ مادَّةٌ لَا تَسْمَحُ لِلْحَرَارَةِ بِالْمُرُورِ مِنْ خِلَالِهَا بِسُهُولَةٍ. تَكُونُ هَذِهِ خَاصِيَّةٌ مُفِيدَةٌ. فَالْحَقِيقَةُ الْمُبْطَنَةُ بِمَادَّةٍ عَازِلَةٍ تَحْفَظُ دَرَجَةَ حَرَارَةِ الطَّعَامِ لِفَتْرَةٍ طَوِيلَةٍ. وَالصَّوْفُ عَازِلٌ لِلْحَرَارَةِ، يَرْتَدِي النَّاسُ فِي الْأَيَّامِ الْبَارِدَةِ مَلَابِسَ صُوفِيَّةً لِلْبَقَاءِ دَافِئِينَ.

المُوصِلَاتُ الْحَرَارِيَّةُ



المُوصِلُ الحراريُّ مادَّةٌ تَسْمَحُ بِمُرُورِ الْحَرَارَةِ مِنْ خِلَالِهَا بِسُهُولَةٍ. تَكُونُ هَذِهِ خَاصِيَّةٌ مُفِيدَةٌ، إِذْ تَسَخَّنُ الْقُدُورُ الْمَعْدَنِيَّةُ بِسُرْعَةٍ لِضَمَانِ طَهْيِ الطَّعَامِ بِالتَّسَاوِي. غَالِبًا مَا يُسْتَخْدَمُ الْمَعْدَنُ فِي أَجْهَزَةِ الْحَاسُوبِ لِلتَّخْلُصِ مِنَ الْحَرَارَةِ الزَّائِدَةِ فِيهِ.

أَذْكُرْ مِثَالًا آخَرَ لِمُوصِلٍ حَرَارِيٍّ وَمِثَالٍ لِعَازِلٍ حَرَارِيٍّ:

عَازِلٌ حَرَارِيٍّ

مُوصِلٌ حَرَارِيٍّ

تَنْقُلُ بَعْضُ مَوَادِّ الْحَرَارَةِ بِسُهُولَةٍ وَتُسَمَّى الْمُوصِلَاتُ الْحَرَارِيَّةُ. بَعْضُ الْمَوَادِّ لَا تَسْمَحُ بِمُرُورِ الْحَرَارَةِ مِنْ خِلَالِهَا بِسُهُولَةٍ وَتُسَمَّى الْعَوَازِلُ الْحَرَارِيَّةُ. الْمُوصِلَاتُ الْحَرَارِيَّةُ مُفِيدَةٌ جَدًّا فِي طَهْيِ الطَّعَامِ. الْعَوَازِلُ الْحَرَارِيَّةُ مُفِيدَةٌ لِلْإِنْقَاءِ عَلَى دَرَجَةِ حَرَارَةٍ ثَابِتَةٍ دَاخِلَ الْوِعَاءِ.



ماذا تعلمت؟

أولاً: أتحقق مما تعلمت بوضع إشارة (✓).

أعرف كيفية تغير درجة حرارة الماء الساخن أو البارد عند تركه في الغرفة. ☐

أعرف خصائص المواد المختلفة من حيث التوصيل الحراري أو العزل الحراري. ☐

ثانياً: التدريبات

1 أضع إشارة (✓) أمام العبارة الصحيحة، وإشارة (✗) أمام العبارة الخاطئة.

درجة حرارة الماء ثابتة. ☐

تنتقل الحرارة من الجسم البارد إلى الهواء المحيط به. ☐

تتأثر سرعة تغير درجة حرارة الشيء بنوع الوعاء الذي يحتويه. ☐

الموصل الحراري لا يسمح بانتقال الحرارة من خلاله. ☐

العوازل الحرارية تستخدم لإبقاء درجة الحرارة ثابتة داخل الوعاء. ☐

2 أشرح بأسرهم لأوضح اتجاه انتقال الحرارة في كل من:



زبدة باردة



طعام ساخن

3 أَكْتُبُ الْعَوَامِلَ الَّتِي تُؤَثِّرُ فِي سُرْعَةِ تَغْيِيرِ دَرَجَةِ الْحَرَارَةِ:

1.
2.
3.
4.

4 أَصِلْ بَيْنَ الصُّورَةِ وَوَصْفِهَا الصَّحِيحِ.



مُوصَلَّةٌ لِلْحَرَارَةِ



عَازِلَةٌ لِلْحَرَارَةِ



